



**PEMERINTAH KABUPATEN SINJAI**  
**DINAS PENDIDIKAN**  
**SD NEGERI 190 CENNING KEC. SINJAI UTARA**




Alamat : Cenning Kel. Lamatti Rilau Kec. Sinjai Utara Kab. Sinjai Email: [40304707.sd190@gmail.com](mailto:40304707.sd190@gmail.com)


**PENILAIAN TENGAH SEMETER GANJIL (PTS)**  
**TAHUN PELAJARAN 2023/2024**


Nama :  
Tema : 1 (Satu). Menyayangi Tumbuhan dan Hewan  
Kelas / Semester : III / 1  
Waktu : 60 Menit  
Hari / Tanggal :


**A. Berikan tanda silang (x) pada jawaban yang paling benar !**

1. Berdasarkan gambar dibawah ini yang menunjukkan sila pertama dari pancasila adalah...

A. 

C. 

B. 

D. 
2. Ada 5 sila dalam Pancasila, yang termasuk Sikap saling menghormati antar sesama termasuk pengamalan sila ke...
  - a. 2
  - b. 4
  - c. 3
  - d. 5
3. Katak mempunyai beberapa daur hidup.Tahapan daur hidup katak adalah ... .
  - a. Telur - kecebong - kecebong berkaki - katak berekor - katak dewasa
  - b. Kecebong berkaki - katak berekor - telur - kecebong - katak dewasa
  - c. Katak berekor - telur - kecebong berkaki - katak dewasa – kecebong
  - d. Telur - kecebong berkaki - kecebong - katak berekor - katak dewasa
4. Perkembang biakan tumbuhan terdiri dari biji, tunas, cangkok (buatan). Cara perkembang biakan tumbuhan pisang adalah...
  - a. Cangkok
  - b. Biji
  - c. Tunas
  - d. Stek
5. Jenis- jenis makhluk hidup adalah manusia, hewan dan tumbuhan. Manusia berkembang biak dengan cara..
  - a. Bertelur
  - b. Melahirkan
  - c. Mmbelah diri
  - d. Tidur
6. Peserta lomba jalan sehat di Kecamatan berkumpul, terdapat 1.115 siswa dan 463 guru. Jumlah seluruh peserta lomba tersebut adalah ... .
  - a. 1.645
  - b. 1.875
  - c. 1.567
  - d. 1.578

7. Koperasi Desa Makmur mempunyai 624 bibit jagung. Bibit jagung tersebut akan dibagikan kepada 6 petani sama rata. Bibit jagung yang diterima oleh para petani seluruhnya adalah ... .
- 106
  - 107
  - 104
  - 108
8. Angka 2003 dibaca...
- Dua ribu rupiah
  - Dua ribu satu
  - Dua ribu lima belas
  - Dua ribu tiga
9. Baris lagu dibawah ini yang memiliki pola yang sama adalah ...



- baris 1 dan 3
  - baris 1 dan 2
  - baris 1 dan 4
  - baris 3 dan 4
10. Garis yang digunakan untuk dasar menggambar ayam adalah garis...
- Lurus
  - Zigzag
  - Datar
  - Lengkung

## B. Isilah titik-titik di bawah ini dengan benar !

11. Bunyi sila ke 3 Pancasila adalah 'Persatuan Indonesia'. Tuliskan 2 Contoh sikap yang mencerminkan rasa persatuan dan kesatuan di lingkungan sekolah ...
12. Tuliskan 2 daur hidup kupu-kupu !
13. Yani suka membuat beberapa boneka dari kain panel dalam 1 hari dia bisa membuat hingga 12 buah boneka. Berapa Boneka yang bisa dibuat oleh Yani dalam 4 hari adalah ... .

14. Dalam membuat gambar ada beberapa macam bentuk garis. Buatlah garis lurus dan garis lengkung

15. Lengkapilah syair lagu dibawah ini...

ANAK AYAM

Tek kotek kotek kotek

Anak ayam turun berkotek

Tek kotek kotek kotek

Anak ayam turun berkotek

Anak ayam turunlah empat

Mati satu

-----\*Selamat Bekerja\*-----