

**PLACEMENT TEST
PENERIMAAN PESERTA DIDIK BARU
MTS PERSIS SUMEDANG
TAHUN AJARAN 2021/2022**


I. PILIHAN GANDA

1. Nabi Isa AS adalah nabi yang telah lahir dari seorang ibu bernama
a. Siti Hajar b. Siti Aminah c. Siti Maryam d. Siti Khadijah
2. Saudara Nabi Musa AS yang membantu perjuangannya berdakwah kepada Raja Fir'aun adalah
a. Nabi Sulaiman AS b. Nabi Isa AS c. Nabi Harun AS d. Nabi Daud AS
3. Kitab suci terakhir yang diturunkan ke bumi oleh Allah SWT adalah
a. Hadis b. Taurat c. Al-Qur'an d. Injil
4. Nama lain Al-Qur'an adalah Al-Huda yang berarti
a. Pembeda b. Pembuka c. Pengingat d. Petunjuk
5. Salah satu Mukjizat yang dimiliki Nabi Musa AS untuk mengalahkan tentara Fir'aun adalah....
a. Tidak mempan dibakar api c. Bisa membelah lautan
b. Tangannya mengeluarkan cahaya d. Bisa memerintah binatang dan jin
6. Pada hari akhir bumi akan bergoncang dengan begitu dahsyat. Hal seperti itu dijelaskan dalam Al-qur'an surat
a. Al-Fatihah b. Az-Zalzalah c. Ar-Rahman d. Al-Lahab
7. Pada hari Kiamat nanti seluruh amal manusia akan dihitung oleh Allah SWT. Oleh karena itu, Hari Kiamat disebut juga dengan sebutan
a. Yaumul Ba'ats b. Yaumuddin c. Yaumul Hisab d. Yaumul Zalzalah
8. Contoh sikap yang mencerminkan keimanan terhadap hari akhir adalah
a. Bekerja menumpuk uang sebelum mati
b. Selalu berbuat baik sesuai syari'at Islam
c. Mencari perlindungan kepada orang lain
d. Berdoa terus menerus sepanjang hari
9. Nama paman Nabi Muhammad SAW yang justru menentanginya berdakwah adalah
a. Abdullah b. Abdul Muthalib c. Abu Thalib d. Abu Lahab
10. Salah satu manfaat membaca Al-qur'an adalah
a. Hutang menjadi terbayar c. Perut menjadi kenyang
b. Mendapat banyak uang seketika d. Hati menjadi tenang

11. Kaki Ozi terkilir
Ozi terjatuh dari sepeda
Gabungan dua kalimat tersebut yang benar adalah.....
a. Kaki Ozi terkilir sebab terjatuh dari sepeda
b. Kaki Ozi terkilir dan terjatuh dari sepeda
c. Kaki Ozi terkilir agar terjatuh dari sepeda
d. Kaki Ozi terkilir jika terjatuh dari sepeda
12. Perhatikan urutan kalimat berikut !
1) Tutup kembali bagian yang sudah dibuka
2) Buka tutup bagian belakang
3) Tekan tombol dengan baik
4) Masukkan baterai dengan kepala ke arah depan
Urutan penggunaan lampu senter secara tepat adalah....
a. 1,2,3,4 b. 2,4,1,3 c. 3,2,4,1 d. 4,3,1,2
13. Pak Amir gemar mengoleksi prangko
Sinonim kata mengoleksi pada kalimat tersebut adalah....
a. mengirimkan b. menempelkan c. mengurutkan d. mengumpulkan
14. Tamin sepedanya kencang sekali
Kata yang tepat untuk melengkapi kalimat di atas adalah....
a. menunggang b. membonceng c. menduduki d. mengendarai
15. Pukul dua belas Salsa pulang sekolah. Ia langsung pulang ke rumah. Salsa tidak pernah bermain sebelum pulang ke rumah. Jika mau bermain,
Kalimat yang tepat untuk melengkapi paragraf di atas adalah....
a. ia selalu minta izin kepada orang tuanya
b. ia cepat-cepat ganti baju tanpa makan
c. ia selalu dipanggil-panggil temannya
d. ia cepat-cepat mengerjakan tugasnya
16. Jangan suka duduk di pintu
.....
Rajinlah engkau membaca buku
Agar otakmu jadi cemerlang
Kalimat yang tepat untuk melengkapi sampiran pantun tersebut adalah....
a. Dibawa itik pulang petang
b. Berbelok jalan ke Tanah Abang
c. Berdayung ke pulau panjang
d. Akan mengganggu orang yang datang
17. Fira anak yang berotak cemerlang
Kalimat berita yang sama maknanya dengan kalimat tersebut adalah....
a. Fira anak yang baik c. Fira anak yang taat
b. Fira anak yang sopan d. Fira anak yang cerdas

18. Setiap sore pemandangan pantai itu sangat indah
Kata depan yang tepat untuk melengkapi kalimat tersebut adalah....
a. pada b. dari c. di d. ke
19. Nita sangat disukai oleh teman-temannya. Selain pintar, ia anak yang cantik dan selalu berpenampilan rapi dan bersih. Teman-teman sekelas selalu menyanjungnya. Akhirnya, Nita merasa tersanjung dan lama kelamaan ia menjadi tinggi hati.
Tema cerita tersebut adalah...
a. kebaikan b. kepedulian c. kesombongan d. kebanggaan
20. Duta dari Bumi Gora (kenal) tarian Sasak di Jakarta
Imbuhan yang tepat untuk melengkapi kata dasar dalam tanda kurung di atas adalah...
a. memper – i b. memper – kan c. me – kan d. ber – kan

21.

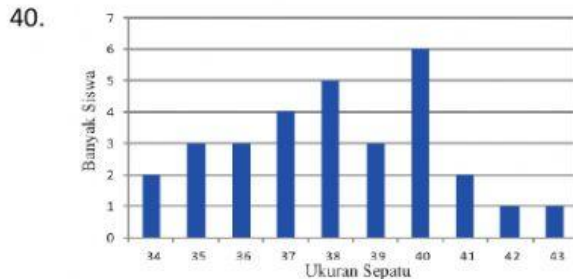


What is the animal in the picture?

- a. Elephant b. Giraffe c. Tiger d. Lion
22. Junior : "Thank you for giving me a candy".
Fadli : ".....".
a. Good morning c. You are welcome
b. What is your name d. Where are
23. Lina : What is ?
Zeni : My name is Zeni
a. Your name c. His name
b. Her name d. Their name
24. Good bye?
a. Selamat pagi c. Selamat tinggal
b. Selamat siang d. Selamat malam
25. What is your name?
a. Siapa namamu? c. Berapa usiamu?
b. Di mana kamu tinggal? d. Apa namamu?
26. How are you?
a. Saya sehat c. Sampai jumpa
b. Apa kabarmu? d. Di mana kamu?
27. Good morning?

- a. Selamat tinggal
b. Selamat siang
c. Selamat sore
d. Selamat pagi
28. I am fine?
a. Apa kabarmu?
b. Ke mana kamu?
c. Saya baik-baik saja
d. Saya sakit
29. How old are you?
a. I am Mira
b. I am a student
c. I am a girl
d. I am 11 years old
30. Nice to meet you...?
a. Apa kabarmu?
b. Selamat siang
c. Senang berjumpa denganmu
d. Berapa umur kamu
31. Hasil dari $500 + 75 \times 12 = \dots$
a. 6.900
b. 1.400
c. 900
d. 587
32. Hasil dari $8 - 4 : (-2) + 6$ adalah...
a. 1
b. 4
c. 8
d. 16
33. Bentuk desimal dari $\frac{3}{8}$ yaitu ...
a. 0,125
b. 0,175
c. 0,325
d. 0,375
34. Bentuk paling sederhana dari hasil penjumlahan $\frac{5}{8} + \frac{3}{4} = \dots$
a. $1\frac{1}{8}$
b. $1\frac{3}{8}$
c. $1\frac{5}{8}$
d. $1\frac{7}{8}$
35. Hasil dari $\frac{1}{5} + 0,25 : 5\% = \dots$
a. 5,00
b. 5,20
c. 9,00
d. 9,20
36. KPK dari 72 dan 96 yaitu...
a. $2^5 \times 3^2$
b. $2^3 \times 3^2$
c. $2^5 \times 3$
d. $2^3 \times 3$
37. Hasil dari $24 + 102$ adalah...
a. 28
b. 36
c. 108
d. 116
38. Hasil dari $\sqrt{9} + \sqrt{6} = \dots$
a. 3
b. 4
c. 7
d. 25
39. Sebuah bangun datar memiliki sifat-sifat sebagai berikut.
i. mempunyai empat sisi dan empat sudut

- ii. hanya mempunyai sepasang sisi sejajar
 - iii. hanya mempunyai dua sudut 90°
- Bangun datar yang memiliki sifat-sifat tersebut adalah...
- a. trapesium siku-siku
 - b. trapesium sama kaki
 - c. persegi
 - d. persegi panjang



- Ukuran sepatu yang paling banyak dipakai siswa adalah nomor...
- a. 38
 - b. 39
 - c. 40
 - d. 41

41. Dilakukannya konservasi Gajah didalam Taman Nasional Way Kambas umumnya memiliki tujuan untuk
- a. Menjaga populasi gajah
 - b. Menjaga habitat alami gajah
 - c. Mengurangi populasi gajah
 - d. Melestarkan flora
42. Fungsi utama dari batang pada tumbuhan yaitu
- a. Sebagai tempat Fotosintesis
 - b. Menopang dan menyokong tumbuhan
 - c. Sebagai alat pernapasan dan menyerap nutrisi
 - d. Menyerap nutrisi dan transportasi
43. Berikut ini contoh dari hubungan Simbiosis Mutualisma ditunjukkan oleh
- a. Gulma dan tumbuhan padi
 - b. Tali putri dan teh-tehan
 - c. Burung jalak dan kerbau
 - d. Pohon besar dan anggrek

44. perhatikan tabel dibawah ini!

No	Nama Hewan	Cara Adaptasi
1.	Ikan lele	Memiliki misai
2.	Burung pelatuk	Paruh runcing dan melengkung
3.	Cumi-cumi	Memancarkan cahaya
4.	Trenggiling	Mengeluarkan bau menyengat

- Pasangan dan hewan dengan metode adaptasinya yang benar ditunjukkan oleh nomor...
- a. 2 dan 4
 - b. 1 dan 4
 - c. 2 dan 3
 - d. 1 dan 3

45. Petani menghadapi kegagalan panen yang diakibatkan oleh hama wereng. Siklus hidup dari hama wereng yang menyebabkan petani merugi yaitu
- Ukuran sepatu yang paling banyak dipakai siswa adalah nomor...
- a. Telur
 - b. Pupa
 - c. Nifa
 - d. Imago

46. Perhatikan gambar berikut ini!



Hewan diatas yang mengalami porses metamorfosis seperti yang ada di gambar yaitu

....

- a. Lalat dan rayap
- b. Lebah dan rayap
- c. Nyamuk dan lebah
- d. Kecoa dan jangkrik

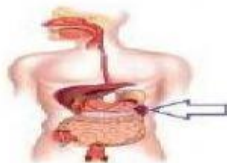
47. Perhatikan gambar berikut ini!



Dari gambar tersebut bagian dari sistem gerak yang termasuk sebagai anggota gerak ditunjukkan oleh nomor

- a. 1 dan 2
- b. 2 dan 3
- c. 1 dan 4
- d. 2 dan 4

48. Perhatikan gambar berikut ini!



Organ pencernaan dari gambar yang ada diatas yang ditunjuk oleh anak panah memiliki fungsi ...

- a. Memproduksi hormon insulin
- b. Memproduksi jus empedu
- c. Menyaring gula darah
- d. Menghasikan racun

49. Salah satu bagian dari sistem respirasi yang berperan sebagai tempat pertukaran Oksigen dengan Karbondioksida yaitu

- a. Hidung
- b. Tenggorokan
- c. Bronkiolus
- d. Alveolus

50. Ciri-ciri fisik dari pria yang sudah mengalami masa pubertas yaitu....

- a. Tumbuh jakun, suara membesar dan pinggul membesar
- b. Dada bidang, pinggul membesar dan otot membesar
- c. Tumbuh payudara, pinggul membesar dan suara nyaring

d. Dada bidang, muncul jakun dan suara membesar