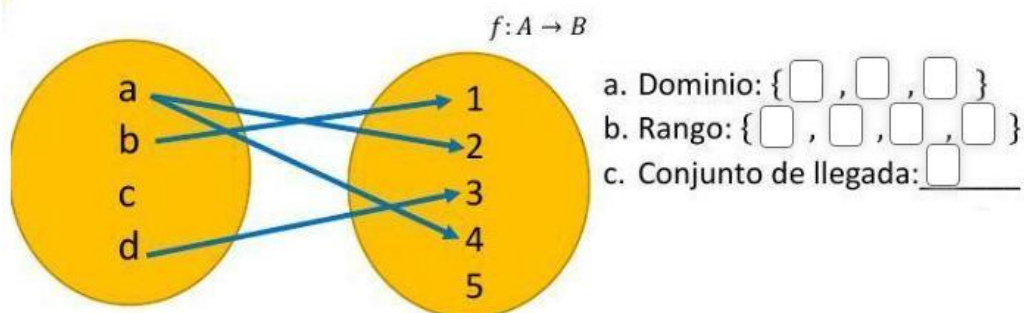
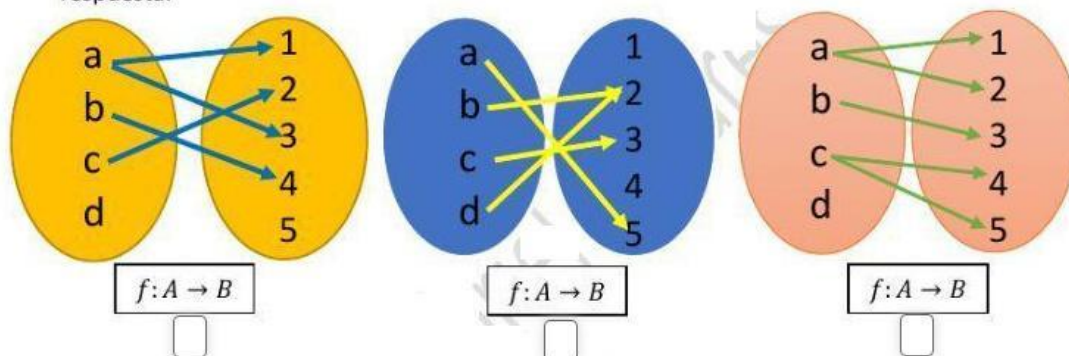


RANGO Y DOMINIO DE UNA FUNCIÓN

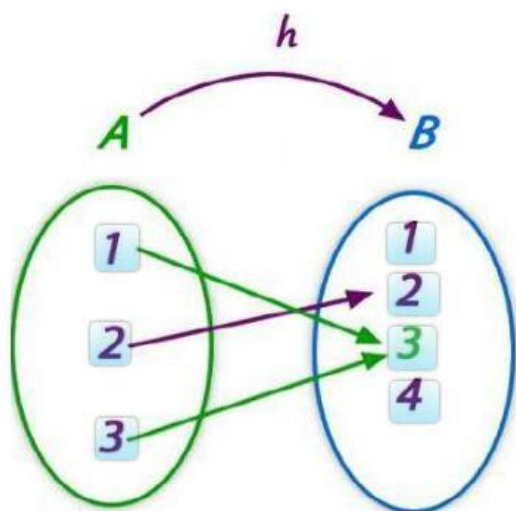
1. Determine el dominio; el conjunto de llegada y el rango de la siguiente función



2. Marque con una X, cuál de los diagramas sagitales representa una función. Justifique su respuesta.



3. Seleccione los elementos del codominio



4. Escriba para cada función los valores de los coeficientes en el recuadro

A $f(x) = 4x + 10 - 16x^2$

B $f(x) = -6x + 5 + x^2$

$f(x)$	a	b	c
A	<input type="text"/>	<input type="text"/>	<input type="text"/>
B	<input type="text"/>	<input type="text"/>	<input type="text"/>