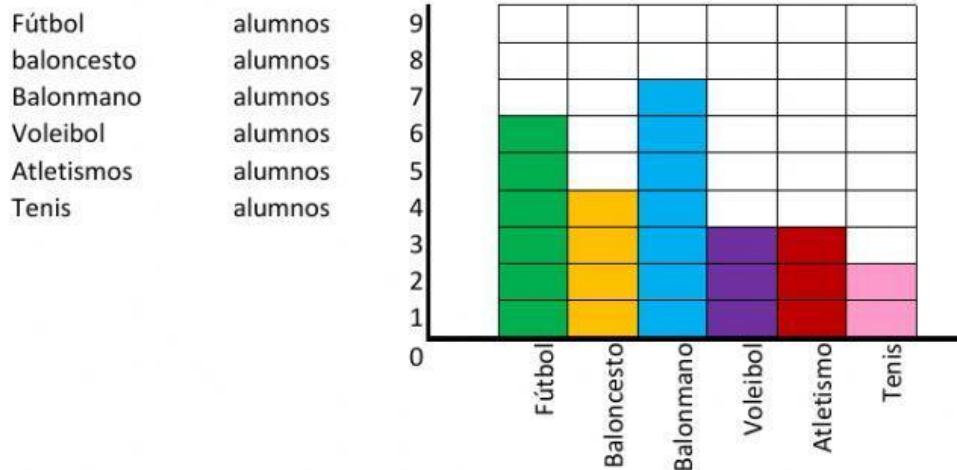




SAN FELIPE NERI
Cádiz

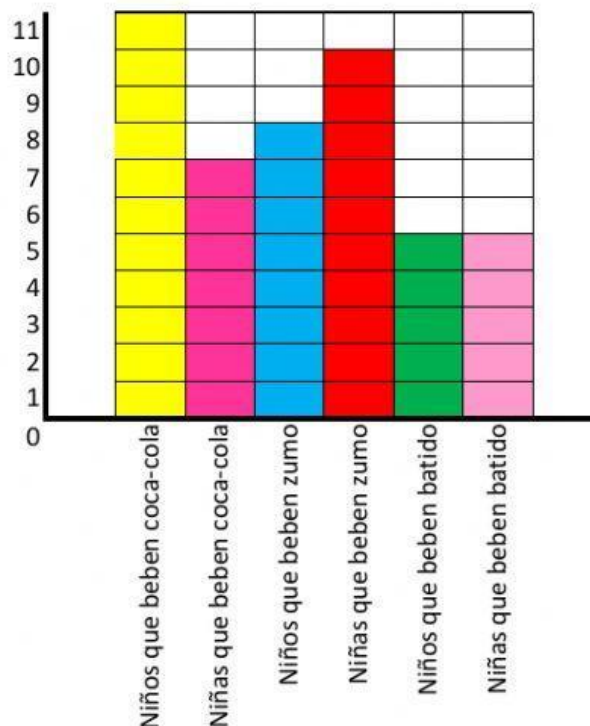
Nombre: _____ Fecha: _____ Curso: _____ Nº _____

1.- Realiza un diagrama de barras con los deportes que les gustan a los niños de la clase de 3º D. Colorea cada deporte de un color.



¿Cuántos alumnos hay en esta clase? ____

2.- En el siguiente diagrama de barras dime cuántos niños y niñas beben de cada tipo de refresco



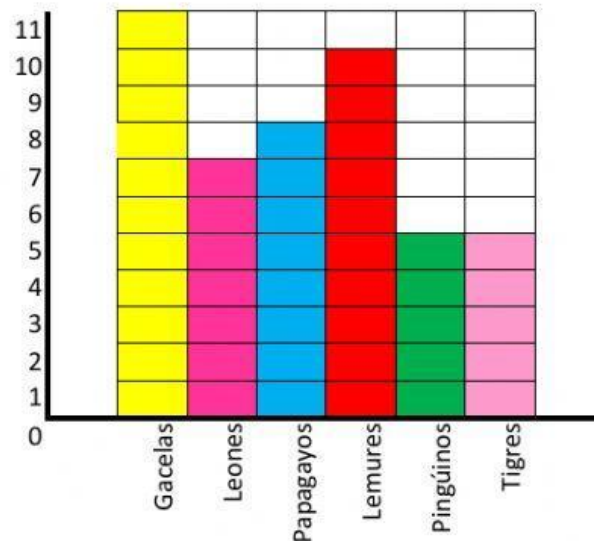
Niños que beben coca-cola
Niños que beben zumo
Niños que beben batido

Niñas que beben coca- cola
Niñas que beben zumo
Niñas que beben batido

¿Cuántos niños hay en total?

¿Cuántas niñas hay en total?

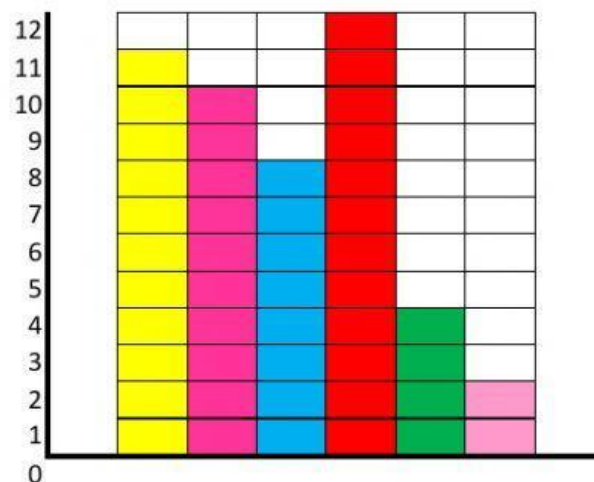
3.- Vamos a ir al zoo de excursión y nos han pasado en un diagrama de barras la información de los animales que vamos a ver. ¿Cuántos pingüinos hay en este zoo?
¿Cuántos leones tienen en el zoo?



¿Qué animal es el que hay más en el zoo?
¿Cuántos papagayos hay más que pingüinos?
¿Cuántos animales hay en total en el zoo?

¿Cuántas hay?

4.- Entre los juguetes que tengo del fuerte, hay 11 indios, 8 caballos, 12 vaqueros, 2 carretas, 10 soldados y 4 torretas. En el siguiente diagrama pon el nombre correcto en cada barra.



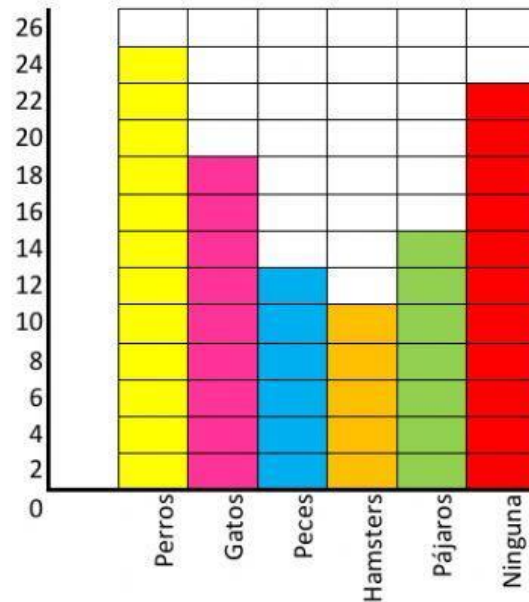
¿Cuántas figuras tengo en total?



SAN FELIPE NERI
Cádiz

Nombre: _____ Fecha: _____ Curso: _____ Nº _____

5,. En quinto de primaria se han recogido los datos del tipo de mascota que tiene cada alumno y se ha trasladado esta información al diagrama de barras.



- ¿Cuántos alumnos tienen gatos?
- ¿Cuántos alumnos no tienen ninguna mascota?
- ¿Cuántos alumnos tienen pájaros?
- ¿Cuál es la mascota que tienen menos alumnos?
- ¿Cuál es la mascota que más tienen los alumnos de 5º?
- ¿Cuántas mascotas hay en 5º de primaria?
- ¿Cuántos alumnos hay en 5º de primaria?