


RELACIONA Y COMPLETA:

$$\frac{1}{3}$$

$$\frac{2}{\quad}$$

$$\frac{\quad}{12}$$

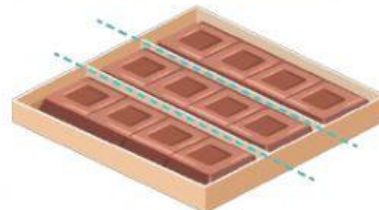
9 amigos y
2 pizzas




12 amigos y
3 quesos



3 amigos y
1 tableta



PROBLEMA:



En el recreo Jorge se dejó la merienda en casa, así que el resto de los compañeros/as decidimos juntar nuestras frutas para dividirlos y tomar todos la misma cantidad de gajos. Si somos 9 amigos/as, ¿cuántos gajos vamos a comer cada uno?