

أصل بخط بين العدد والقيمة المنزلية :

1 عشرات =

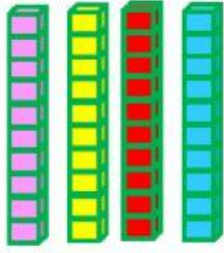
4 عشرات =

6 عشرات =






أجد ناتج جمع الأعداد التالية :



عشرات

4




عشرات

3



عشرات



+

=

+

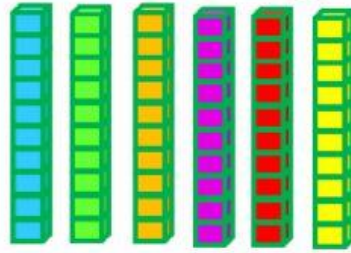
=

أجد ناتج جمع الأعداد التالية :



عشرات

2




عشرات

6



عشرات



+

=

+

=



أجدُ ناتج جمع الأعداد التالية :

عشرات

1

+

عشرات

8

=

عشرات



+



=



اختر الإجابة الصحيحة:

$$20 + 40 =$$



اختارُ الإجابة الصحيحة:

$$30 + 10 =$$



اختارُ الإجابة الصحيحة:

$$50 + 20 =$$

