

ESCUELA ROGELIO FERNÁNDEZ GÜELL



Prueba Comprensiva de Matemática

Tiempo estimado: 80 minutos

Docente: Gloriana Castro Gutiérrez

Sección 2-4

II Periodo, segundo grado

Valor: 37 puntos

Fecha: jueves 17 de agosto de 2023.

Puntos obtenidos: _____

Nombre: _____

Calificación: _____

INSTRUCCIONES GENERALES

1. Elementos que debe tomar en cuenta para la elaboración de la prueba:

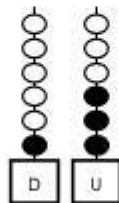
- o Escuche con atención las indicaciones del docente.
- o Lea todas las actividades.
- o Trabaje en orden y aseo.
- o Utilice lápiz.
- o En caso de duda levante la mano y consulte a su docente.
- o Evite hablar y ponerse de pie.
- o Al terminar las actividades deberá entregar la prueba al docente para su evaluación.

Selección de Respuesta

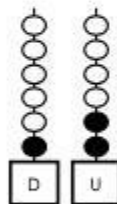
Valor 11 puntos

Marque con una X dentro del paréntesis la respuesta correcta. (Valor 11 puntos, 1 punto cada respuesta correcta)

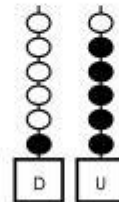
1. ¿Cuál ábaco representa el número 12?



()



()



()