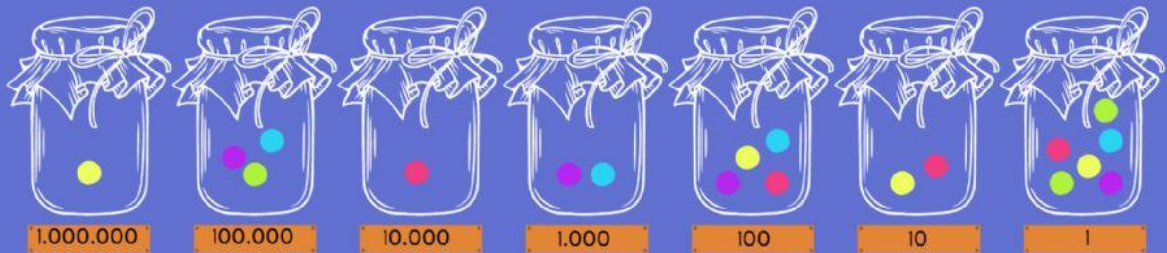


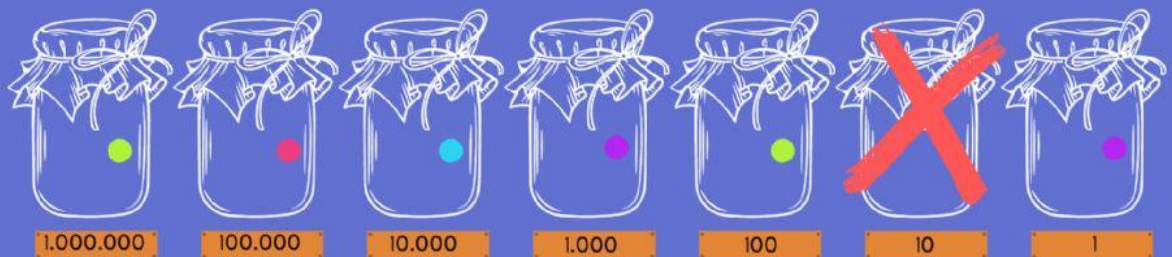
# COMPOSICIÓN Y DESCOMPOSICIÓN

**1** EN ESTE JUEGO HAY QUE EMBOCAR BOLITAS EN FRASCOS QUE TIENEN DIFERENTES PUNTAJES. EN LA IMAGEN SE VEN LAS BOLITAS QUE EMBOCÓ ANA.



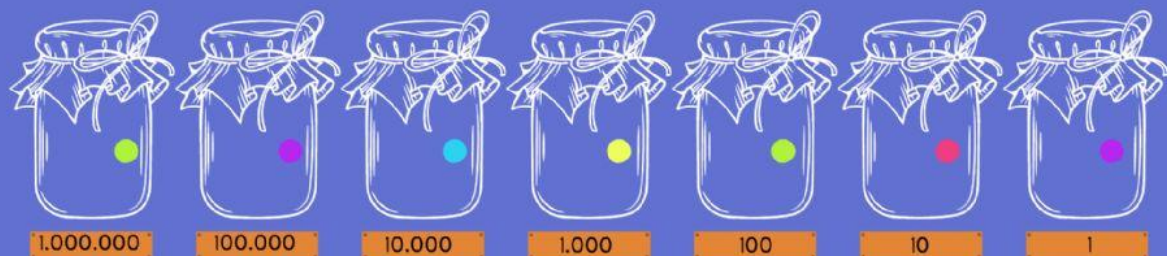
**A** ¿ES CIERTO QUE ANA OBTUVO 1.312.426 PUNTOS?

**B** JUAN TIENE 1.345.211 PUNTOS, PERO NO EMBOCÓ NINGUNA BOLITA EN EL FRASCO DE 10 PUNTOS ¿CÓMO HABRÁ ARMADO ESA CANTIDAD?



**2** PARA CALCULAR SU PUNTAJE, DANIELA HIZO EL SIGUIENTE CÁLCULO:  
 $5 \times 1.000.000 + 3 \times 10.000 + 4 \times 1.000 + 8 \times 100 + 7 \times 1$

**A** ¿CUÁNTAS BOLITAS PUDO HABER EMBOCADO Y EN QUÉ FRASCOS?



**B** ¿CUÁNTOS PUNTOS OBTUVO?

RTA: OBTUVO UN TOTAL DE PUNTOS.

