

ESCOLA MUNICIPAL AVELINO JOVE DE ABREU

PROFESSORA: _____ SÉRIE: _____ TURMA: _____ DATA: ____/____/____.

ALUNO(A): _____

CIÊNCIAS

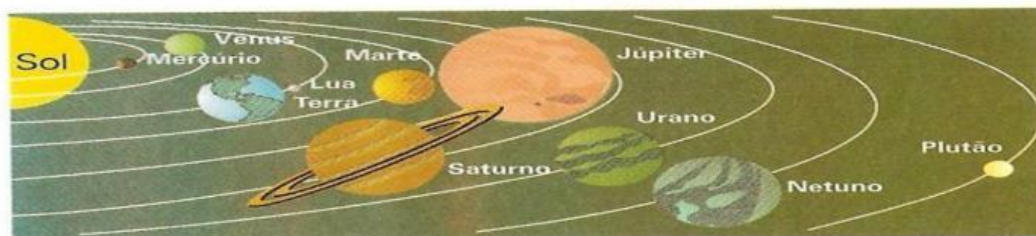
PLANETA TERRA

O Mundo em que Vivemos

A Terra

Lembre que:

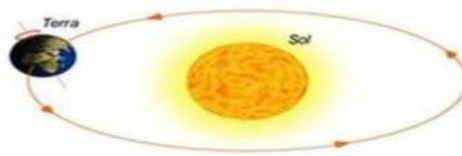
- A Terra, o planeta em que vivemos, faz parte do Sistema Solar.
- O Sistema Solar é formado por uma estrela (o Sol), nove planetas e vários satélites.
- **Astros** são corpos celestes. Eles podem ter luz própria ou não.
- As **estrelas** são astros que têm luz própria, como o Sol. O Sol ilumina os outros astros do Sistema Solar.
- Os **planetas** são astros que não possuem luz própria e giram ao redor do Sol. São eles: Mercúrio, Vênus, Terra, Marte, Júpiter, Saturno, Urano, Netuno e Plutão.
- Os **satélites** são astros que não têm luz própria e giram ao redor de um planeta. A Lua é satélite da Terra.



Você já sabe que a água ocupa a maior parte do nosso planeta.

-Este desenho é uma representação:

- ☐ Da lua
- ☐ Do sol
- ☐ Da terra



A TERRA E O UNIVERSO

Universo é tudo aquilo que existe, é formado pelo conjunto de planetas, cometas, estrelas, galáxias, satélites etc.

. A Terra é:

☐

um astro luminoso porque possui luz própria.

☐

um astro iluminado porque não possui luz própria.

. A Terra gira em torno de qual estrela?

. O satélite natural da Terra é:

☐

cometa

☐

Sol

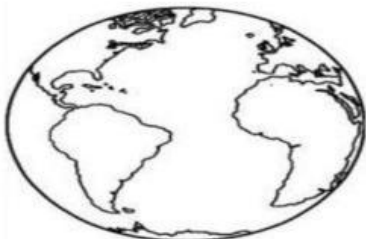
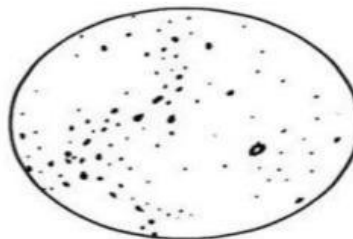
☐

Saturno

☐

Lua

MARQUE ABAIXO O DESENHO QUE REPRESENTA NOSSO PLANETA.

☐☐☐

OBSERVANDO OS PLANETAS ACIMA, VOCÊ PODE DIZER QUE SÃO?

☐

TRIANGULARES

☐

QUADRADOS

☐

ARREDONDADOS

☐

RETANGULARES

