

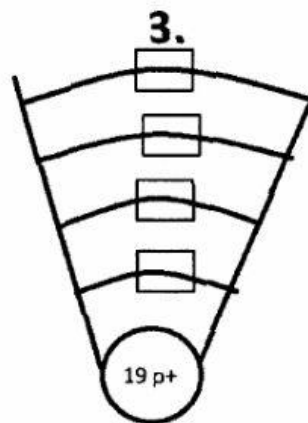
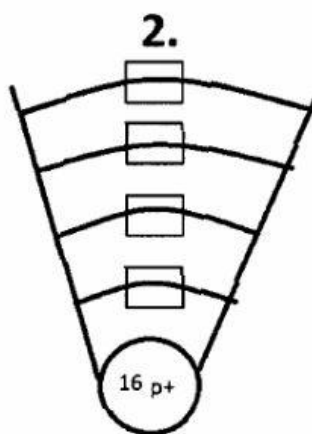
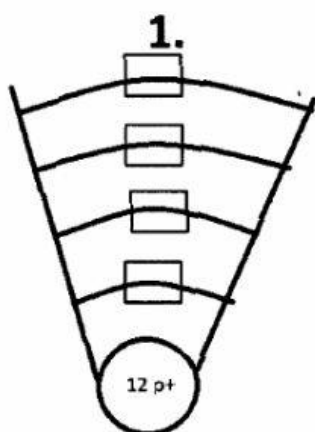
test: **stavba atomu**

Doplňte tabulku:

Značka	Název prvku	Nukleonové číslo	Protonové číslo	Počet protonů	Počet neutronů	Počet elektronů
Pb					125	
	vápník	40				
		28				14
K					20	
					30	26
	jód	127				
Au					118	

Doplňte do modelu atomu správně elektrony a prvek pojmenujte:

(do políčka v jednotlivých vrstvách napište počet elektronů, které daná vrstva obsahuje)



	značka prvku	název prvku	počet vrstev elektronového	počet valenčních elektronů
1.				
2.				
3.				