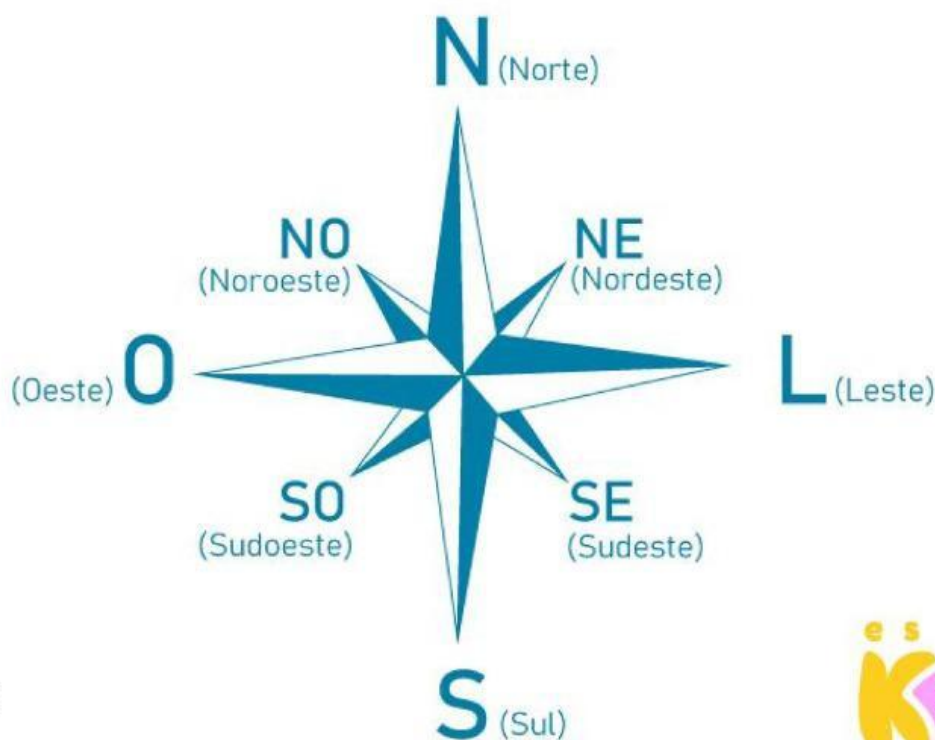


PONTOS CARDEAIS

OS **PONTOS CARDEAIS** SÃO UTILIZADOS COMO **REFERÊNCIA**, POIS COM ELES ENCONTRAMOS QUALQUER LUGAR SOBRE A SUPERFÍCIE DA TERRA. QUANDO VOCÊ ESTÁ À PROCURA DE ALGUM LUGAR, VOCÊ UTILIZA ALGUMAS REFERÊNCIAS, NÃO É MESMO? AS REFERÊNCIAS PODEM SER O NOME DA RUA, UM COMÉRCIO DA REGIÃO, O NÚMERO DA CASA, O CEP. TUDO ISSO FACILITA A PROCURA POR UM ENDEREÇO.

QUAIS SÃO OS PONTOS CARDEAIS?

OS PONTOS CARDEAIS SÃO: **NORTE (N)**, **SUL (S)**, **LESTE (L)** E **OESTE (O)** E FORAM DEFINIDOS HÁ MUITOS ANOS, PELAS CIVILIZAÇÕES ANTIGAS. É POR MEIO DELES QUE AS PESSOAS CONSEGUIAM LOCALIZAR-SE, POIS NÃO HAVIA PLACAS COM OS ENDEREÇOS. ASSIM, FOI CRIADA A ROSA DOS VENTOS, QUE PARECE UMA ESTRELA, E EM SUAS PONTAS ENCONTRAMOS AS LETRAS DOS **PONTOS CARDEAIS** E **PONTOS COLATERAIS**.



A ROSA DOS
CARDEAIS.

OS PONTOS

VOCÊ SABE COMO IDENTIFICAR OS PONTOS CARDEAIS?

O SOL É NOSSO GRANDE ALIADO NESSA ATIVIDADE. VOCÊ PRECISA ESTICAR SEU **BRAÇO DIREITO PARA A DIREÇÃO EM QUE O SOL NASCE**. CHAMAMOS ESSA POSIÇÃO DE NASCENTE. LOGO APÓS IDENTIFICÁ-LA, VOCÊ TERÁ ENCONTRADO O **PONTO LESTE (L)**. EM SEGUIDA, ESTIQUE O **BRAÇO ESQUERDO PARA A OUTRA DIREÇÃO** E VOCÊ ENCONTRARÁ O **PONTO OESTE (O)**. À SUA FRENTE, VOCÊ TERÁ O PONTO NORTE (N) E, ATRÁS DE VOCÊ, O PONTO SUL (S).



ALÉM DOS PONTOS CARDEAIS, TEMOS TAMBÉM OS **PONTOS COLATERAIS**. COM ELES CONSEGUIMOS IDENTIFICAR AS **REGIÕES ENTRE OS PONTOS CARDEAIS**. SÃO ELES: NORDESTE (NE), SUDESTE (SE), NOROESTE (NO) E SUDOESTE (SO).


OS INSTRUMENTOS CRIADOS PARA SE LOCALIZAR EM UM DETERMINADO LUGAR TAMBÉM SOFRERAM MODIFICAÇÕES AO LONGO DO TEMPO. A **BÚSSOLA**, POR EXEMPLO, FOI SUBSTITUÍDA PELO **GPS**. VOCÊ JÁ DEVE TER VISTO UM ADULTO DIZER: “PROCURA O ENDEREÇO NO GPS!”. ISSO PORQUE ESSE INSTRUMENTO JÁ TEM GRAVADO EM SI O MAPA DAS CIDADES, COM OS ENDEREÇOS E COMPLEMENTOS, O QUE DEIXOU A BUSCA POR DETERMINADA LOCALIZAÇÃO MAIS FÁCIL.

Fonte: <https://escolakids.uol.com.br/geografia/pontos-cardeais.htm>

RESPONDA

1 - QUAIS SÃO OS PONTOS CARDEAIS?


2 - ESCREVA OS PONTOS CARDEAIS NA IMAGEM A SEGUIR:



3 - ESCREVA A LETRA INICIAL DE CADA FIGURA E CONHEÇA OS PONTOS CARDEAIS.

DE BRAÇOS ABERTOS, APONTE O BRAÇO DIREITO PARA O LADO QUE O SOL NASCE. ESTE É O NASCENTE, OU





DO LADO ESQUERDO VOCÊ TERÁ O POENTE, OU



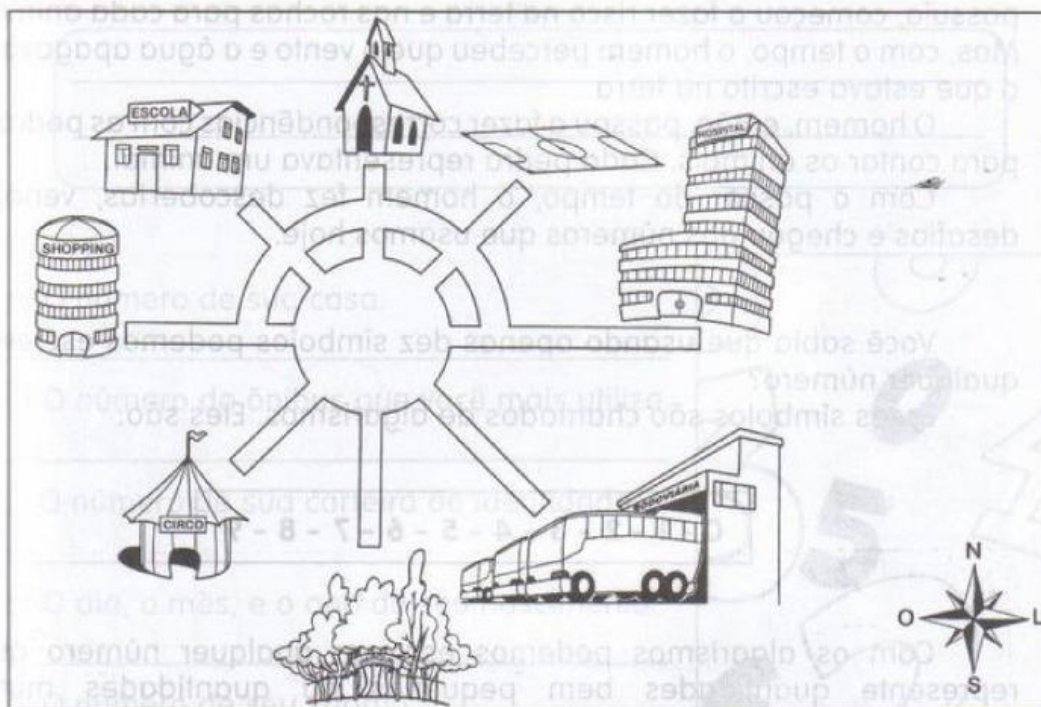
ATRÁS DE VOCÊ FICARÁ, O



NA SUA FRENTE FICA O



4 - ESTA É A PRAÇA DE UMA PEQUENA CIDADE DO INTERIOR. OBSERVANDO A ROSA-DOS-VENTOS, LOCALIZE O QUE SE PEDE, CONFORME OS PONTOS CARDEAIS E COLATERAIS.



A) O HOSPITAL ESTÁ NO _____.

B) A IGREJA ESTÁ NO _____.

C) O PARQUE ESTÁ NO _____.

D) A RODOVIÁRIA ESTÁ NO _____.

E) O CIRCO ESTÁ NO _____.

F) A ESCOLA ESTÁ NO _____.

G) O CAMPO DE FUTEBOL ESTÁ NO _____.

H) O SHOPPING ESTÁ NO _____.

5 - AGORA VAMOS VISITAR A NOSSA ESCOLA VIRTUALMENTE UTILIZANDO O GOOGLE EARTH.

CLIQUE NA FOTO DA NOSSA ESCOLA!



<https://earth.google.com/web/search/EMEIEF+Zilnete+Pereira+Guimar%c3%a3es+-+Praia+do+Morro+-+Rua+Veneza+-+Praia+do+Morro,+Guarapari+-+ES/@-20.6483204,-40.4860242,7.96298448a,981.05889341d,35y,0h,45t,0r/data=CssBGqABEpkBCiMweGI4NTc2ZjZjYjZiNjRiOjB4NjA1NjgyY>