


PROBLEMAS (2)



1. Sergio compró 3 cajas de lápices de colores. Cada caja tiene 12 lápices.
¿Cuántos lápices de colores compró Sergio??

Escribe en los círculos el número de lápices de colores que tiene cada caja.



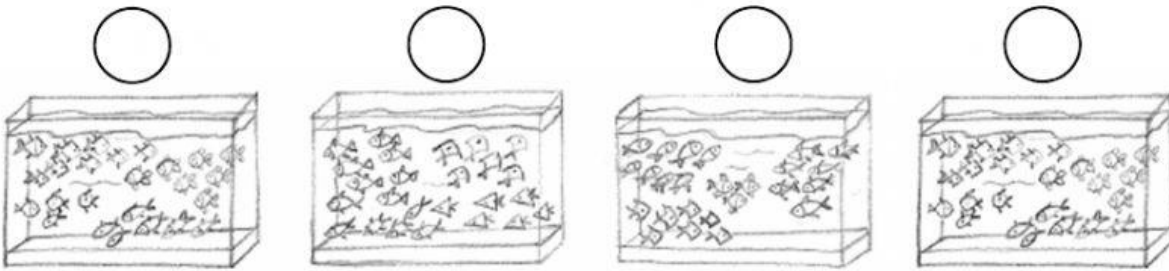
$$\begin{array}{r} \text{ } \\ \text{ } \\ \hline \text{ } \end{array}$$

A multiplication table with a grid of boxes. The top row has two boxes containing the numbers 1 and 2. The second row has an empty circle in the first column and an empty box in the second column. A horizontal line is drawn below the second row. The bottom row has two empty boxes.

Sergio compró _____ lápices .

4. En una tienda de mascotas hay 4 acuarios. En cada acuario hay 21 peces.
¿Cuántos peces hay en total?

Escribe en los círculos el número de peces que hay en cada acuario.

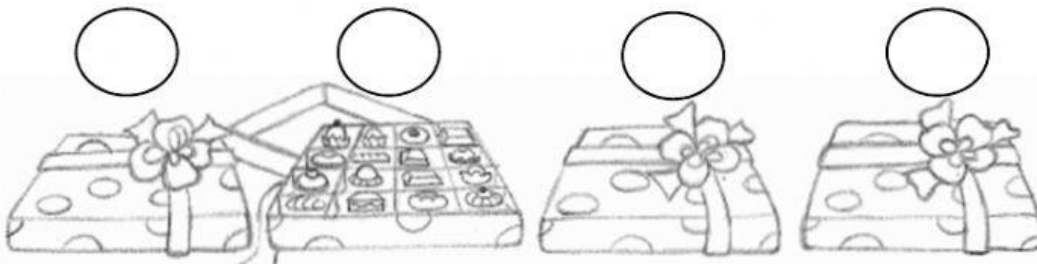


○		
—		

En total hay _____ peces .

5. A Rodrigo le han regalado 4 cajas de bombones. Cada caja tiene 102 bombones. ¿Cuántos bombones le han regalado a Rodrigo?

Escribe en los círculos el número de bombones que hay en cada caja.



○			
—			

Le han regalado _____ bombones .