

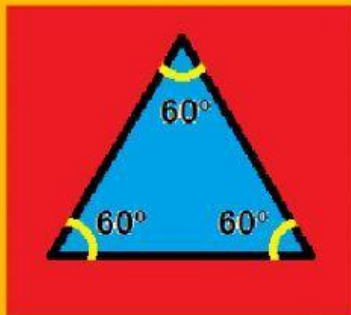
CLASIFICACIÓN DE LOS TRIÁNGULOS

HAZ CLIK PARA VER EL VÍDEO



Después haz klik en las respuestas correctas:

1. CLASIFICA ESTE TRIÁNGULO:

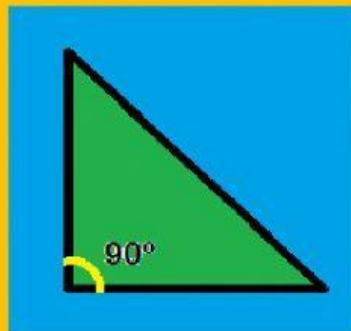


ACUTÁNGULO

RECTÁNGULO

OBTUSÁNGULO

2. CLASIFICA ESTE TRIÁNGULO:

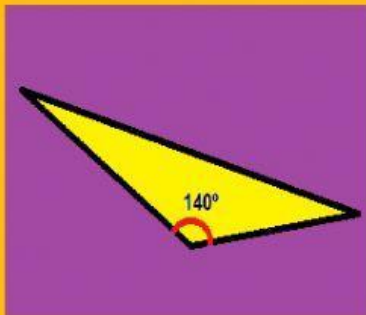


ACUTÁNGULO

RECTÁNGULO

OBTUSÁNGULO

3. CLASIFICA ESTE TRIÁNGULO:

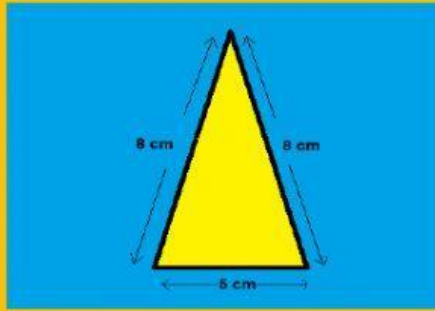


ACUTÁNGULO

RECTÁNGULO

OBTUSÁNGULO

4. **CLASIFICA ESTE TRIÁNGULO:**

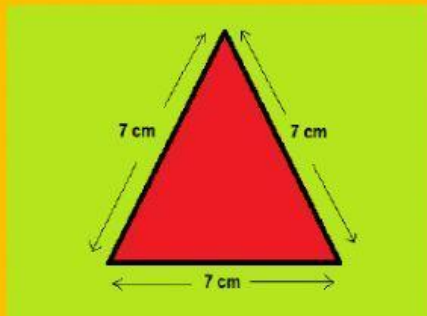


EQUILÁTERO

ISÓSCELES

ESCALENO

5. **CLASIFICA ESTE TRIÁNGULO:**

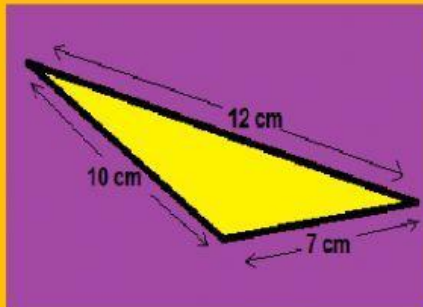


EQUILÁTERO

ISÓSCELES

ESCALENO

6. **CLASIFICA ESTE TRIÁNGULO:**

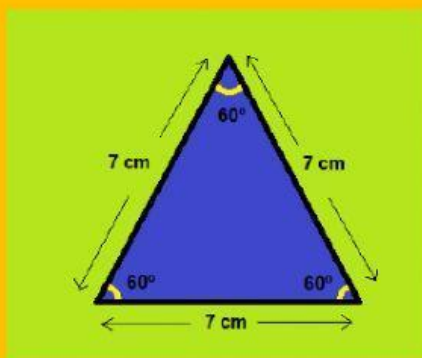


EQUILÁTERO

ISÓSCELES

ESCALENO

7. **CLASIFICA ESTE TRIÁNGULO:**

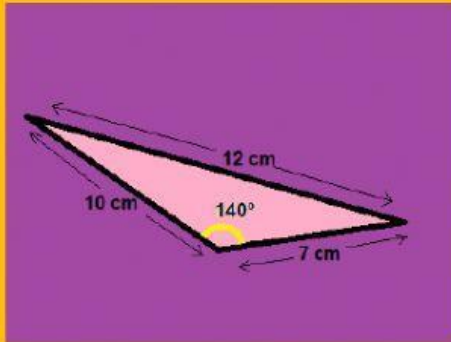


EQUILÁTERO Y RECTÁNGULO

ISÓSCELES Y ACUTÁNGULO

EQUILÁTERO Y ACUTÁNGULO

8. **CLASIFICA ESTE TRIÁNGULO:**

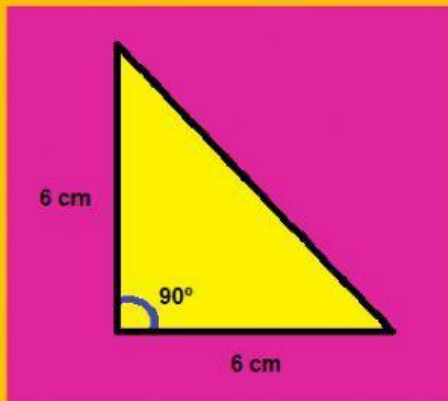


ESCALENO Y OBTUSÁNGULO

EQUILÁTERO Y RECTÁNGULO

ISÓSCELES Y ACUTÁNGULO

9. **CLASIFICA ESTE TRIÁNGULO:**

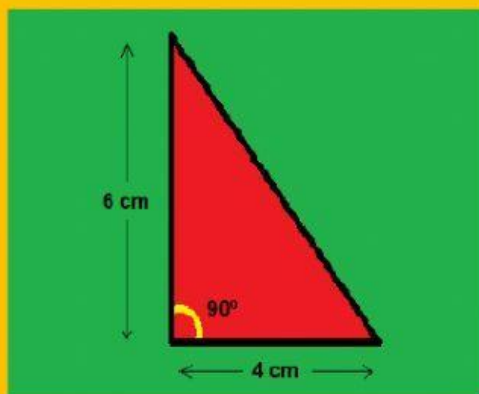


ISÓSCELES Y ACUTÁNGULO

ISÓSCELES Y RECTÁNGULO

EQUILÁTERO Y RECTÁNGULO

10. **CLASIFICA ESTE TRIÁNGULO:**



EQUILÁTERO Y RECTÁNGULO

ISÓSCELES Y ACUTÁNGULO

ESCALENO Y RECTÁNGULO