

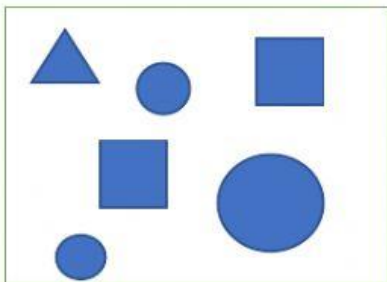
Comprendere l'italiano prima di
eseguire gli esercizi di matematica



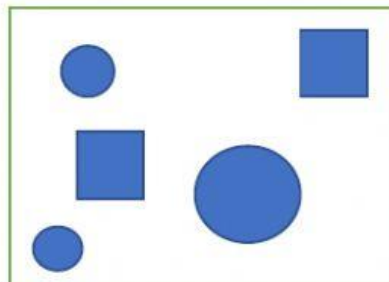
LEGGI ATTENTAMENTE E FAI ATTENZIONE ALLE PAROLE SOTTOLINEATE

1. QUANTI NUMERI SONO COMPRESI TRA 23 E 26?
2. QUALI NUMERI SONO COMPRESI TRA 23 E 26?
3. QUANTI NUMERI SONO I NUMERI COMPRESI TRA 72 E 77?
4. QUALI SONO I NUMERI COMPRESI TRA 72 E 77?
5. IN QUALE GRUPPO CI SONO SOLO 3 CERCHI E 2 QUADRATI?

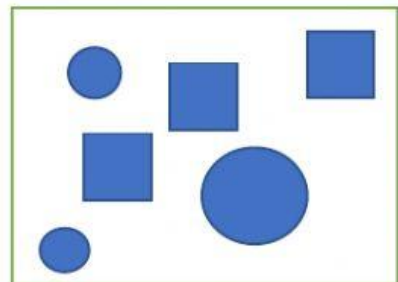
A



B



C



- 6 INSERISCI UNA X DOVE L'UGUAGLIANZA E' VERA

$$12 + 3 = 16 - 1$$

$$4 \times 3 = 20 - 8$$

$$5 + 6 = 10 + 3$$

$$1 \text{ da} + 18 \text{ u} = 30 - 2$$

$$3 \text{ da} = 18 \text{ u} + 1 \text{ da} + 2$$