




KERJAKANLAH TUGAS DI BAWAH INI ! JAWAB LANGSUNG PADA APLIKASI !

Skor ...

### Uji Pembelajaran 3


I. Berilah tanda silang (x) huruf a, b, atau c pada jawaban yang paling benar!

- Gerakan yang bisa ditirukan dari hewan kelinci adalah gerakan .... (SBdP - KD 3.3)
  - berjalan
  - melompat
  - terbang
- Setelah hari Kamis adalah hari .... (Bahasa Indonesia - KD 3.7)
  - Rabu
  - Selasa
  - Jumat
- Beni memberi makan kelinci setiap hari .... (Bahasa Indonesia - KD 3.7)
  - Senin
  - Selasa
  - Rabu
- Berikut yang **bukan** satuan baku berat adalah .... (Matematika - KD 3.6)
  - gram
  - kilogram
  - meter
- Timbangan yang digunakan oleh penjual emas adalah .... (Matematika - KD 3.6)
  - 
  - 
  - 

Skor ...

### Uji Pembelajaran 4

I. Berilah tanda silang (x) huruf a, b, atau c pada jawaban yang paling benar!

- Burung terbang menggunakan .... (SBdP - KD 3.3)
  - tangan
  - sayap
  - kaki
- Berikut yang **bukan** gerakan ayam adalah .... (SBdP - KD 3.3)
  - melayang
  - melata
  - mengepakkan sayap
- Penulisan nama bulan yang **salah** adalah .... (Bahasa Indonesia - KD 3.7)
  - Agustus
  - Januari
  - Febuari
- Bahan yang ditimbang Dayu untuk membuat kue adalah .... (Matematika - KD 3.6)
  - mentega
  - telur
  - cokelat
- 

Berat buah mangga pada gambar di atas adalah .... kg. (Matematika - KD 3.6)

  - 3
  - 2
  - 1