

# แบบฝึกหัดวิชาวิทยาศาสตร์ 5

## เรื่อง การสะท้อนของแสง

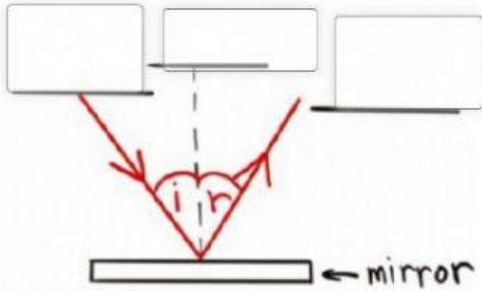


ชื่อ

ชั้น ม.3/

เลขที่


1. จงเติมข้อความในช่องว่างให้สมบูรณ์



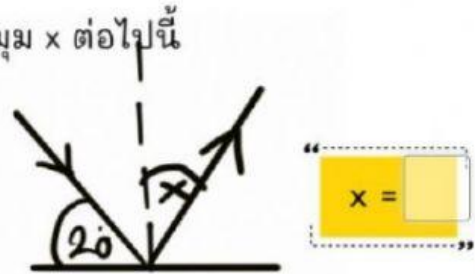
i คือ

r คือ


2. จากภาพการสะท้อนของแสง จงหาค่าของมุม x ต่อไปนี้



x =



x =

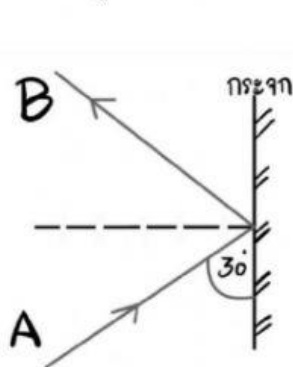


x =



x =

4. จากรูปการสะท้อนของกระจก จงตอบคำถามต่อไปนี้



- รังสีใดคือรังสีตกกระทบ
- รังสีใดคือรังสีสะท้อน
- มุมตกกระทบมีขนาดกี่องศา
- มุมสะท้อนมีขนาดกี่องศา
- รังสีสะท้อนทำมุมกับแนวกระจกกี่องศา