





Uji Subtema 3

PPKn

(Kompetensi Dasar 3.1)

Skor ...

I. Berilah tanda silang (x) huruf a, b, c, atau d pada jawaban yang paling benar!

- Berikut sikap yang harus dimiliki seorang pemimpin, **kecuali**
 - kesatria
 - bijaksana
 - jujur
 - sombong
- Menghormati hak orang lain merupakan pengamalan Pancasila, sila
 - kesatu
 - kedua
 - ketiga
 - kelima
- Simbol dari sila "Kemanusiaan yang adil dan beradab" adalah
 - 
 - 
 - 
 - 
- Salah satu contoh sikap adil kepada diri sendiri adalah
 - memberikan tempat duduk kepada orang tua
 - tidak menyerobot antrian
 - menolong orang yang kesusahan
 - memberikan waktu istirahat yang cukup bagi tubuh
- Sila kelima Pancasila dilambangkan dengan
 - kepala banteng
 - padi dan kapas
 - pohon beringin
 - rantai

II. Jawablah pertanyaan-pertanyaan di bawah ini dengan benar!

- Tuliskan bunyi sila keempat Pancasila!
- Jelaskan tentang musyawarah menurut pemahamanmu sendiri!
- Sebutkan makna dan nilai-nilai yang terkandung dalam sila kelima Pancasila!

Bahasa Indonesia

(Kompetensi Dasar 3.3)

Skor ...

I. Berilah tanda silang (x) huruf a, b, c, atau d pada jawaban yang paling benar!

- Orang yang ahli dalam berpidato disebut
 - orator
 - narator
 - ilustrator
 - konduktor
- Berikut unsur-unsur dalam pidato, **kecuali**
 - pembuka
 - isi
 - penutup
 - simpulan
- Hal yang harus diperhatikan ketika menyampaikan pidato adalah
 - lafal
 - penonton
 - tata panggung
 - tata rias
- Berikut hal yang terdapat pada bagian penutup pidato, **kecuali**
 - salam penutup
 - simpulan
 - uraian materi pidato
 - permintaan maaf

5. Kata "selamat pagi" biasanya diucapkan dalam pidato pada bagian
- salam penutup
 - penutup
 - pendahuluan
 - salam pembuka

II. Jawablah pertanyaan-pertanyaan di bawah ini dengan benar!


- Sebutkan bagian pembuka naskah pidato!
- Sebutkan bagian penutup naskah pidato!
- Sebutkan hal-hal yang harus diperhatikan agar dapat berpidato dengan baik!



(Kompetensi Dasar 3.2)

Skor ...


I. Berilah tanda silang (x) huruf a, b, c, atau d pada jawaban yang paling benar!

- Wajah berjerawat menandakan bahwa anak sudah memasuki masa
 - pubertas
 - anak-anak
 - dewasa
 - matang
- Ciri anak perempuan mengalami perubahan tubuh pada masa pubertasnya, yaitu
 - tumbuh jakun
 - tumbuh payudara
 - suara membesar
 - rambut menjadi panjang
- Berikut perubahan fisik anak laki-laki saat memasuki masa pubertas, **kecuali**
 - suara membesar
 - tumbuh kumis
 - panggul membesar
 - tumbuh jakun
- Perhatikan gambar bagian tubuh berikut!

Bagian tubuh di atas disebut

 - jakun
 - kumis
 - gondok
 - janggut
- Usia akhir periode pubertas pada anak perempuan adalah ... tahun.
 - 12
 - 13
 - 14
 - 15

II. Jawablah pertanyaan-pertanyaan di bawah ini dengan benar!

- Jelaskan pengertian pubertas menurut Styne!
- Sebutkan tiga ciri perubahan fisik anak laki-laki pada saat pubertas!
- Sebutkan tiga ciri perkembangan fisik pada gambar anak di samping saat mengalami masa pubertas!



(Kompetensi Dasar 3.3)


Skor ...

I. Berilah tanda silang (x) huruf a, b, c, atau d pada jawaban yang paling benar!


- Berikut negara-negara anggota ASEAN, **kecuali**
 - Indonesia
 - Thailand
 - Singapura
 - Amerika

2. ASEAN didirikan pada tanggal
 - a. 8 Agustus 1967
 - b. 17 Agustus 1967
 - c. 8 Agustus 1976
 - d. 17 Agustus 1976
3. Perwakilan menteri luar negeri Indonesia dalam pendeklarasian ASEAN adalah


a.




c.



b.




d.


4. ASEAN Council of Teachers Convention (ACT) diselenggarakan di wilayah
 - a. Sabang
 - b. Maluku
 - c. Sanur
 - d. Merauke
5. Kerja sama yang dilakukan oleh dua negara disebut kerja sama
 - a. multilateral
 - b. bilateral
 - c. ekonomi
 - d. politik

II. Jawablah pertanyaan-pertanyaan di bawah ini dengan benar!

1. Jelaskan sejarah singkat dibentuknya ASEAN!
2. Di negara manakah penandatanganan pendeklarasian ASEAN?
3. Sebutkan contoh bentuk kerja sama negara-negara ASEAN dalam bidang pendidikan!




(Kompetensi Dasar 3.4)

Skor ...

I. Berilah tanda silang (x) huruf a, b, c, atau d pada jawaban yang paling benar!

1. Tanah liat dan lilin termasuk ke dalam jenis bahan
 - a. lunak
 - b. keras
 - c. halus
 - d. berserat
2. Bahan patung di bawah ini termasuk bahan lunak, **kecuali**
 - a. tanah liat
 - b. bubur kertas
 - c. kayu
 - d. serbuk gergaji
3. Patung yang digunakan untuk menunjang dalam konstruksi bangunan dan bernilai estetika adalah patung
 - a. religi
 - b. monumen
 - c. arsitektur
 - d. dekorasi
4. Patung yang dibuat dengan tujuan untuk memperingati jasa seseorang, kelompok, atau peristiwa bersejarah disebut patung
 - a. religi
 - b. dekorasi
 - c. arsitektur
 - d. monumen
5. Perhatikan gambar berikut!



Gambar tersebut termasuk ke dalam jenis patung

- a. monumen
- b. religi
- c. monumen
- d. arsitektur