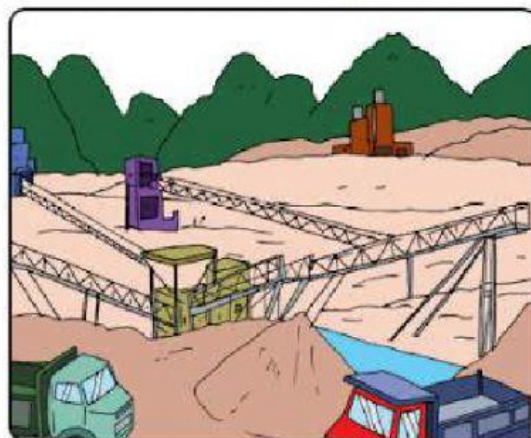




Materi IPS

Kelas VI Tema 1 Subtema 2

Potensi Ekonomi Negara ASEAN



Materi IPS Kelas VI Tema 1 Subtema 2 Potensi Ekonomi Negara ASEAN

Hari ini kita akan melanjutkan pembelajaran Tema 1 (Selamatkan Makhluk Hidup) dengan materi potensi ekonomi negara ASEAN. Simak penjelasannya berikut ini ya! silahkan kalian catat hal-hal penting dari materi ini!


Potensi Ekonomi Negara ASEAN

Kawasan Asia Tenggara terletak pada jalur perdagangan dunia. Kawasan ini menjadi jembatan antara kawasan Eropa dan Asia Timur. Oleh karena itu, Asia Tenggara menjadi wilayah persaingan bagi pihak-pihak yang ingin memanfaatkan kedudukan strategis kawasan ini. ASEAN berperan sebagai wadah untuk menghindari persengketaan yang mungkin timbul. Dengan posisi yang strategis ini, setiap negara di kawasan Asia Tenggara memiliki kekayaan sumber daya yang menjadi kekuatan negara.

Berikut potensi ekonomi masing-masing negara Asean

- **Brunei Darussalam**


Negara ini terkenal dengan kekuatan sumber daya alam berupa minyak bumi dan gas alam. Brunei menjadi negara di Asia Tenggara yang memiliki pendapatan per kapita tertinggi karena gas alamnya.



Potensi ekonomi negara Brunei Darussalam

- **Filipina**

Filipina adalah sebuah negara kepulauan yang mata pencaharian sebagian besar penduduknya adalah di bidang pertanian. Filipina berhasil menjadi salah satu negara di dunia yang dapat membangun dan mengembangkan pertaniannya dengan baik.



Potensi ekonomi negara Filipina

Beberapa produk unggulan hasil pertaniannya diekspor ke berbagai negara, seperti nanas, padi, kelapa, dan gula. Hasil pertanian ini juga yang menunjang perkembangan ekonomi negara ini.

- **Indonesia**

Sebagai negara kepulauan terbesar di kawasan ini, Indonesia memiliki ragam sumber daya alam yang sangat kaya. Banyak hal yang dapat dikembangkan untuk memperkuat perkembangan ekonomi Indonesia. Saat ini Indonesia mengekspor minyak dan gas bumi, tekstil, dan produk-produk dari kayu. Pertambangan menjadi salah satu pintu masuk para pengusaha mancanegara ke Indonesia. Keindahan alam Indonesia pun merupakan daya tarik yang menjadi



Potensi ekonomi negara Indonesia

sumber devisa negara dari sektor pariwisata.



Potensi ekonomi negara Kamboja



Potensi ekonomi negara Laos

- **Malaysia**

Kegiatan ekonomi utama penduduk Malaysia adalah di bidang pertanian, pertambangan, dan perindustrian. Perdagangan internasional merupakan salah satu kegiatan ekonomi Malaysia yang mengalami pertumbuhan tercepat. Peralatan elektronik, minyak, dan gas bumi diekspor ke negara lain. Produk dari kayu, minyak sawit, karet, tekstil, sepatu, dan bahan-bahan kimia diperdagangkan di dunia internasional.



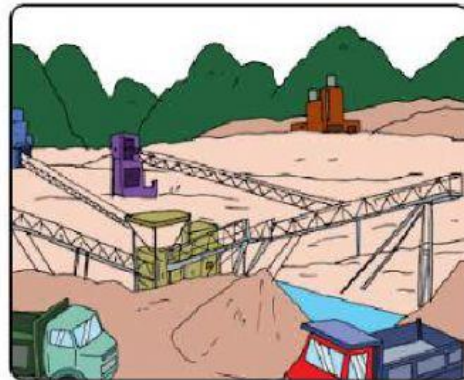
Potensi ekonomi negara Myanmar

- **Kamboja**

Di Kamboja mengalir Sungai Mekong. Daerah di sekitar Sungai Mekong merupakan daerah yang subur. Mata pencaharian penduduk Kamboja adalah pertanian. Hasil pertanian Kamboja yang besar adalah padi dan karet.

- **Laos**

Laos bertetangga dengan Kamboja. Negara ini dilewati oleh aliran Sungai Mekong. Sama seperti di Kamboja, kegiatan pertanian banyak dilakukan di sepanjang aliran sungai ini. Sebagian besar hasil pertanian dinikmati oleh masyarakat Laos.



Potensi ekonomi negara Malaysia

- **Myanmar**

Mata pencaharian utama penduduk Myanmar adalah pertanian, perkebunan, dan pertambangan. Padi merupakan hasil utama dari pertanian di sana. Myanmar merupakan salah satu negara penghasil padi terbesar di Asia Tenggara.

- **Singapura**

Singapura merupakan negara paling maju di kawasan ASEAN. Letak Singapura sangat strategis. Saat ini Singapura menjadi negara transit teramai di Asia.



Potensi ekonomi negara Singapura




Potensi ekonomi negara Thailand

- **Thailand**

Thailand sering disebut sebagai lumbung padi di Asia Tenggara. Padi memang merupakan hasil pertanian terbesar dari negara ini. Selain itu, perkebunan, kehutanan, pertambangan, dan industri juga merupakan kegiatan ekonomi penduduk Thailand. Saat ini, penghasilan utama Thailand adalah sektor pariwisata. Keunikan bangunan budaya di Thailand menjadi daya tarik tersendiri bagi para wisatawan mancanegara.

- **Vietnam**

Setelah pulih dari Perang Vietnam, negara ini mulai berkembang di berbagai sektor perekonomiannya. Pariwisata dan turisme mendukung perkembangan ekonomi. Bidang pendukung lainnya seperti usaha jasa di bidang perhotelan, restoran, serta transportasi juga turut berkembang pesat.



Potensi ekonomi negara Vietnam

Kegiatan Ekonomi Negara Asean

Negara-negara di Asia Tenggara memiliki potensi ekonomi yang beragam. Keberagaman tersebut disebabkan oleh kondisi geografis yang juga beragam. Potensi ekonomi tersebut dimanfaatkan oleh masyarakat untuk melakukan kegiatan ekonomi.

Indonesia mengeksport hasil bumi seperti timah, tembaga, besi, minyak, gas, dan nikel. Selain itu, Indonesia menghasilkan pupuk, tapioka, karet, kopi, kelapa sawit, dan tembakau. Ikan tuna, udang, dan teh juga diekspor ke negara lain.

Brunei Darussalam terkenal kaya akan barang tambang., salah satunya adalah minyak bumi. Sebagian besar penduduknya bekerja sebagai penambang minyak bumi. Minyak bumi dan gas alam merupakan sumber pendapatan terbesar Brunei Darussalam.

Penduduk Malaysia bermata pencaharian dalam bidang pertanian, pertambangan, dan perindustrian. Pertambangannya menghasilkan bijih timah terbesar di dunia.

Singapura mengekspor mesin dan alat transportasi, alat elektronik, dan barang-barang konsumsi. Bahan kimia dan produk olahan minyak dihasilkan juga di Singapura. Singapura termasuk negara Asia Tenggara yang berpendapatan paling tinggi.

Mata pencaharian penduduk Thailand adalah pertanian, kehutanan, pertambangan, dan industri. Penghasil beras terbesar di Asia dan tiga sedunia (dijuluki Gajah Putih, negara Seribu Pagoda, lumbung padi ASEAN).

Mata pencaharian penduduk Filipina adalah pertanian, pertambangan, dan industri. Komoditas ekspor Filipina terdiri atas gula, kopra, kayu, nanas, dan bijih tembaga.

Perekonomian sebagian besar penduduk Vietnam adalah pertanian. Padi merupakan hasil utama pertanian di Vietnam. Industri di Vietnam meliputi tekstil, semen, pupuk, kaca, dan ban. Pertambangan di Vietnam menghasilkan emas, bijih besi, timah, gamping, fosfat, tungsten (wolfram), dan seng. Hasil hutannya adalah bambu, kina, kayu, dan kayu manis. Terdapat dua sungai penting, yaitu sungai Mekong dan sungai Songka.

Sebagian besar penghidupan penduduk Kamboja di sektor pertanian.

Rakyat Laos hidup di sektor pertanian yang menghasilkan beras, jagung, tembakau, jeruk, dan kopi.

Komoditas perdagangan Myanmar meliputi kayu (terutama kayu jati), beras, pupuk, dan berbagai barang kerajinan.

Untuk menambah pemahaman kalian terkait materi potensi ekonomi negara Asean, silahkan cermati video berikut ini!

Video Materi Potensi Ekonomi Negara Asean



TUGAS HARIAN

SOAL ULANGAN IPS KELAS 6 TEMA 1
SUBTEMA 2
25 Pertanyaan

NAMA : _____

KELAS : _____

TANGGAL: _____

1. Negeri "Gajah Putih" meruoakan julukan bagi negara

- A Myanmar B Singapura
 C Laos D Thailand

2. Kawasan negara ASEAN yang berupa kepulauan adalah

- A Myanmar dan filipina B Indonesia dan Malaysia
 C Indonesia dan Filipina D Thailand dan Myanmar

3. Negara anggota ASEAN yang merupakan penghasil timah terbesar se Asia Tenggara adalah....

- A Brunei Darussalam B Singapura
 C Indonesia D Malaysia

4.  Negara diatas mengandalkan hasil tambang berupa...

- A timah dan bauksit B emas dan perak
 C gas alam dan minyak bumi D batu bara dan minyak bumi

5. Indonesia
Thailand
Singapura
Vietnam

Yang termasuk negara agraris (sektor Pertanian) adalah

- A 1, 2, dan 4 B 1, 3, dan 4
 C 1,2,dan 3 D 2,3, dan 4

6. Danu adalah warga negara Indonesia yang berasal dari keluarga kaya raya. Setiap tahunnya ia selalu melakukan perjalanan liburan ke luar negeri. Pada tahun ini, Danu dan keluarganya berencana untuk berlibur ke Thailand. Untuk dapat berbelanja di sana, Danu harus menukarkan mata uang rupiahnya dengan mata uang

- A dollar B bath
 C ringgit D peso

7. Negara di Asia Tenggara yang paling maju adalah ...


- A Brunei Darussalam B Indonesia
 C Malaysia D Singapura

8. Di bawah ini adalah pernyataan yang tepat tentang Brunei Darussalam yaitu

- A Sebagian besar penduduknya bermatapencaharian sebagai petani B Negara paling maju di Asia Tenggara
 C Negara dengan pendapatan perkapita paling tinggi di Asia Tenggara D Merupakan penghasil padi terbanyak di Asia Tenggara

9. Negara ini mengandalkan sektor pariwisata sebagai penghasilan utama. Keunikan bangunan budayanya menjadi daya tarik tersendiri bagi para wisatawan mancanegara. Lumbung padi Asia Tenggara adalah salah satu julukannya. Negara yang dimaksud adalah

- A Indonesia B Myanmar
 C Thailand D Vietnam

10.  Gambar di atas menunjukkan bangunan Pagoda yang sangat banyak di salah satu negara Asia Tenggara sehingga disebut negeri seribu pagoda. Negara yang dimaksud adalah

- A Laos B Vietnam
 C Kamboja D Thailand

11. Yang merupakan lambang ASEAN adalah



12. Penduduk Asia Tenggara sebagian besar terdiri dari bangsa ...

- A India B Eropa
 C Melayu D Cina

13. Sektor perdagangan dan jasa yang dikembangkan negara ini mampu mengantarkan negara ini menjadi salah satu negara kaya di kawasan Asia Tenggara. Negara yang dimaksud adalah

- A Malaysia B Laos
 C Indonesia D Singapura

14. Posisi geografis Indonesia, Singapura, dan Malaysia berada strategis di jalur lalu lintas pelayaran internasional. Kenyataan ini menguntungkan di bidang...

- A perindustrian B Pertanian
 C perdagangan D perikanan

15. Negara yang terkenal dengan komoditas ekspor berupa gula, kopra, kayu, nanas, dan biji tembaga adalah

- A Laos B Myanmar
 C Filipina D Indonesia

16. Negara di Asia Tenggara yang memiliki kekayaan sumber daya alam yang sangat beragam adalah.....

- A Thailand B Malaysia
 C Indonesia D Singapura

17. Negara ini mengembangkan sektor perdagangan dan jasa sehingga mampu mengantarkan negara ini menjadi negara paling maju di kawasan ASEAN. Negara yang dimaksud ialah

A Brunei Darussalam

B Singapura

C Indonesia

D Malaysia

18. Thailand sering disebut sebagai...

A lumbung padi di Asia Tenggara

B Negara terkunci

C Negara terkaya di Asia Tenggara

D Negara termaju di Asia Tenggara

19. Organisasi ASEAN terdiri dari ... negara

A 5

B 20

C 10

D 15

20. Di bawah ini yang termasuk negara anggota ASEAN adalah

A Malaysia

B Australia

C Ethiopia

D Papua Nugini