

EXAMEN DE COMPUTACIÓN DEL PRIMER TRIMESTRE

ESTUDIANTE: _____

DOCENTE: Lic. Dioselina Vélez


FECHA: _____

CURSO: Primero

1. Arrastre las piezas del rompecabezas para formarlo. 1pt.



2. Selecciones los mouse de la computadora. 1.20 dcmas.



3. Ubica la parte que corresponde cada cuadro.

1pt.

TECLADO

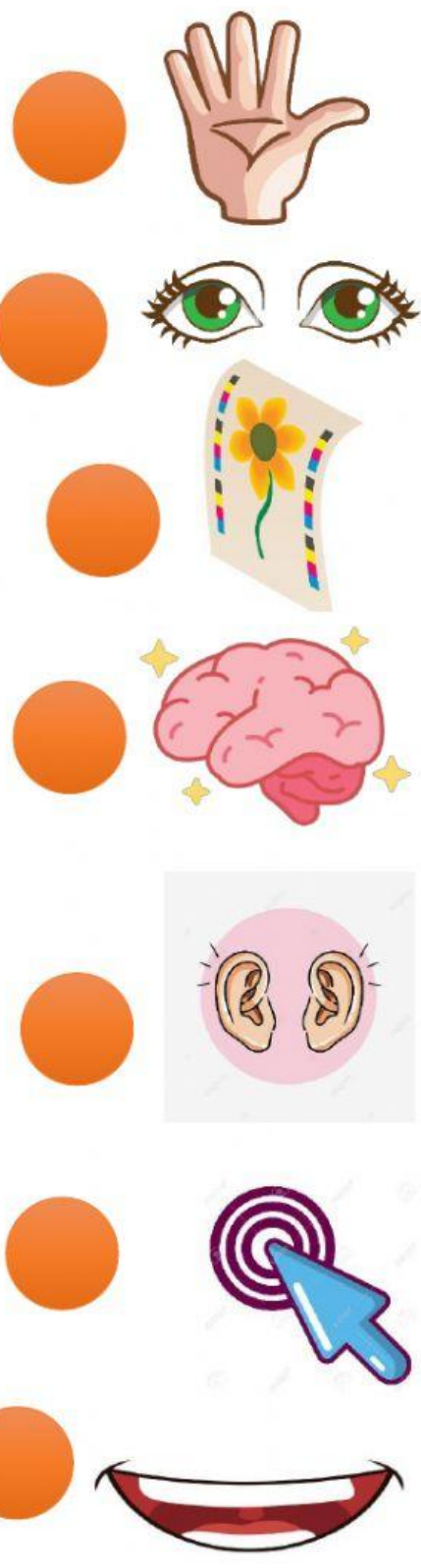
MONITOR

CPU O CEREBRO DE LA
COMPUTADORA

MOUSE



4. Una con línea cada parte de la computadora hasta la imagen identificada en cada para de la computadora. 1.40 pts.



5. Cuento solamente las partes de la computadora en cada cuadro.

0.40dcmas.



2

3

5



5

6

7



5

6

7



2


3

4

6. Seleccione las 5 imágenes que pertenecen al HARDWARE. 1Pt.



7. Seleccione las 5 imágenes que pertenecen al SOFTWARE. 1Pt.



8. Una con línea según corresponda.

0.40dcmas.

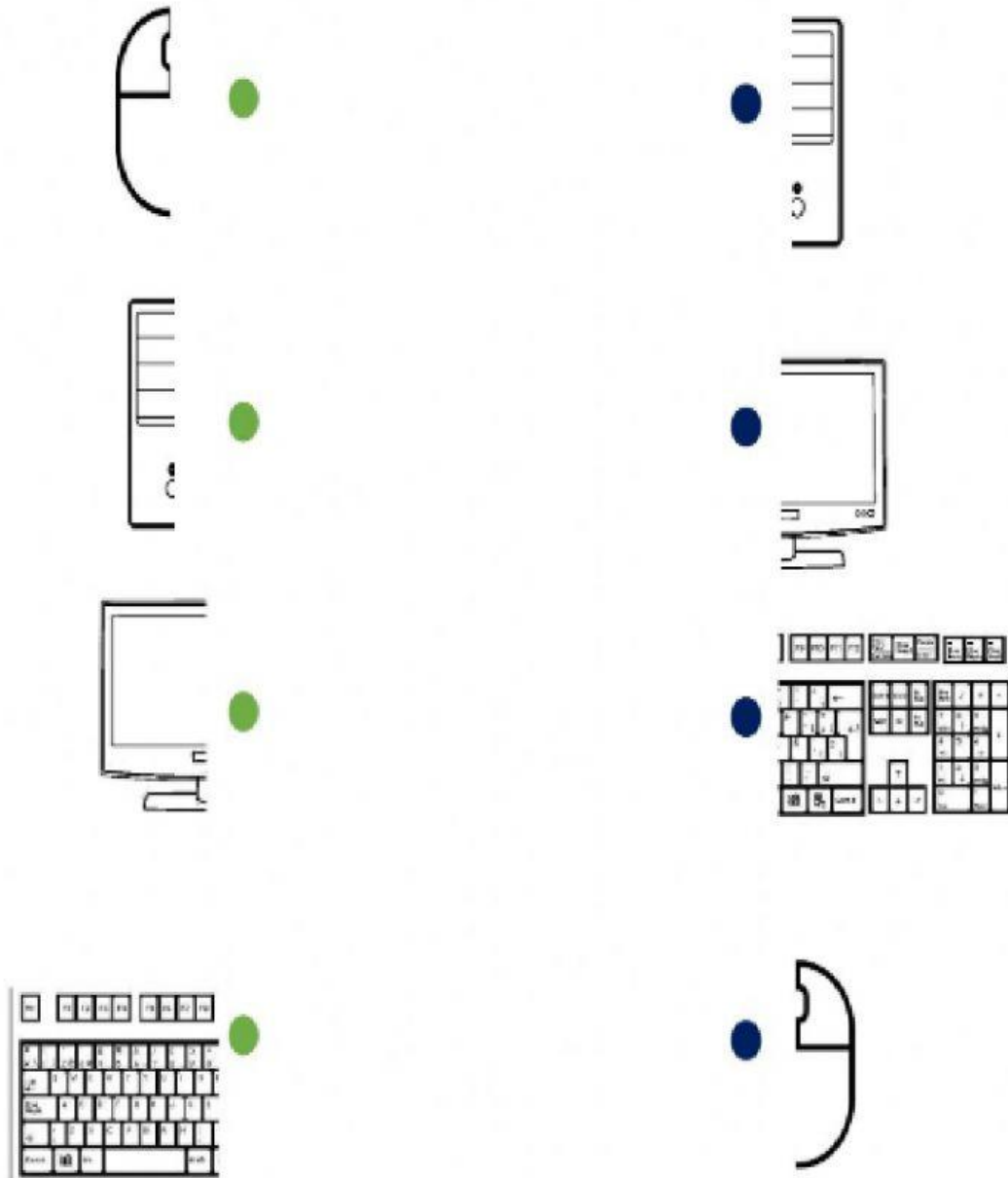


9. Ubica las partes del teclado.

1.20pts.



**10. Una con línea la otra mitad de las partes de la computadora.
0.40dcmas.**



11. Toque las partes de la computadora que se menciona. 1pt.

