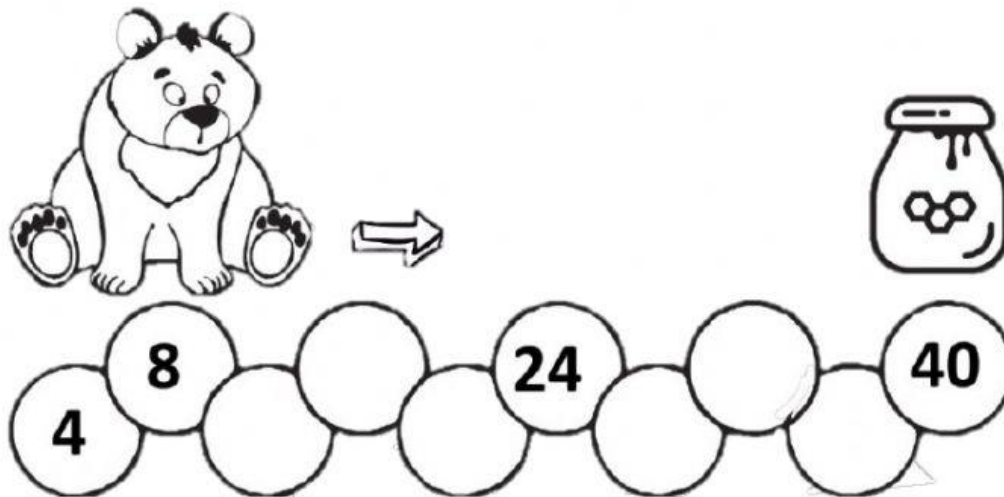


## FICHA DE TRABAJO MATEMÁTICA

Nombres y Apellidos:

1. Ayuda al oso a llegar a su comida completando la serie.



2. Resuelve las multiplicaciones, escribe en el recuadro las palabras que corresponden al resultado y hallaras una adivinanza.

5	8	10
15	8	24
32	40	20
40	16	50

3 x 5 VERDE

5 x 10 FRÍA

5 x 1 ROJA

5 x 8 DE

2 x 4 POR

4 x 5 DÍA


4 x 6 FUERA

4 x 8 SANTA

2 x 5 DENTRO

4 x 4 NOCHE

3. Elige el resultado correcto y márcalo.


$4 \times 2$ <div>6</div> <div>8</div> <div>10</div>	$7 \times 5$ <div>30</div> <div>35</div> <div>40</div>	$9 \times 10$ <div>45</div> <div>80</div> <div>90</div>	
$0 \times 2$ <div>2</div> <div>1</div> <div>0</div>	$9 \times 2$ <div>14</div> <div>16</div> <div>18</div>	$9 \times 5$ <div>45</div> <div>50</div> <div>55</div>	

4. Interpreta el problema y escribe la multiplicación.

Un cometa tiene 5 lazos ¿Cuántos lazos tienen 5 cometas?	<div>□</div> × <div>□</div> = <div>□</div>
Una flor tiene 10 pétalos ¿Cuántos pétalos tendrá en 4 flores?	<div>□</div> × <div>□</div> = <div>□</div>
En cada uno de los 8 maceteros puse 2 semillas ¿Cuántas semillas podrían germinar?	<div>□</div> × <div>□</div> = <div>□</div>



5. Une las gotas de agua con los pétalos de la flor que le corresponde.



6. Encuentra al intruso en cada caso y marca tu respuesta

Encuentra al intruso:

Uno de estos números **NO** corresponde a la tabla del 5. ¿Cuál?

fichasdematematicas.com

Numbers in circles: 10, 15, 42, 20, 40, 30, 50, 5, 25, 60, 55, 35, 45.

Encuentra al intruso:

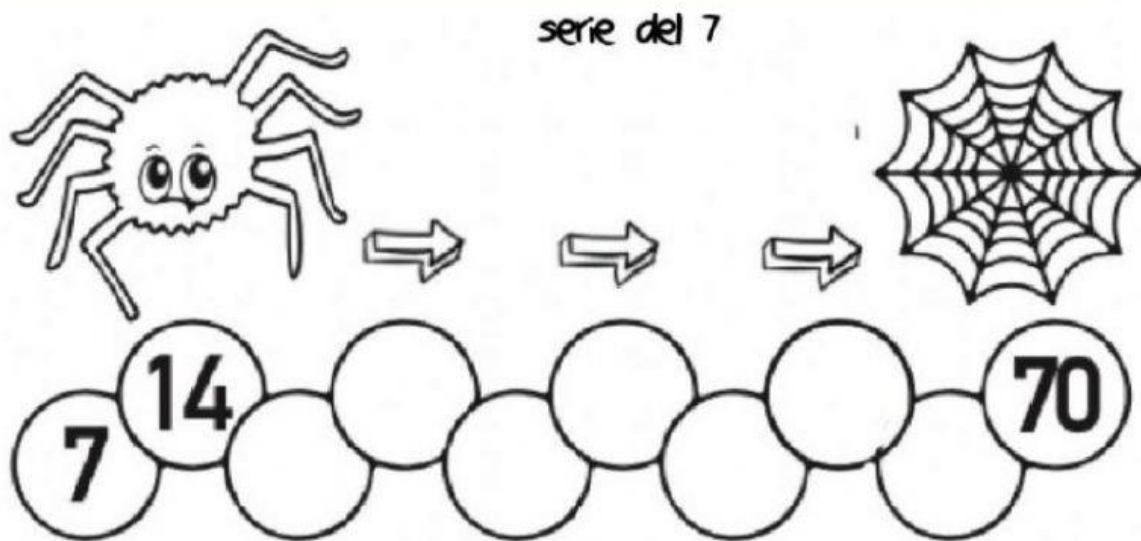
Uno de estos números **NO** corresponde a la tabla del 7. ¿Cuál?

fichasdematematicas.com








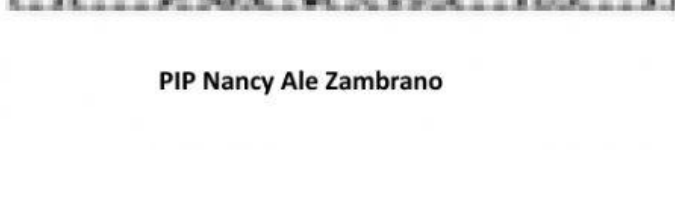








Numbers in circles: 21, 79, 42, 56, 7, 77, 63, 14, 28, 54, 70, 35, 84.



7. Ayuda a la araña a llegar a su tela de araña.



8. Recorta las piezas, luego resuelve las operaciones y pega el resultado de la multiplicación.

 16	 27	 10	 15	$5 \times 3 =$	$4 \times 8 =$	$3 \times 9 =$
 24	 63	 32	 14	$2 \times 7 =$	$6 \times 6 =$	$7 \times 9 =$
 36	 20	 18	 32	$8 \times 4 =$	$9 \times 2 =$	$10 \times 1 =$
 16	 27	 10	 15	$2 \times 8 =$	$4 \times 6 =$	$5 \times 4 =$

9. Marca el resultado de cada operación.

80 48  
 **$8 \times 9$**   
54 72

60 49  
 **$10 \times 6$**   
48 54

70 30  
 **$5 \times 3$**   
80 15

50 28  
 **$4 \times 7$**   
48 36

15 50  
 **$5 \times 8$**   
40 40

8 30  
 **$2 \times 4$**   
10 20



INSTITUCIÓN EDUCATIVA N°40474  
JOSÉ CARLOS MARIÁTEGUI  
MOLLEND - AREQUIPA

