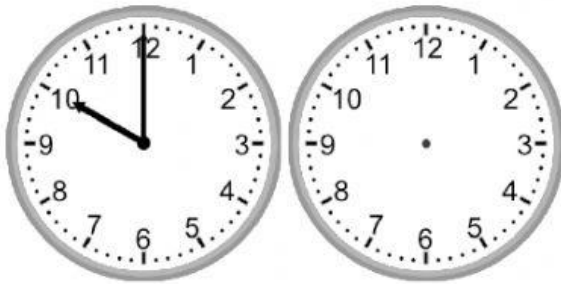


Gambar jarum jam dan menitnya dan jawab pertanyaannya.


17.



Jam berapakah 2 jam 15 menit kemudian?

:

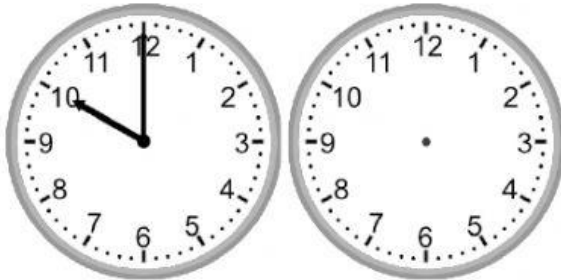
18.



Jam berapakah 4 jam 30 menit kemudian?

:

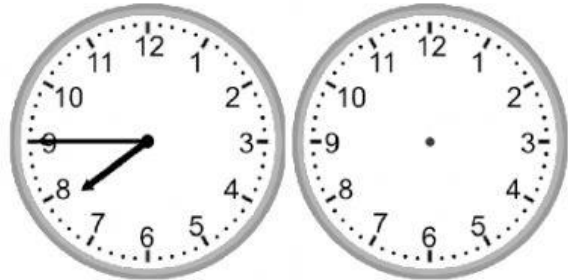
19.



Jam berapakah 4 jam kemudian?

:


20.



Jam berapakah 2 jam 15 menit kemudian?

:


21.



Jam berapakah 4 jam 30 menit kemudian?

:

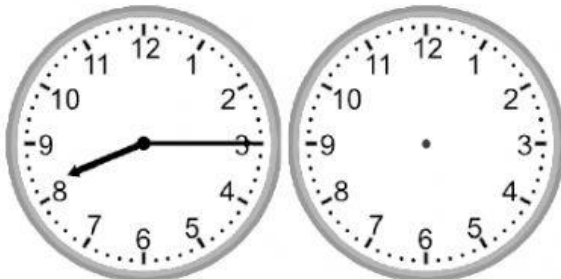
22.



Jam berapakah 5 jam kemudian?

:

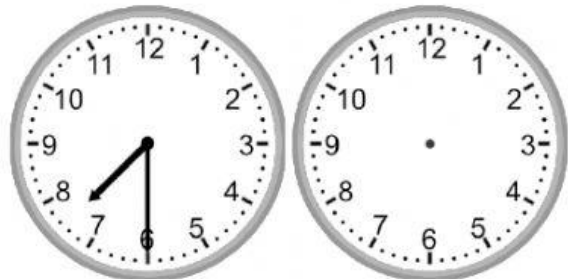
23.



Jam berapakah 2 jam 15 menit kemudian?

:

24.



Jam berapakah 3 jam 15 menit kemudian?

: