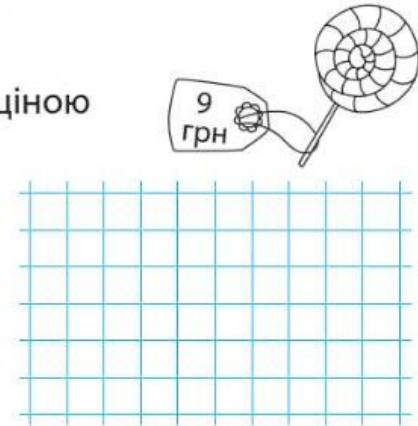
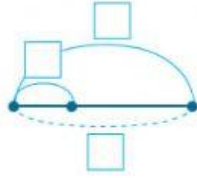


ВИВЧАЄМО ГРУПУ ВЕЛИЧИН, ЯКІ РОЗКРИВАЮТЬ СИТУАЦІЮ КУПІВЛІ-ПРОДАЖУ

180 Доповни записи. Розв'яжи задачі.

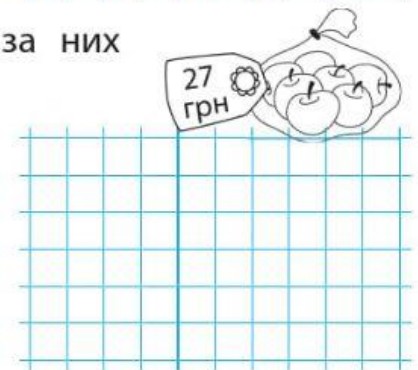
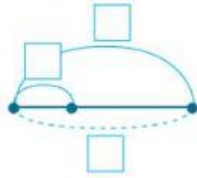
- ▶ 1) Знайди вартість 4 льодяників за ціною 9 грн.

Ціна	Кількість	Вартість
_____	_____	_____



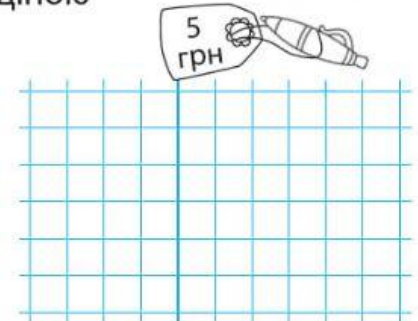
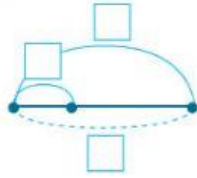
- ▶ 2) Тато купив 3 кг яблук і заплатив за них 27 грн. Яка ціна кілограма яблук?

_____	_____	_____
_____	_____	_____




- ▶ 3) Богдан має 45 грн. Скільки ручок за ціною 5 грн він може купити на ці гроші?

_____	_____	_____
_____	_____	_____



181 Знайди значення виразу зі змінною: $12 : b \cdot 7 - 19$, якщо $b = 2$; $b = 3$; $b = 4$.



182 Виконай арифметичні дії.

