




PROBLEMAS

Resolver	Completar
<p>Una moto tiene 2 ruedas ¿Cuántas ruedas tienen 6 motos?</p> <p>CÁLCULO:</p> <p>RTA. : 6 motos tienen <input type="text"/> ruedas.</p>	 <p>___ veces ___ = ___</p>
<p>María compró 4 cajas de crayones iguales a esta.</p> <p>¿Cuántos crayones compró en total?</p> <p>CÁLCULO:</p> <p>RTA.: María compró <input type="text"/> crayones en total.</p>	 <p>___ veces ___ = ___</p>
<p>En la caja de Don Luis hay 9 nidos. Si cada nido tiene 5 huevos</p> <p>¿Cuántos huevos hay en total?</p> <p>CÁLCULO:</p> <p>RTA.: En la granja de Don Luis hay <input type="text"/> huevos en total.</p>	 <p>___ veces ___ = ___</p>

2 veces el 3=_____	2 veces el 4=_____	2 veces el 5=_____
4 veces el 3=_____	4 veces el 4=_____	4 veces el 5=_____