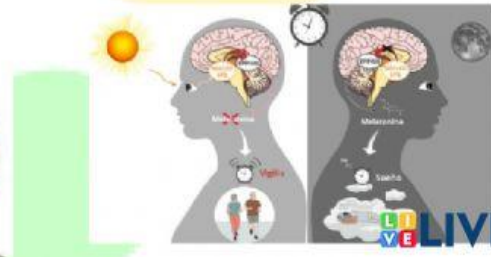
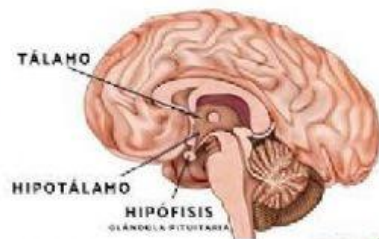
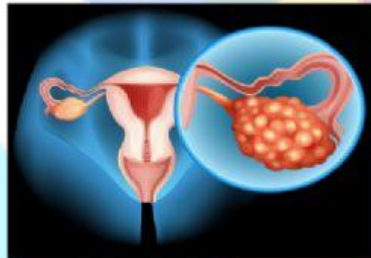






LAS HORMONAS Y EL METABOLISMO - SISTEMA ENDOCRINO











ACTIVIDAD:
ESCRIBIR EL NOMBRE DE LAS ESTRUCTURAS Y GLÁNDULAS DE LAS SIGUIENTES IMÁGENE

	<hr/> <hr/> <hr/>
	<hr/> <hr/> <hr/>
	GLÁNDULAS: <hr/> Y <hr/> <hr/>
	GLÁNDULAS: <hr/> <hr/>

	GLÁNDULA: <hr/>
	<hr/> <hr/> <hr/>
	<hr/> <hr/> <hr/>
	<hr/> <hr/> <hr/>