


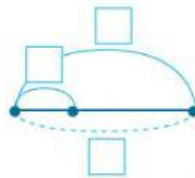
ЗНАЙОМИМОСЬ ІЗ ГРУПАМИ ВЕЛИЧИН

158 Доповни записи. Розв'яжи задачі.

- ▶ 1) Для пошиття костюма кравчині потрібно 3 м тканини. Скільки метрів тканини потрібно для пошиття 4 таких костюмів?




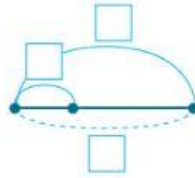
Довжина 1 відріза	Кількість відрізів	Загальна довжина



- ▶ 2) Тато купив 3 сітки яблук, по 9 кг у кожній сітці. Скільки всього кілограмів яблук купив тато?



Маса 1 сітки	Кількість сіток	Загальна маса



159 Розв'яжи хоча б одне рівняння. Виконай перевірку.

$$56 : (x - 24) = 7$$

$$x - 24 =$$

$$53 - 16 : n = 49$$

$$16 : n =$$

$$p : (32 - 24) = 7$$

Відповідь: _____

Відповідь: _____

Відповідь: _____