

ورقة عمل : العدوى الفيروسية



اسم الطالبة /

* الصورة الممثلة توضح عدوى فيروسية من نوع

• رتبي مراحل العدوى الفيروسية الممثلة أمامك :

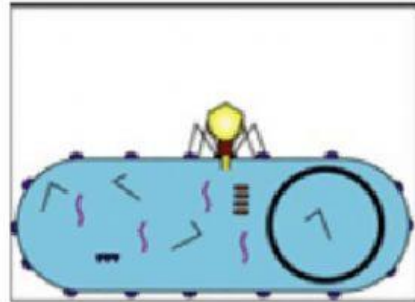
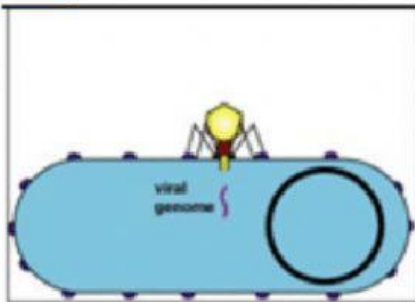
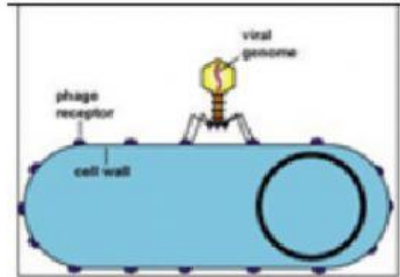
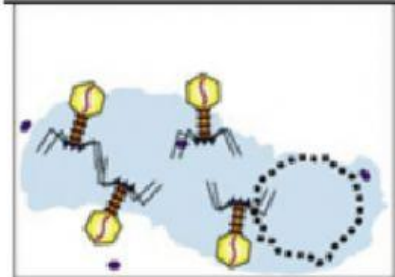
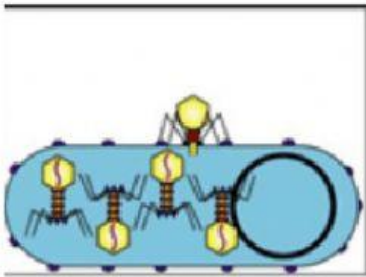
5

4

3

2

1



* ضعني إشارة (✓) أمام العبارة الصحيحة :

- لا يُشترط دخول الفيروس إلى خلية العائل لكي يتكاثر ()
- الدورة الاندماجية تحدث ببطء وتحتاج شهور وسنوات لظهور الأعراض ()
- تخرج الفيروسات الجديدة إما بانفجار الخلية أو عن طريق الإخراج الخلوي ()

إعداد المعلمة / زهراء أحمد البردوي