





# LEMBAR KERJA PESERTA DIDIK



## TEMA 1 DIRIKU SUB TEMA 2 BAGIAN TUBUHKU



### KELAS I



NAMA

ABSEN

## BAHASA INDONESIA

KOMPETENSI DASAR	INDIKATOR
3.4 Mengenal kosa kata tentang anggota tubuh dan panca indra serta perawatannya melalui teks pendek (berupa gambar, tulisan, slogan sederhana, dan/atau syair lagu) dan eksplorasi lingkungan.	3.4.1 Menentukan gambar dan kata mengenai anggota tubuh yang tepat
4.4 Menjelaskan dengan kosa kata yang tepat tentang anggota tubuh dan panca indra serta perawatannya (berupa gambar dan tulisan) dalam bahasa Indonesia secara lisan dan/atau tulis.	4.4.1 Menentukan gambar dan kata mengenai anggota tubuh yang tepat

## PJOK

KOMPETENSI DASAR	INDIKATOR
3.8 Memahami bagian-bagian tubuh, kegunaannya, cara menjaga kebersihannya dan kebersihan pakaian.	3.8.1 Menunjukkan bagian-bagian tubuh.
4.8 Menceritakan bagian-bagian tubuh yang boleh dan tidak boleh disentuh orang lain, cara menjaga kebersihan tubuh dan kebersihan pakaian.	4.8.1 Memeragakan fungsi bagian-bagian tubuh dan cara memelihara kebersihan dan kesehatannya.



# TUJUAN



1

Siswa dapat mengenal dan mengidentifikasi bagian tubuh dan panca indra.

2

Siswa dapat mengetahui fungsi dari setiap bagian tubuh manusia dan panca indra.

3

Siswa mengetahui cara merawat kebersihan tubuh dan kebersihan pakaian.



## PETUNJUK & LANGKAH KEGIATAN



1. Tulis nama lengkap dan nomor absen pada halaman pertama LKPD
2. Perhatikan langkah kerja pada setiap lembar soal
3. Kerjakan dengan penuh tanggung jawab dan disiplin
4. Tidak boleh menyontek pekerjaan teman
5. Tanyakan pada guru jika ada yang tidak dimengerti

## PILIH LAH SALAH SATU JAWABAN YANG BENAR

1. Alat indra yang kita gunakan untuk mencium bau adalah....
  - a. Hidung
  - b. Mulut
  - c. Mata
2. Kita makan, minum, dan berbicara menggunakan....
  - a. Kaki
  - b. Tangan
  - c. Mulut
3. Perhatikan gambar di bawah ini!



Fungsi gambar di atas adalah....

- a. Melihat
  - b. Mendengar
  - c. Meraba
4. Perhatikan soal berikut ini!



Susunan kata yang tepat untuk menentukan alat indra di atas adalah....

- a. laidh
  - b. lidah
  - c. halid
5. Pada bagian tubuh bawah, anggota tubuh yang menyusunnya adalah....
    - a. Paha, lutut, betis
    - b. Paha, perut, kaki
    - c. Tangan, lengan, pundak

Tuliskan nama dari bagian tubuh dan alat indra dibawah ini



# AYO TARIK GARIS SESUAI GAMBAR DAN FUNGSI NYA.



**melihat**



**berjalan**



**mendengar**




**makan & berbicara**



**menyentuh benda**

# MENULIS

Sebutkan cara menjaga kesehatan tubuh & kebersihan pakaian



# RUBRIK PENILAIAN

## PEDOMAN PENILAIAN

JENIS SOAL	BOBOT TIAP SOAL
Pilihan Ganda	1
Melengkapi	1
Menjodohkan	1
Menyebutkan	1
Jumlah keseluruhan	25
Jumlah skor maksimal	100

$$\text{Penentuan Nilai} = \frac{\text{Skor yang diperoleh}}{\text{Skor maksimal}} \times 100$$



# PEDOMAN KONVERSI

SKALA 100

<b>Rentangan Skor</b>	<b>Kategori</b>
<b>75-100</b>	<b>Sangat baik</b>
<b>50-75</b>	<b>Baik</b>
<b>25-50</b>	<b>Cukup</b>
<b>&lt;25</b>	<b>Kurang</b>

