

NOMBRE:

2-A

# FICHAS DE COLORES


Compara las siguientes cantidades escribiendo el número que se forma en cada caso, y colocando los signos, según corresponda:

> (mayor), < (menor) o (igual que) =. Y. Observa el ejemplo:


→ RECUERDA QUE LAS FICHAS VERDES VALEN 1, LAS FICHAS ROJAS 10 Y LAS VERDES, 100.




1.



2.



3.



FECHA: