


## EVALUACIÓN BIMESTRAL DE CIENCIA

Hijo(a) del Rey: \_\_\_\_\_

Grado: 4° Grado

Profesora: Cindya Condor Moreno

Fecha: 11/05/23



NOTA

### I. Completa el texto con la opción correcta:

nacen - agua - mueren - seres - tierra - aire

Las plantas son  por lo tanto las plantas , crecen, se reproducen y .

Para vivir las plantas necesitan  luz del sol  y .




### II. Escribe las partes del tallo.

Entrenudo

Nudo

Yema Terminal

Yema Axilar



### III. Une según las funciones del tallo y la raíz.

TALLO

RAÍZ

ABSORSIÓN

TRANSPORTE

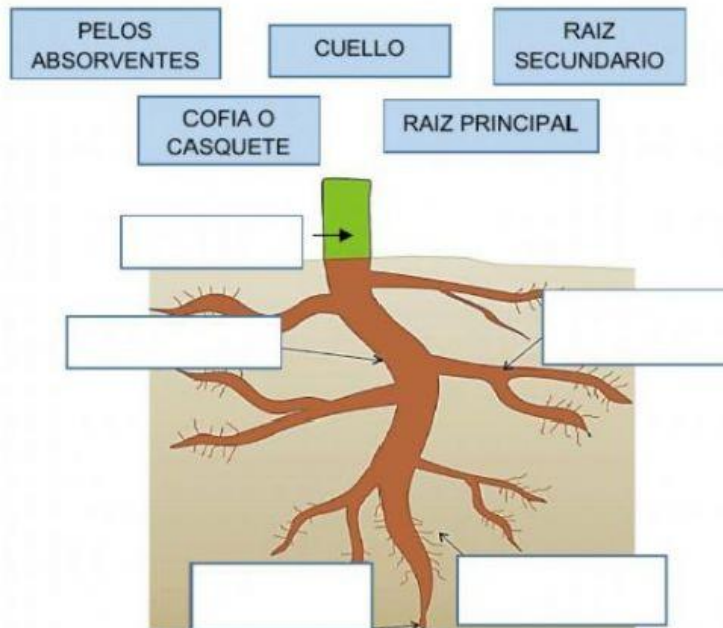
FIJACIÓN

SOSTÉN

CONDUCCIÓN

### IV. Escribe 3 tipos de raíces:

V. Completa las partes de la raíz.



VI. Escribe el nombre de 3 tallos industriales:




VII. Relaciona:

- |                        |          |  |
|------------------------|----------|--|
| A) Tallos leñosos      | (      ) | Manzanilla, el tomate, perejil, apio           |
| B) Tallos subterráneos | (      ) | Tallos de árboles: Nogal, Pino, arbustos, etc. |
| C) Tallos trepadores   | (      ) | La cebolla, el camote, zanahoria.              |
| D) Tallos herbáceos.   | (      ) | Las uvas, sandías, enredaderas, jazmín         |

VIII. Escribe 2 raíces comestibles y una de sus características

- \_\_\_\_\_
- \_\_\_\_\_

**“TODO LO PUEDO EN CRISTO QUE ME FORTALECE”**