

Nama :

Kelas :

LKPD EKONOMI

Materi Peran Pelaku Kegiatan Ekonomi

PETUNJUK PENGGUNAAN

1. Peserta didik berdoa terlebih dahulu sebelum memulai menggunakan LKPD
2. Peserta didik harus membaca kompetensi dasar (KD) dan tujuan pembelajaran yang ingin dicapai
3. Peserta didik memperhatikan video pembelajaran yang ditampilkan pada LKPD
4. Peserta didik memahami uraian materi dan membacanya dengan seksama dan teliti
5. Peserta didik menjawab pertanyaan soal-soal yang ada dalam LKPD :
 - Soal 1 berupa pilihan ganda terdiri dari : 10 soal
 - Soal 2 berupa soal menjodohkan terdiri dari : 5 soal

Kompetensi Dasar (KD)

- 3.3 Menganalisis peran pelaku ekonomi dalam kegiatan ekonomi
- 4.3 Menyajikan hasil analisis peran pelaku ekonomi dalam kegiatan ekonomi

Tujuan Pembelajaran

Setelah kegiatan pembelajaran ini diharapkan peserta didik dapat menjelaskan kegiatan ekonomi dan mengidentifikasi kegiatan produksi, distribusi, dan konsumsi. Serta dapat mengidentifikasi interaksi pelaku kegiatan ekonomi dengan kritis, kreatif, komunikatif, jujur dan bertanggung jawab.

PETA KONSEP

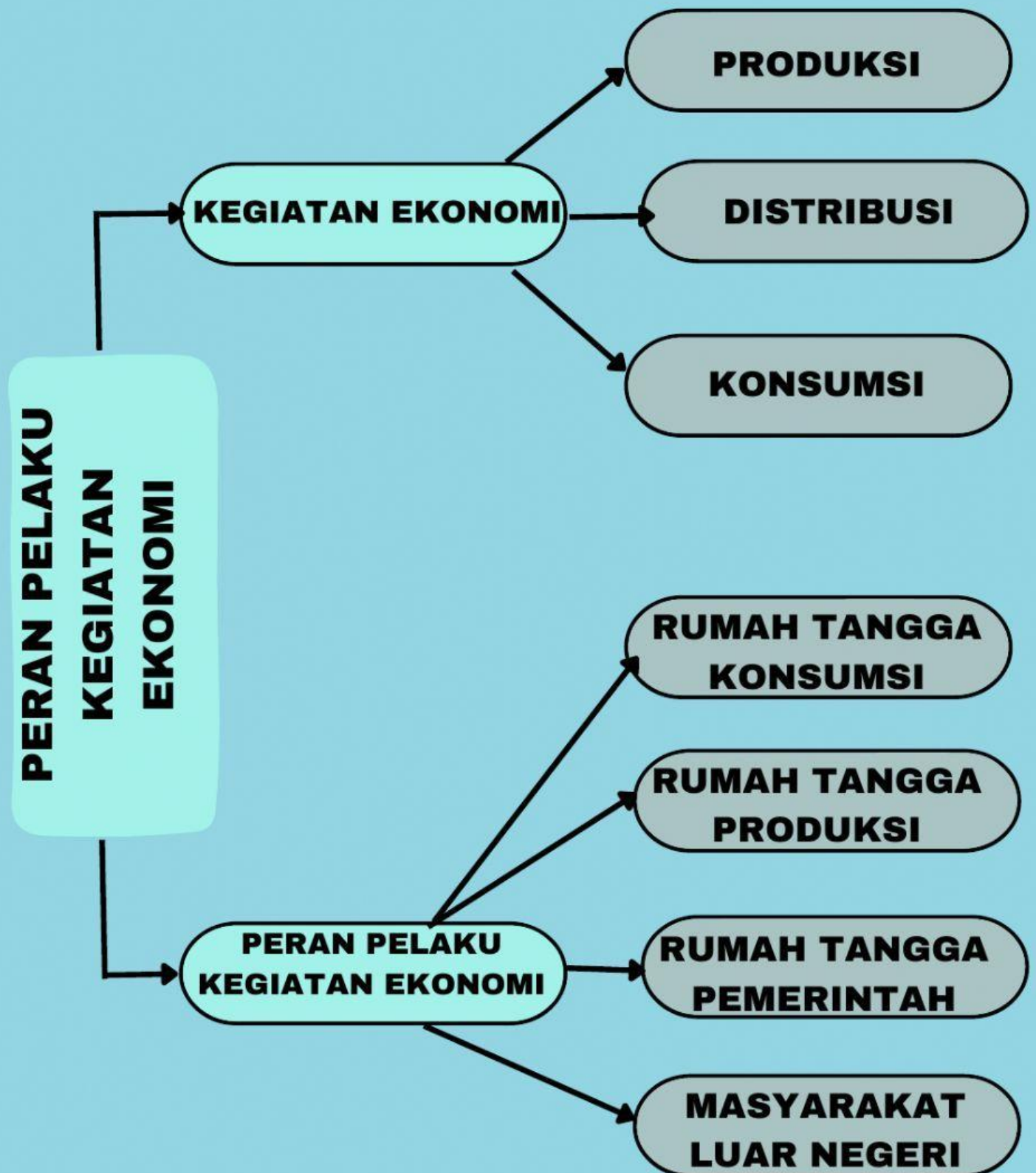

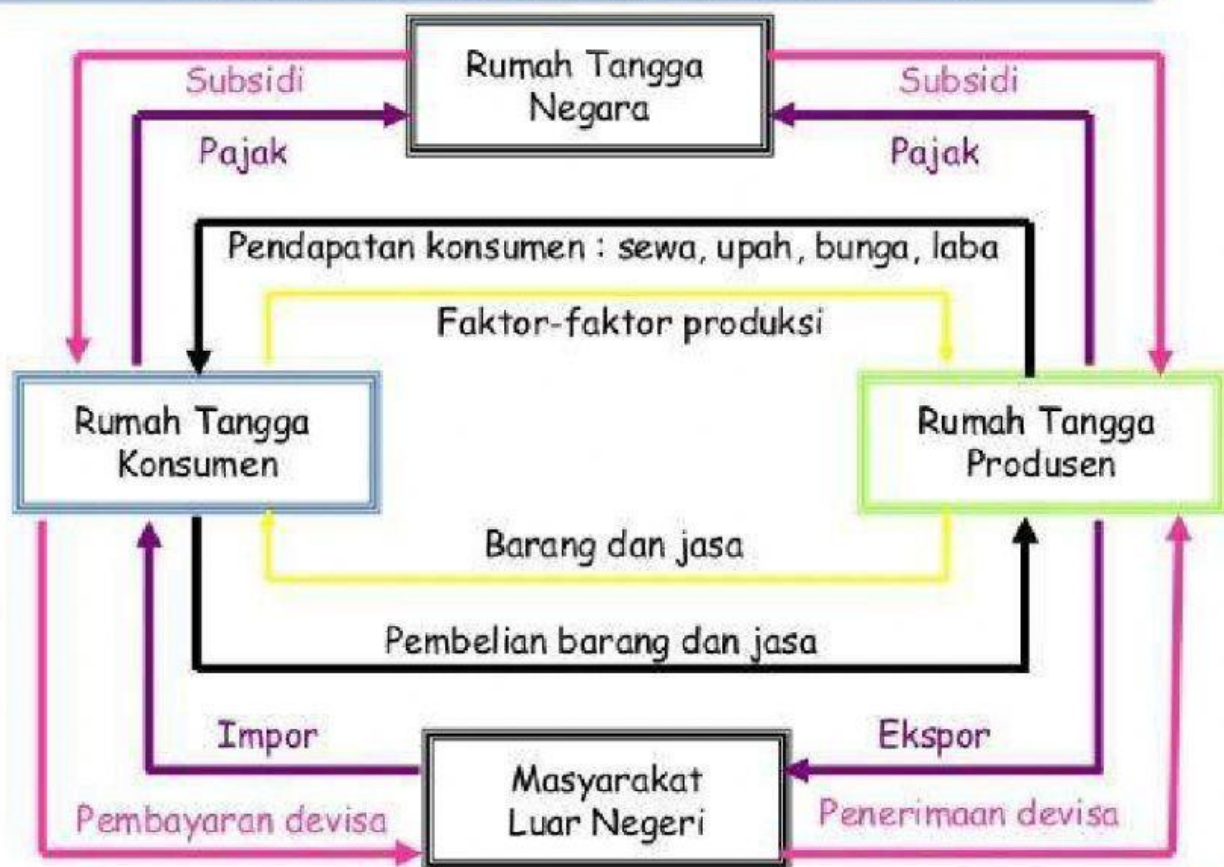


DIAGRAM CIRCULAIR FLOW

Aliran Interaksi (Circular Flow Diagram) RTK, RTP, RTN dan MLN
Perekonomian 4 Sektor / Perekonomian Terbuka





PERAN PELAKU KEGIATAN EKONOMI

A. Perhatikan video pembelajaran berikut tentang peran pelaku kegiatan ekonomi



B. Soal Pilihan Ganda

Pilihlah satu jawaban yang menurutmu benar!

1. Kegiatan ekonomi yang dilakukan rumah tangga produsen adalah

- A. membayar pajak rumah tangga**
- B. memiliki tabungan**
- C. menggunakan faktor produksi untuk memproduksi**
- D. membeli barang jadi untuk karyawannya**

2. Berikut ini yang merupakan kegiatan konsumsi adalah

- A. memperbanyak jenis barang**
- B. mengurangi penghasilan konsumen**
- C. menambah nilai guna barang dan jasa**
- D. menggunakan barang dan jasa untuk memenuhi kebutuhan**

3. Amati ilustrasi berikut:

- (1) Keluarga Sutan mengajak berlibur ke Ancol**
- (2) Pak Subandi menanam jagung di kebun**
- (3) Pak Surya mengendarai sepeda motor ke tempat kerja**
- (4) Pak Sukarno berjualan di kiosnya**

Dari ilustrasi tersebut, yang merupakan kegiatan konsumsi adalah

- | | |
|-----------------------|-----------------------|
| A. (1) dan (2) | C. (1) dan (4) |
| B. (1) dan (3) | D. (2) dan (3) |

4. Perhatikan fungsi distributor berikut!

- (1) Pengangkutan**
- (2) Penjualan**
- (3) Penyimpanan**
- (4) Pengemasan**
- (5) Membeikan informasi**

Yang termasuk fungsi pokok distribusi adalah

- A. (1), (2), dan (3)**
- B. (1), (3), dan (4)**
- C. (1), (4), dan (5)**
- D. (2), (3), dan (4)**

5. Berikut perilaku yang dilakukan beberapa orang

- (1) Pak Zainal membeli mobil baru karena banyak warga di sekitar tempat tinggalnya yang membutuhkan antar jemput anak sekolah**
- (2) Pak Arief membuat perencanaan anggaran belanja usaha kateringnya**
- (3) Bu Anisa selalu membuat daftar belanja setiap melakukan belanja rumah tangga**
- (4) Surahman membeli sepeda motor baru meskipun sepeda motor lama masih layak digunakan**
- (5) Pak Hartawan menyisihkan sebagian keuntungan dari usaha restorannya dengan tujuan memperluas usaha kelak**

Berdasarkan pernyataan tersebut yang termasuk perilaku produsen ditunjukkan nomor

- | | |
|-----------------------------|-----------------------------|
| A. (1), (2), dan (3) | C. (1), (2), dan (5) |
| B. (1), (2), dan (4) | D. (2), (3), dan (5) |

6. Abadi seorang pengusaha angrobisnis yang ditekuni beberapa lama, dalam kesehariannya melakukan kegiatan-kegiatan ekonomi, diantaranya:

- (1) Tanahnya disediakan untuk usaha, menyediakan modal dan wiraswasta**
- (2) Membeli kebutuhan sehari-hari seperti sandang dan pangan**
- (3) Membayar pajak badan usaha ke kas negara**
- (4) Membayar upah karyawan, bunga dan biaya-biaya lain**
- (5) Menerima sewa, gaji dan laba usahanya**
- (6) Membayar pajak karyawan perusahaannya**

Kegiatan ekonomi yang tergolong dilakukan oleh Rumah Tangga Konsumsi adalah

- | | |
|-----------------------------|-----------------------------|
| A. (1), (2), dan (3) | C. (2), (3), dan (4) |
| B. (1), (2), dan (5) | D. (2), (3), dan (5) |

7. Berikut adalah keuntungan memiliki hubungan dengan masyarakat luar negeri adalah

- A. dapat memberi sumbangan jika terjadi bencana alam**
- B. memperlancar dalam misi pertukaran kebudayaan**
- C. tempat bekerja oleh penduduk yang mencari pekerjaan**
- D. tempat untuk tujuan ekspor**

8. Salah satu peran pemerintah yang paling utama dalam kegiatan ekonomi adalah

- A. Memberi subsidi pupuk pada petani**
- B. Memungut pajak sesuai undang-undang**
- C. Menggiatkan transmigrasi**
- D. Mencari pinjaman ke luar negeri**

9. Peran pemerintah sebagai produsen dilakukan oleh ...

- A. BUMN**
- B. BUMS**
- C. koperasi**
- D. pejabat negara**

10. Berikut ini merupakan kegiatan ekonomi yang dilakukan pelaku ekonomi.

- (1) Menyediakan jasa transportasi darat dengan mendirikan PERUM DAMRI**
- (2) Menyediakan jasa telpon dengan mendirikan PT Telkom Indonesia**
- (3) Belanja kebutuhan pokok untuk kebutuhan sehari-hari**
- (4) memproduksi baju untuk di jual di Mall**
- (5) Melakukan belanja negara untuk pembangunan jalan**

Kegiatan ekonomi yang dilakukan rumah tangga pemerintah adalah

- A. (1), (2), dan (3)**
- B. (1), (2), dan (4)**
- C. (1), (2), dan (5)**
- D. (2), (3), dan (5)**

D. Join With Arrow

Silahkan pasangkan kalimat didalam kotak dengan pasangan kotak yang benar dan tepat!

**Menjadi Pemakai
faktor produksi**

**Rumah
tangga
Konsumsi**

**Sebagai pemakai
barang/jasa**

**Rumah tangga
Produksi**

**Kegiatan
menyalurkan
barang**

**Masyarakat luar
negeri**

**Mengatur jalannya
roda perekonomian**

Distribusi

**Melakukan
kegiatan Eksor-
Impor**

**Rumah Tangga
Pemerintah**