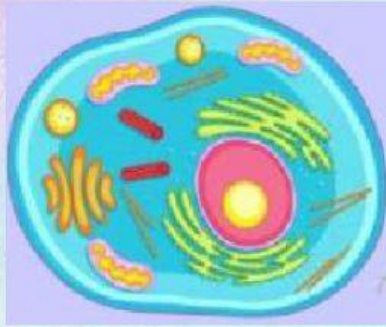
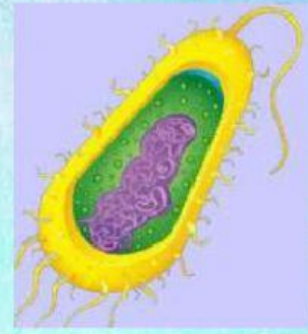


LA CÉLULA

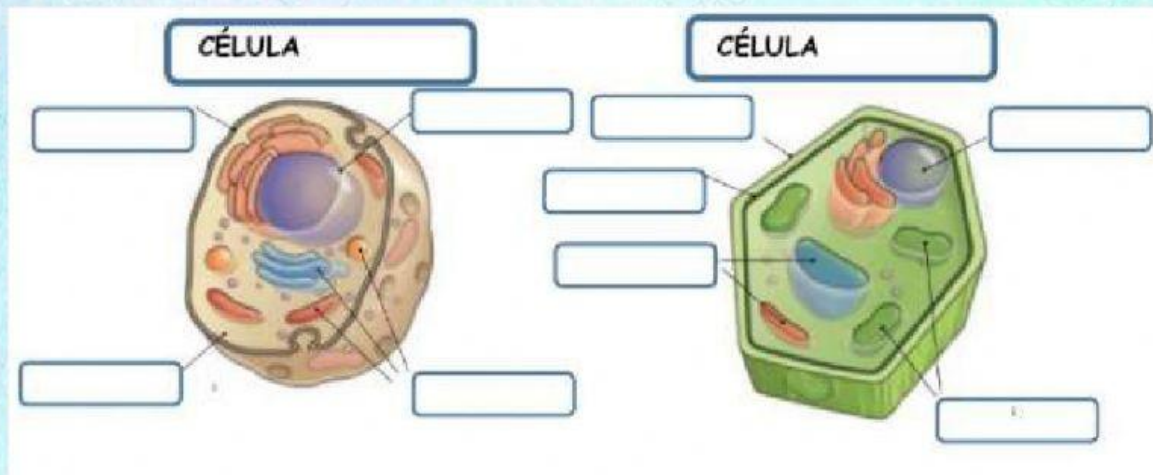
3. Indica qué tipo de célula es:







2. Seleccione qué tipo de célula es cada una y escriba las partes señaladas.



1. Indique si los siguientes enunciados son verdaderos o falsos.

- a) La célula vegetal tiene pared celular y la célula animal no.
- b) La célula animal y vegetal poseen mitocondrias.
- c) La célula procariota no posee un núcleo definido.
- d) Los seres unicelulares tienen varias células.
- e) En el núcleo se encuentran todos los organelos.