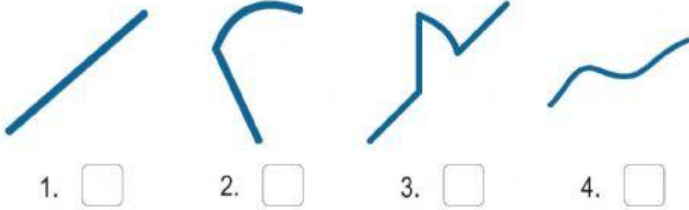
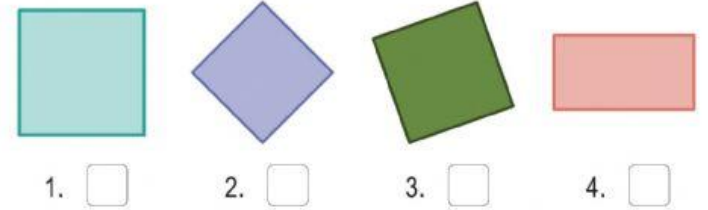


Marca con una cruz la casilla donde está la figura correcta

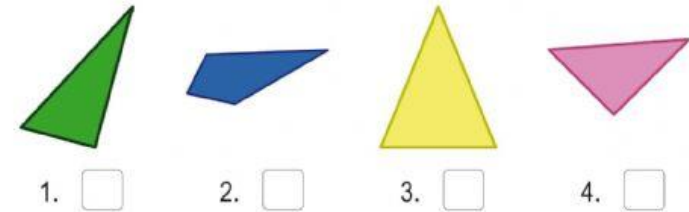
a. ¿Cuál de estas figuras es una curva?



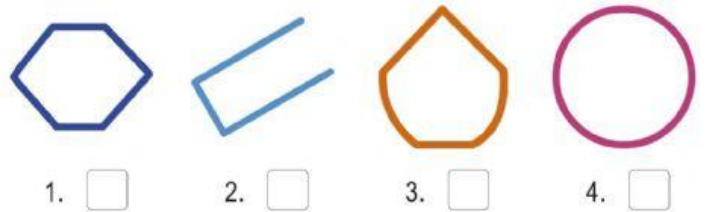
b. ¿Cuál de estas figuras NO es un cuadrado?



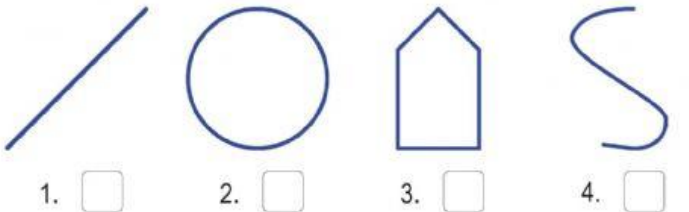
c. ¿Cuál de estas figuras NO es un triángulo?



d. ¿Cuál de estas figuras NO está formada por ninguna línea recta?



e. ¿Cuál de estas figuras es una línea recta?



f. ¿Cuál de estas líneas NO es abierta?

