

FRACCIONES

Actividad 1:

😊 *Llena el espacio con la fracción que corresponda :*



1.- Yeny y Alejandra han pedido una torta para comer. La han cortado en 10 partes iguales, Yeny ha comido 5 partes y Alejandra ha comido sólo 3 partes.

Contesta las preguntas:

¿Qué fracción representa la torta entera? _____

¿Qué fracción se ha comido Yeny? _____

¿Qué fracción se ha comido Alejandra? _____

¿Qué fracción de torta ha sobrado? _____



2.- Angélica compró Lemon Pie y lo partió en 8 partes iguales. Se comió 5 partes y el resto lo guardó. Contesta las preguntas:

¿Qué fracción representa el Lemon Pie entero? _____

¿Qué fracción se ha comido Angélica? _____

¿Qué fracción de postre ha sobrado? _____

3.- Ana, Mariela y Benjamín se comieron una tarta, Ana y Benjamín se comieron $\frac{4}{9}$ y Mariela se comió $\frac{2}{9}$.



Contesta las preguntas:

¿Qué fracción representa la entera? _____

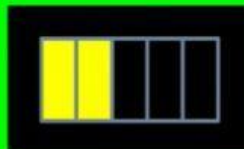
¿Qué fracción se ha comido Ana y Benjamín? _____

¿Qué fracción se ha comido Mariela? _____

¿Qué fracción de tarta ha sobrado? _____

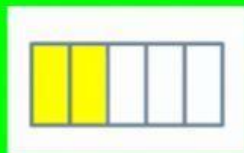
Actividad 2:

- *Selecciona cada imagen con la fracción que corresponda :*




=

$\frac{2}{5}$


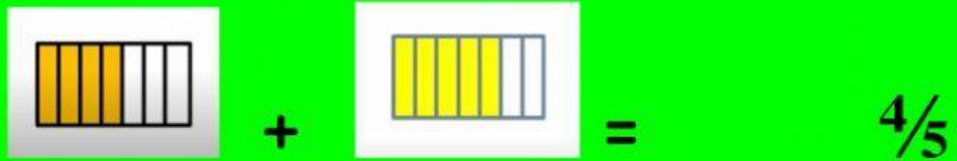


+



=

$\frac{1}{4}$



Actividad 3:

Arrastra cada valor con la representación gráfica que corresponda.





3/4