



ESCUELA DE EDUCACIÓN BÁSICA "FEDERICO PROAÑO"
AÑO LECTIVO 2020-2021

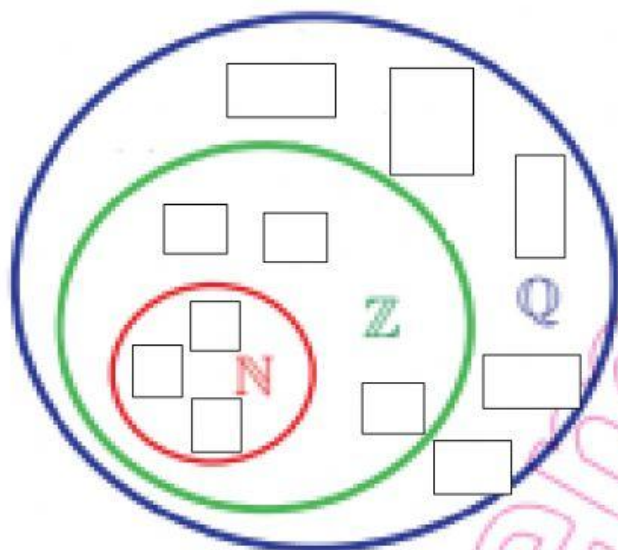
ASIGNATURA: MATEMÁTICAS

AÑO DE EDUCACIÓN BÁSICA: OCTAVO

ESTUDIANTE:

PARALELO:

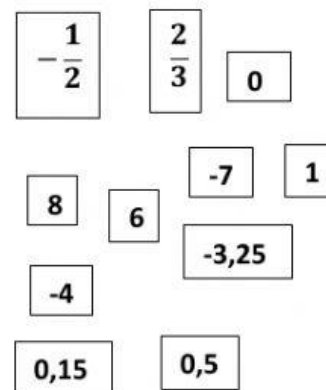
1. Ubica las siguientes cantidades en el conjunto de números que corresponda.



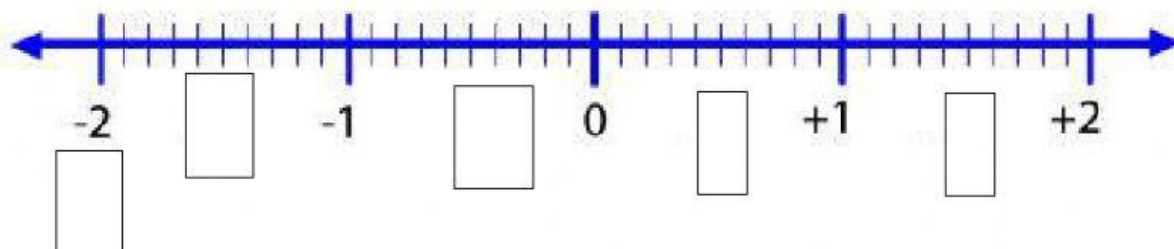
N : Números naturales

Z : Números enteros

Q : Números racionales



2. Ubica los siguientes números racionales en la siguiente recta numérica.



$$-\frac{3}{2}$$

$$-\frac{4}{2}$$

$$\frac{1}{2}$$

$$\frac{3}{2}$$

$$-\frac{2}{5}$$