

LEMBAR SOAL PENILAIAN HARIAN KELAS 4 SEMESTER 2
SDN SISIR 03 KOTA BATU
TAHUN PELAJARAN 2020/2021

MATA PELAJARAN : TEMA 6 Subtema 1

HARI/TANGGAL :

NAMA :

NO.ABSEN :

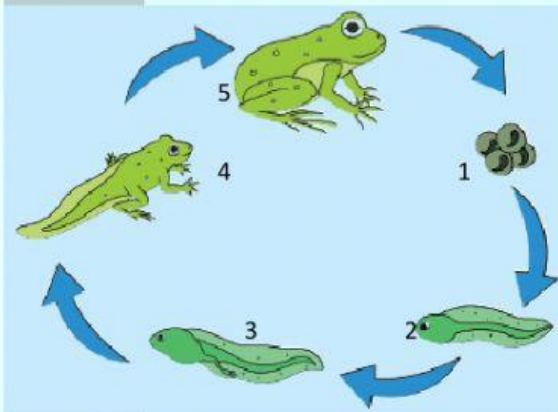
PPKn

Pilihlah dengan jawaban yang benar !

1. Tugas utama seorang dokter adalah
 - A. Membuat Kue
 - B. Mengatur lalulintas
 - C. Mengobati orang sakit
 - D. Menjahit pakaian
2. Tugas utama seorang pilot ,yaitu ;....
 - A. Memperbaiki mesin yang rusak
 - B. Mengajar di kelas
 - C. Menerbangkan pesawat
 - D. Menjaga keamanan
3. Cita-cita adalah,...
 - A. khayalan seseorang tentang masa lalu
 - B. Keinginan hari ini
 - C. Mimpi seseorang di siang hari
 - D. Harapan seseorang mengenai kegiatan atau pekerjaan yang akan di lakukan di masa depan
4. Andi bercita-cita ingin menjadi pemain sepak bola, sikap yang harus ditunjukkan Andi adalah....
 - A. Bermalas-malasan
 - B. Rajin membantu ibu
 - C. Bermain dengan teman
 - D. Berlatih dengan giat
5. Yang termasuk manfaat keragaman cita-cita adalah...
 - A. Menganggap cita-cita orang lain lebih rendah
 - B. Adanya persaingan untk mencapai cita-cita
 - C. Setiap orang memiliki banyak pilihan dalam menentukan kegiatan atau pekerjaan yang Akan dilakukan.
 - D. Akan muncul sikap individualme

IPA

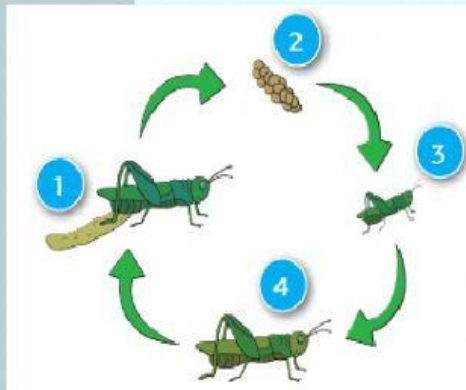
6. Perhatikan gambar di bawah ini !



Pada gambar metamorfosis Katak yang di tunjuk oleh gambar no.4 adalah

- A. Telur
 - B. Katak berekor
 - C. Kecebong berkaki
 - D. Imago
7. Tahapan perubahan yang dialami makhluk hidup selama hidupnya disebut ...
- A. Respirasi
 - B. Metamorfosis
 - C. Daur hidup
 - D. fotosintesis
8. Contoh hewan yang mengalami metamorfosis sempurna adalah ...
- A. Capung dan katak
 - B. Lalat dan nyamuk
 - C. Kupu-kupu dan kutu
 - D. Lalat dan capung

9. Perhatikan gambar di bawah ini



Pada gambar metamorfosis belalang di atas yang ditunjuk oleh no. 3 adalah...

- A. Telur
- B. Nimfa bersayap
- C. Nimfa tak bersayap
- D. Belanga dewasa

10. Perhatikan gambar metamorfosis berikut ini !



Pada gambar metamorfosis kupu-kupu di atas yang di tunjuk oleh no .4 adalah

- A. Telur
- B. Kupu-kupu dewasa
- C. Larva
- D. Pupa



IPS

11. Berikut ini adalah hewan yang dapat dimanfaatkan sebagai bahan makanan, kecuali yaitu,....

- A. Bebek
- B. Sapi
- C. Kuda
- D. Buaya

12. Contoh hewan yang dapat ditenak dengan aman adalah,


- A. Harimau
- B. Buaya
- C. Ular
- D. Bebek

13. Bagian dari pohon pepaya yang dapat dimanfaatkan sebagai bahan makanan adalah ...

- A. Akar dan batang
- B. Buah dan daun
- C. Daun dan akar
- D. Buah dan batang

14. Di bawah ini yang merupakan bentuk kegiatan ekonomi yang memanfaatkan keragaman Hewan adalah ...

- A. Pertanian
- B. Industri
- C. Peternakan
- D. Pariwisata



15. Masyarakat perkotaan pada umumnya memiliki kegiatan ekonomi dibidang...

- A. Peternakan
- B. Perikanan
- C. Pertanian
- D. Perindustrian

16. Perhatikan puisi berikut !

Desaku yang permai

Desaku yang kucinta

Pujaan hatiku

Tempat ayah bunda dan **handai taulanku**

Tak mudah kulupakan

Tak mudah bercerai


Selaluku rindukan

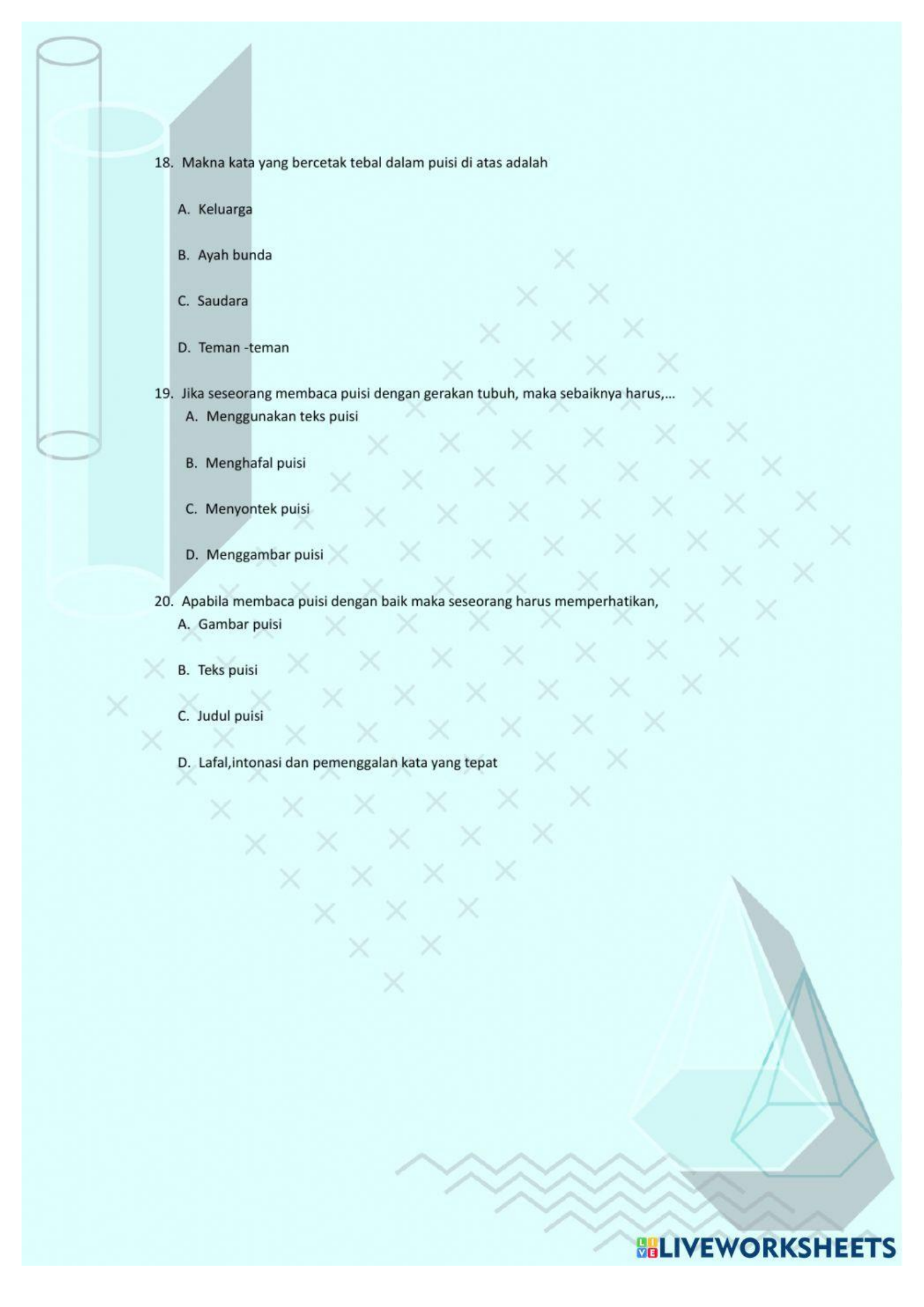
Desaku yang permai

Puisi di atas menceritakan tentang ...

- A. Sulitnya hidup di desa
- B. Kecintaan seseorang pada desanya
- C. Kesedihan karena hidup di desa
- D. Desanya terkena bencana

17. Setting tempat yang digambarkan penulis puisi di atas adalah

- A, perkotaan
 - B. Pedesaan
 - C. Pasar
 - D. Hutan
- 



18. Makna kata yang bercetak tebal dalam puisi di atas adalah

- A. Keluarga
- B. Ayah bunda
- C. Saudara
- D. Teman -teman

19. Jika seseorang membaca puisi dengan gerakan tubuh, maka sebaiknya harus,...

- A. Menggunakan teks puisi
- B. Menghafal puisi
- C. Menyontek puisi
- D. Menggambar puisi

20. Apabila membaca puisi dengan baik maka seseorang harus memperhatikan,

- A. Gambar puisi
- B. Teks puisi
- C. Judul puisi
- D. Lafal,intonasi dan pemenggalan kata yang tepat

