

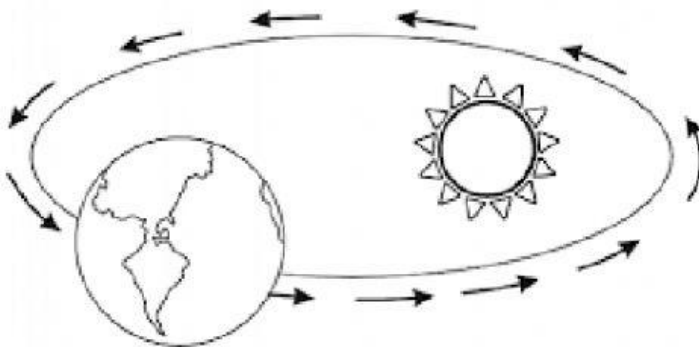
CUESTIONARIO DE SEGUNDO QUIMESTRE
ÁREA CIENCIAS NATURALES

9no EGB

1.- Complete las actividades.

- Escriba bajo cada imagen el nombre del movimiento de la Tierra.
- Una con líneas las características correspondientes a cada imagen.





Dura 24 horas

Movimiento sobre su
propio eje

Genera el día y la noche

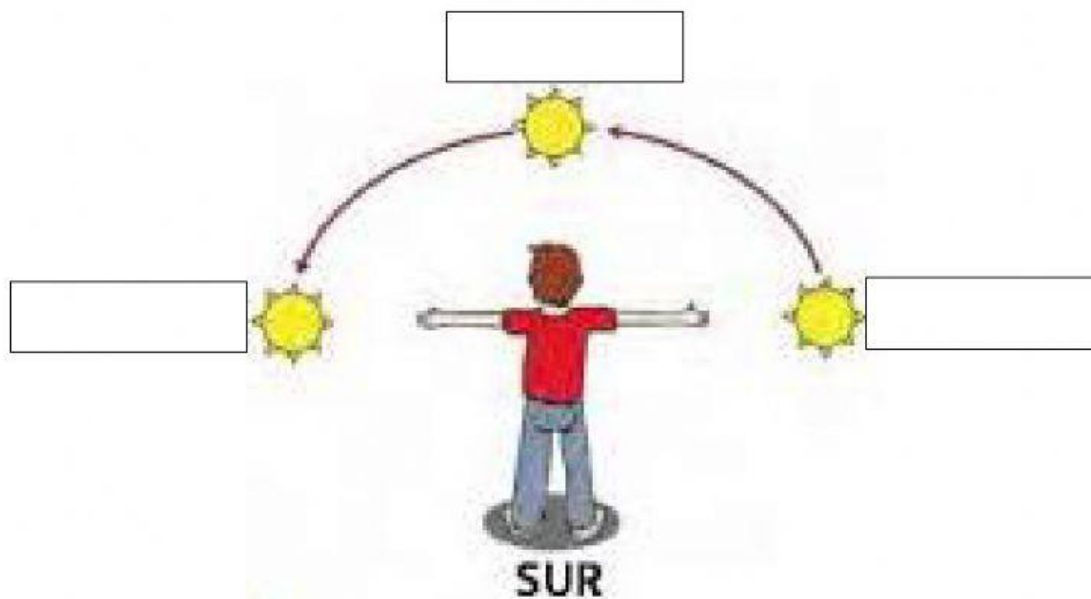
Dura 365 días / 1ño

Genera las 4 estaciones
Primavera, otoño,
invierno y verano

Movimiento
alrededor del sol

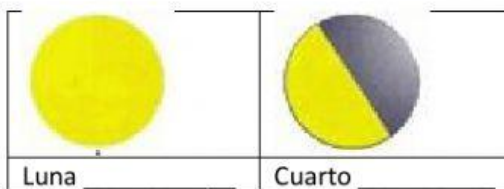
2.- Complete las actividades.

- Escriba los beneficios del sol en la Tierra.
- Ubique las horas del día correctamente.






3.- Completa las fases de la luna con las palabras de la sopa de letras.

K	N	B	E	E	A	G	B	M
D	N	G	D	S	K	S	O	E
O	E	M	P	C	P	G	L	N
J	O	U	Q	H	P	L	K	G
V	I	X	L	L	J	B	B	U
S	Q	F	R	C	K	K	A	A
N	U	E	V	A	S	E	M	N
J	L	L	E	N	A	X	H	T
C	R	E	C	I	E	N	T	E



4.- Escriba el nombre de los siguientes cambios atmosféricos.



5.- Seleccione si los objetos de las imágenes son sólidos, líquidos o gaseosos.

	sólido		sólido		sólido
	líquido		líquido		líquido
	gaseoso		gaseoso		gaseoso
	sólido		sólido		sólido
	líquido		líquido		líquido
	gaseoso		gaseoso		gaseoso

6.- Escriba el estado de la materia al que pertenece cada gráfico.

Este estado tiene su forma propia y definida,
tiene volumen y masa.

Este estado no tiene forma propia ni definida,
Se adapta al recipiente, tiene volumen y masa.

Este estado no tiene forma propia ni definida,
Se adapta al recipiente, tiene volumen y masa.