




LKPD BANGUN DATAR



Nama:
Kelas:

Perhatikan video berikut!



Soal Pilihan Ganda

1. Keliling persegi panjang EFGH yang berukuran panjang 13 cm dan lebar 9 cm adalah...

A. 48 cm

B. 44 cm

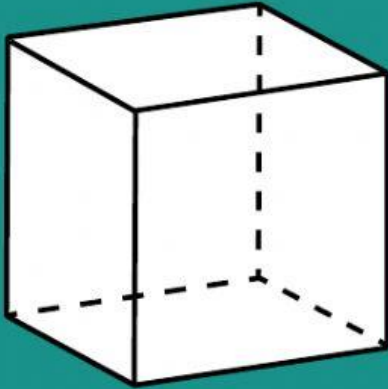
C. 28 cm

D. 24 cm

Soal uraian Singkat

Bangun persegi memiliki empat sisi yang

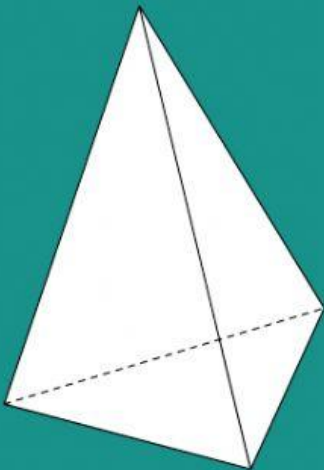
Pasangkan gambar dibawah ini!



Segitiga



Persegi



Persegi Panjang