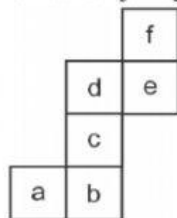


8. Perhatikan jaring-jaring kubus di bawah ini!



Jika (a) adalah tutup kubus, maka alas kubus ditunjukkan pada huruf

-
- a. (b)
 - b. (c)
 - c. (d)
 - d. (e)

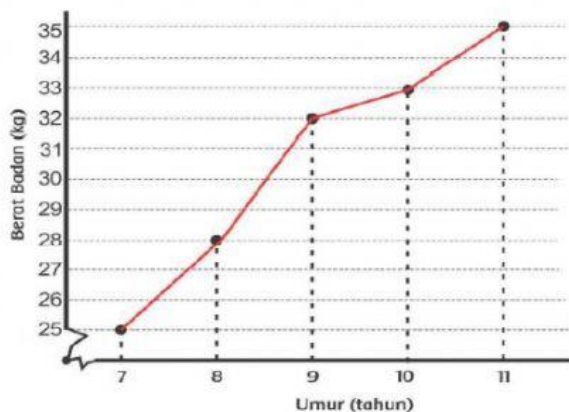
9. Berikut daftar nilai penilaian harian matematika siswa V SD Negeri 235 Tarangkeke

85	70	90	85	75	85
80	95	85	75	85	80
85	80	85	75	65	85
90	85	85	85	80	90
90	95	95	90	95	90

Dari daftar nilai di samping, selisih antara nilai tertinggi dan terendah adalah

- a. 20
- b. 25
- c. 30
- d. 35

10. Berikut adalah data perkembangan berat badan Anto.



Berdasarkan diagram garis di samping, berat badan pada umur 10 tahun adalah

- ... kg
- a. 33
 - b. 32
 - c. 28
 - d. 25

PILIHAN GANDA KOMPLEKS (PGK)

11. Berikut ini adalah data yang disajikan dalam bentuk tabel!

No.	Nama Siswa	Buah yang disukai	Buah yang tidak disukai
1.	Edo	Apel	Pisang
2.	Beni	Mangga	Pepaya
3.	Dayu	Jeruk	Nanas
4.	Lani	Anggur	Strawberi
...

Berilah tanda centang (✓) pada kolom benar atau salah di setiap pernyataan tentang data di bawah ini!

Pernyataan tentang data	Benar	Salah
Data adalah keterangan/informasi yang benar dan nyata.		
Data diambil dari informasi yang salah.		
Data dapat disajikan dalam bentuk daftar, tabel, dan diagram.		
Pengumpulan data hanya dapat dilakukan melalui metode wawancara		

12. Perhatikan tabel di bawah ini!

Pekerjaan Orang Tua Siswa	Jumlah
Petani	23
Guru	7
Penjahit	4
Buruh	10
Polisi	5

Berilah tanda centang (✓) pada pernyataan di bawah ini yang benar tentang data di atas!

- Pekerjaan orang tua siswa paling banyak adalah petani
- Pekerjaan orang tua siswa paling sedikit adalah polisi
- Pekerjaan sebagai penjahit lebih sedikit dibanding sebagai guru
- Pekerjaan sebagai guru lebih sedikit dibanding sebagai polisi

MENJODOHKAN

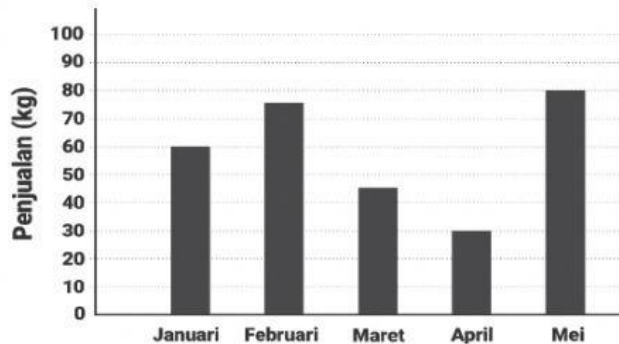
13. Berikut data golongan darah siswa kelas V SD Negeri 117 Saohiring.

A	O	O	AB	B	B
O	A	A	AB	B	AB
O	O	AB	B	AB	AB
AB	A	A	A	B	O
B	B	O	O	A	AB

Pasangkanlah hasil data yang benar di bawah ini sesuai data di atas !

Siswa yang bergolongan darah A	●	●	30 anak
Siswa yang bergolongan darah O	●	●	9 anak
Jumlah siswa kelas V	●	●	8 anak
		●	7 anak

14. Berikut hasil penjualan beras yang disajikan dalam diagram.

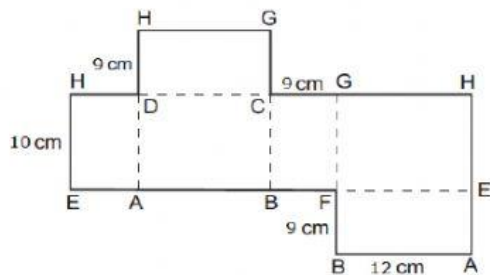


Pasangkanlah hasil data yang benar di bawah ini sesuai diagram batang di atas!

Hasil penjualan bulan Februari	●	●	15 Kg
Hasil penjualan bulan April	●	●	60Kg
Selisih hasil penjualan bulan Januari dan Maret	●	●	75 Kg
		●	30Kg

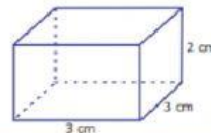
ISIAN

15. Perhatikan gambar berikut!



Berdasarkan gambar jaring-jaring balok tersebut di atas, diketahui bahwa panjang rusuk GH adalah cm, sedangkan panjang rusuk FG adalah ... cm.

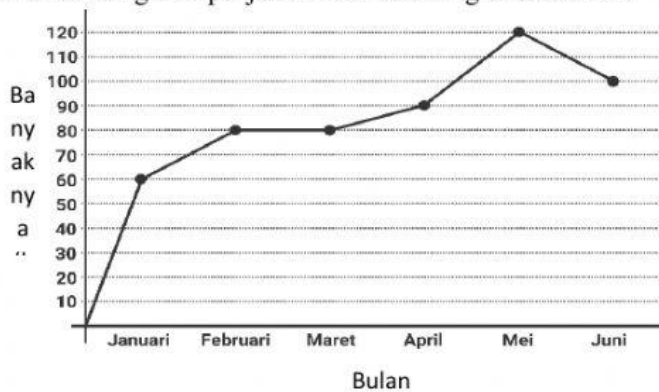
16. Perhatikan gambar balok di samping!
Luas permukaan dari balok tersebut adalah ...cm²



17. Perhatikan gambar di samping!
Gambar di samping merupakan salah satu metode untuk mengumpulkan data. Metode tersebut yang digunakan untuk mengumpulkan data adalah ...



18. Perhatikan grafik penjualan ikan dalam kg di bawah ini!



Jumlah penjualan ikan pada bulan Maret adalah ... kg

URAIAN

1. Berikut adalah daftar nilai matematika siswa kelas V SD Negeri 235 Tarangkeke

70	80	80	90	70
100	60	70	80	70
60	80	80	100	70
90	60	70	80	80

Buatlah tabel distribusi frekuensi berdasarkan data di atas!

2. Berikut data umur siswa kelas V SD Negeri 235 Tarangkeke

11	10	11	12	10
10	12	12	14	12
12	14	14	11	11
12	12	13	12	13
11	12	12	11	10
10	13	10	11	13

Buatlah diagram batang pada data di atas!