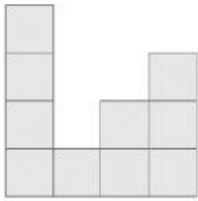



1. ¿Cuál es el área de estas figuras en cuadraditos?


A.



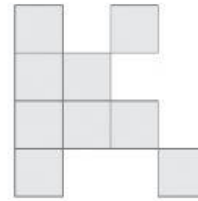
B.



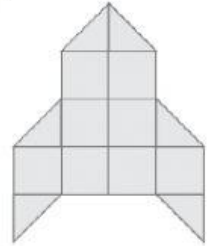
C.



D.



E.



Área =	Área =	Área =	Área =	Área =
--------	--------	--------	--------	--------

2. Completa las siguientes igualdades:

a) $12 \text{ m}^2 =$ cm^2 c) $8 \text{ hm}^2 =$ m^2

b) $75 \text{ dm}^2 =$ m^2 d) $450 \text{ cm}^2 =$ m^2

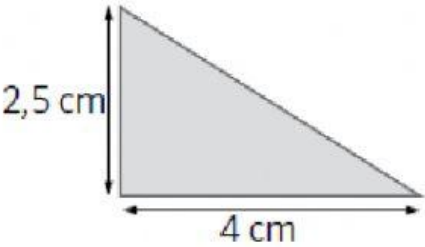
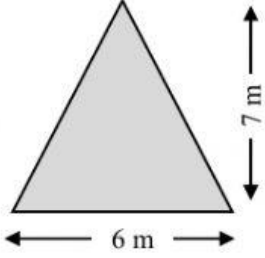
3. Halla el área de estos polígonos. Escribe la solución con la unidad.

A=	A=

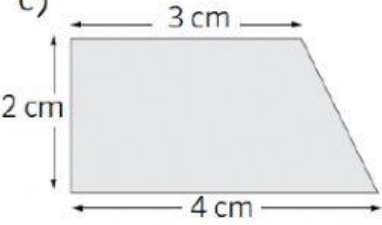
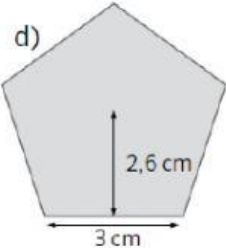
4. Halla el área de estos polígonos. Escribe la solución con la unidad.

A=	A=

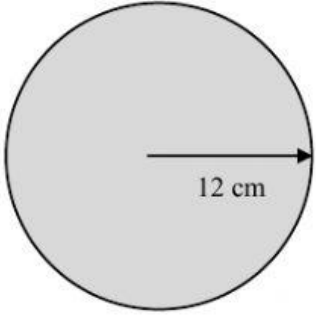
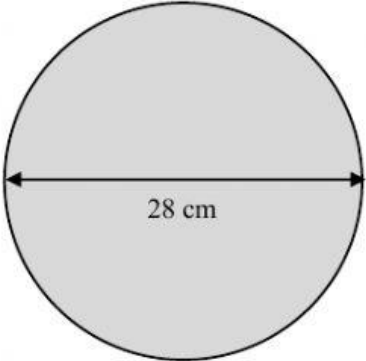
5. Halla el área de estos triángulos. Escribe la solución con la unidad.

	
A=	A=

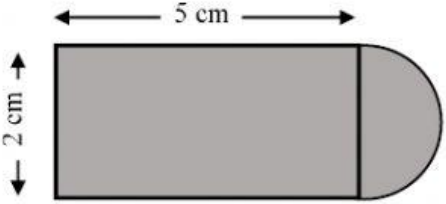
6. Halla el área de estas figuras planas. Escribe la solución con la unidad.

<p>c)</p> 	<p>d)</p> 
A=	A=

7. Halla el área de estos círculos. Escribe la solución con la unidad.

	
A=	A=

8. Halla el área de esta figura plana. Escribe la solución con la unidad.

	<p>ÁREA =</p>
---	---------------