



PEMERINTAH KABUPATEN SINJAI
DINAS PENDIDIKAN
SDN 65 KOMPANG
KKG GUGUS 16 KAB. SINJAI
KECAMATAN SINJAI TENGAH
PENILAIAN AKHIR TAHUN TP. 2022/2023



Jl. Poros Sinjai-Malino Kecamatan Sinjai Tengah Kab. Sinjai Kode Pos 92652

Nama : Kelas : V (lima)

Mata Pelajaran : 9. Benda-benda di sekitar kita Hari/Tanggal :

A. PILIHAN GANDA

Berilah tanda silang (X) pada huruf A, B, C, atau D di depan jawaban yang benar !

1. Gambar di bawah ini menunjukkan adanya...di dalam masyarakat yang berbeda adat dan istiadat.



- A. kesatuan
B. keakraban
C. keragaman
D. kerukunan
2. Manfaat yang dapat kita peroleh jika kita menjaga persatuan dan kesatuan bangsa adalah...
- A. pekerjaan yang dilakukan tidak cepat selesai
B. pembangunan berjalan dengan tersendat-sendat
C. tumbuh permusuhan antara daerah
D. akan tercipta suasana aman, tertib, dan tentram.
3. Letak astronomis Indonesia adalah...
- A. 6° LS - 11° LS dan 95° BB - 141° BT
B. 6° LS - 11° LS dan 95° BB - 150° BT
C. 6° LU - 11° LS dan 95° BT - 141° BT
D. 6° LS - 11° LU dan 95° BB - 141° BT
4. Pak Eko memanfaatkan empang di sebelah rumahnya untuk pembudidayaan udang. Kegiatan ekonomi yang dilakukan oleh Pak Eko adalah...
- A. pertanian
B. perikanan
C. pertambangan
D. perindustrian .
5. Berikut yang termasuk zat tunggal, yaitu...
- A. gula pasir, garam dapur, dan madu murni
B. emas, sop buah, dan sayur asam
C. sayur bayam, es teh manis, dan es susu
D. air kopi hangat, sirop buah, dan minyak goreng
6. Komponen penyusun campuran pada gambar adalah...
- A. air, gula, dan sari buah
B. air, gula, dan teh
C. air, dan garam
D. air, gula, dan serbuk kopi



7. Suatu cara yang digunakan untuk menawarkan atau mempromosikan suatu barang atau jasa disebut...
- reklame
 - iklan
 - penawaran
 - ajakan
8. Tanda titik warna merah pada iklan dibawah termasuk dalam unsur iklan yaitu...



- alamat pengiklan
 - kalimat iklan
 - keunggulan produk
 - nama produk
9. Tangga nada terbagi atas...
- tangga nada diatonis dan pentatonis
 - tangga nada mayor dan pentatonis
 - tangga nada minor dan diatonis
 - tangga nada mayor dan minor
10. Fungsi pola lantai dalam tarian adalah...
- mengetahui ciri khas dari sebuah tarian
 - menentukan jenis properti tari yang digunakan
 - membuat posisi dalam ruang gerak sebuah tarian
 - menentukan jenis tarian yang akan dipentaskan

B. ISIAN

Isilah titik-titik di bawah ini dengan jawaban yang tepat !

11. Perhatikan pernyataan berikut ini!
- menghargai pendapat orang lain
 - adanya sikap pertengkaran
 - saling menghormati satu sama lain
 - hidup menjadi tidak aman

Ciri-ciri hidup rukun ditunjukkan nomor...



Gambar diatas adalah contoh kegiatan yang mencerminkan kerukunan di lingkungan...

13. Perhatikan tabel kegiatan ekonomi berikut !

No	Kegiatan Ekonomi
1	Dokter
2	Penjual mie ayam
3	Guru
4	Penjual sayur
5	Tukang cukur

Kegiatan ekonomi dalam bidang jasa adalah ...

14. Perhatikanlah kedua gambar berikut!



A



B



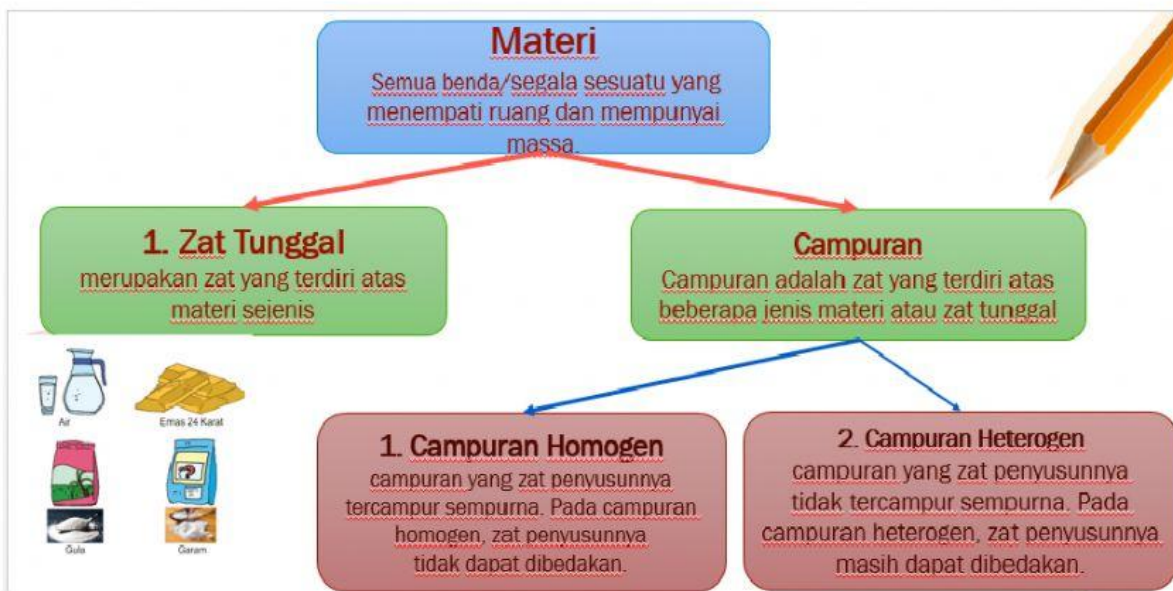
C

Gambar yang termasuk jenis usaha yang dikelola secara perorangan adalah...

C. URAIAN

Jawablah pertanyaan-pertanyaan dibawah ini dengan tepat !

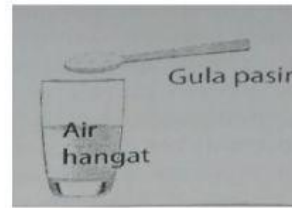
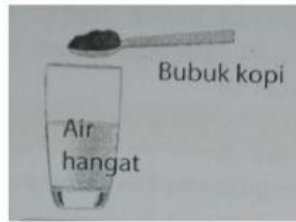
Perhatikan peta konsep berikut untuk menjawab soal nomor 15-16.



15. Jelaskan perbedaan materi, zat tunggal dan zat campuran ?

Jawab:

16. Tuliskan jenis campuran pada gambar-gambar berikut jika kedua benda dalam setiap gambar dicampurkan!



Campuran :
 Alasannya :

 :

Campuran :
 Alasannya :

 :

D. PILIHAN GANDA KOMPLEKS





Bacalah teks berikut!

Dalam kehidupan sehari-hari, kita sering menjumpai iklan yang dipasang di berbagai media. Iklan adalah informasi untuk mendorong, membujuk, atau memberikan pengaruh kepada pembaca agar tertarik pada barang atau jasa yang ditawarkan. Iklan disajikan dalam bentuk media cetak dan media elektronik. Iklan media cetak merupakan iklan yang ditulis atau dicetak. Contoh media cetak, yaitu, koran, majalah, tabloid, brosur, dan baliho. Media elektronik berperan penting dalam menghibur, mendidik, memberi informasi, dan kontrol sosial masyarakat. Media elektronik yang dapat menayangkan iklan antara lain adalah televisi, radio, dan internet.

17. Berdasarkan teks di atas, berilah tanda centang (✓) untuk pernyataan “Benar” atau “Salah” pada kolom yang tersedia.

Pernyataan	Benar	Salah
Selain media cetak, iklan juga dapat disampaikan menggunakan media elektronik.		
Televisi adalah media elektronik yang tidak dapat menayangkan iklan.		
Koran, majalah, tabloid, brosur, dan baliho merupakan media cetak		
Iklan adalah informasi untuk mendorong, membujuk, atau memberikan pengaruh kepada pembaca agar tertarik pada barang atau jasa yang ditawarkan.		

18. Perhatikan gambar iklan di bawah ini! Beri tanda centang (✓) pada kolom yang sesuai dengan media iklan tersebut.





Gambar Iklan	Media Cetak	Media Elektronik
		
		
		
		

E. MENJODOHKAN

19. Hubungkan dengan garis antara pertanyaan dan jawaban yang tepat !

Tuliskan jenis-jenis tangga nada diatonis!	← Urutan nada yang disusun secara berjenjang
Apa yang dimaksud dengan tangga nada ?	← Tangga nada mayor dan tangga nada minor
Apa yang dimaksud dengan tangga nada pentatonis?	← Gugur Bunga
Tuliskan lagu yang menggunakan tangga nada minor !	← Jenis tangga nada terdiri atas lima nada.

20. Hubungkan dengan garis antara tarian dan pola lantai yang tepat!

	→	←	Pola lantai horizontal
	→	←	Pola lantai diagonal
	→	←	Pola lantai lingkaran
	→	←	Pola lantai melengkung

*** SELAMAT BEKERJA ***