


Nombre				<div>Timbre de EVALUADOR</div>
Curso	4°A	Fecha:	13 Junio 2023	
Asignatura	Historia	Profesor:	Luis Martínez Silva	
OA: 06	Ubicar lugares en un mapa, utilizando coordenadas geográficas como referencia (paralelos y meridianos).			
OEA: E6A2	Comprender las leyes de la naturaleza, la historia del mundo inserta en el conflicto cósmico y la promesa de vida eterna.			
Puntaje IDEAL	50	Puntaje REAL		
			Calificación	

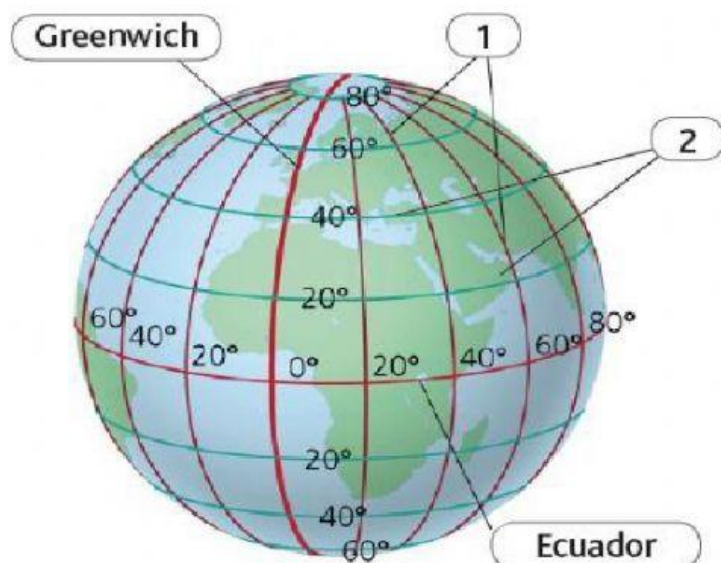
INSTRUCCIONES:

- Lee con mucha atención cada enunciado antes de responder.
- Marca con una X la alternativa correcta.
- Si tienes dudas, levanta tu mano y espera al profesor.

1

La imagen anterior muestra los círculos y semicírculos imaginarios trazados alrededor de la Tierra. El conjunto de estas líneas imaginarias o círculos y semicírculos reciben el nombre de:

(2 pts.)

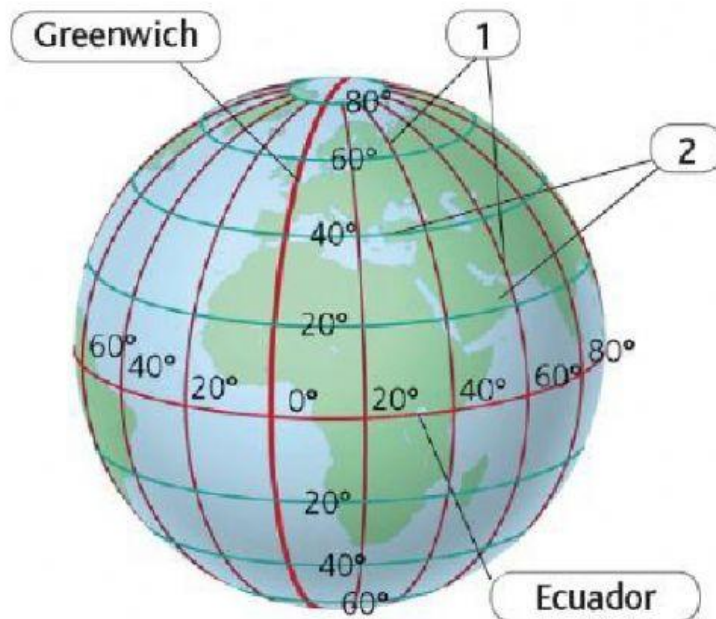


- (A) Polo Norte y Polo Sur.
- (B) Coordenadas geográficas.
- (C) Hemisferio norte y hemisferio sur.
- (D) Hemisferio occidental y hemisferio oriental.

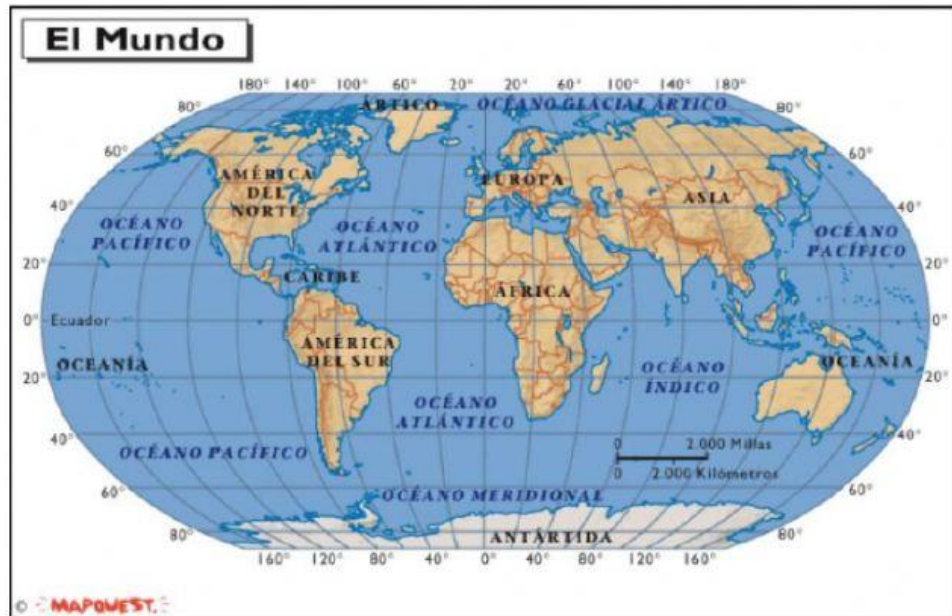
2

¿Cuál de las siguientes líneas imaginarias nos sirven de referencia para medir la distancia o longitud de cualquier punto de la superficie terrestre al este u oeste de dicha línea?

(2 pts.)



- (A) El Ecuador.
- (B) El huso horario.
- (C) El trópico de Cáncer.
- (D) El Meridiano 0° o de Greenwich.



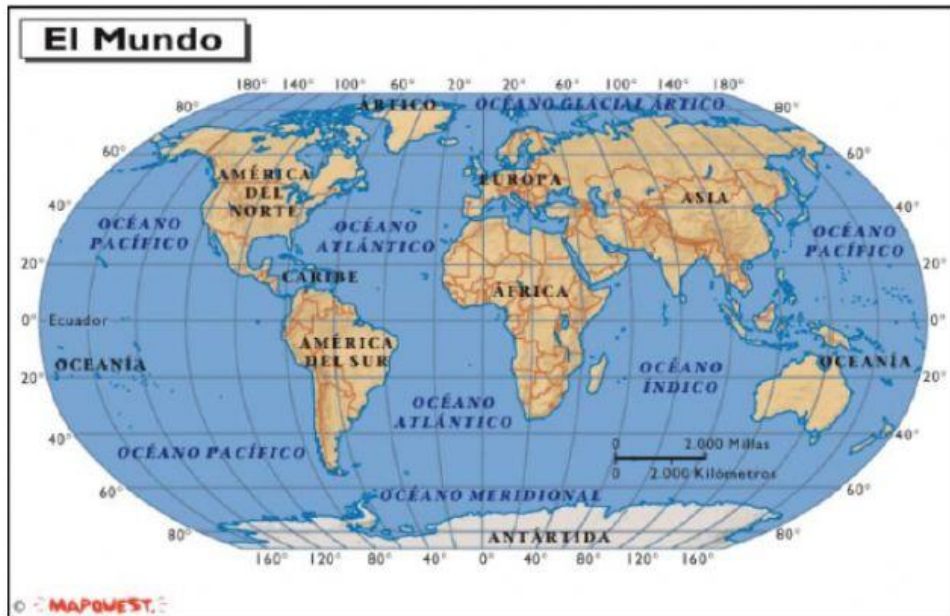
<http://www.imagi.com/a/mapamundi-politico-ILreX9Bp>

¿Qué latitud y longitud posee cualquier lugar ubicado en América Central?

- (A) Latitud norte y longitud oeste.
- (B) Latitud sur y longitud este.
- (C) Longitud oeste y latitud sur.
- (D) Longitud este y latitud sur.

4

(2 pts.)



<http://www.imagi.com/a/mapamundi-politico-ILReX9Bp>

El punto ubicado en 40° de latitud norte y 20° de longitud oeste se sitúa en:

- (A) Asia.
- (B) Océano Atlántico.
- (C) América del Norte.
- (D) Océano Pacífico.

5

(2 pts.)

América se divide en tres regiones geográficas: América del Norte, América Central y América del Sur. ¿Cuál de los siguientes pares de países forman parte de América del Norte?

- (A) Cuba y Belice.
- (B) Colombia y Ecuador.
- (C) Panamá y Costa Rica.
- (D) México y Estados Unidos.

6

¿Cuál es la línea de referencia que divide a nuestro planeta en dos hemisferios Norte y Sur?

(2 pts.)

- (A) Ecuador.
- (B) Trópico de cáncer.
- (C) Trópico de capricornio.
- (D) Meridiano de Greenwich.

7



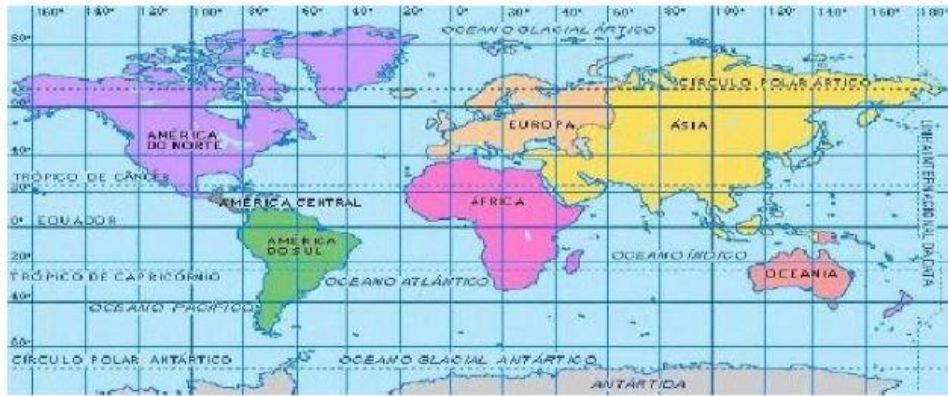
(2 pts.)

Los continentes por el cual atraviesa el círculo del ecuador son:

- (A) América - África - Asia.
- (B) América - Europa - Asia.
- (C) América - África - Oceanía.
- (D) América - Europa - Oceanía.

8

(2 pts.)



¿Qué continente se encuentra solo en el hemisferio sur?

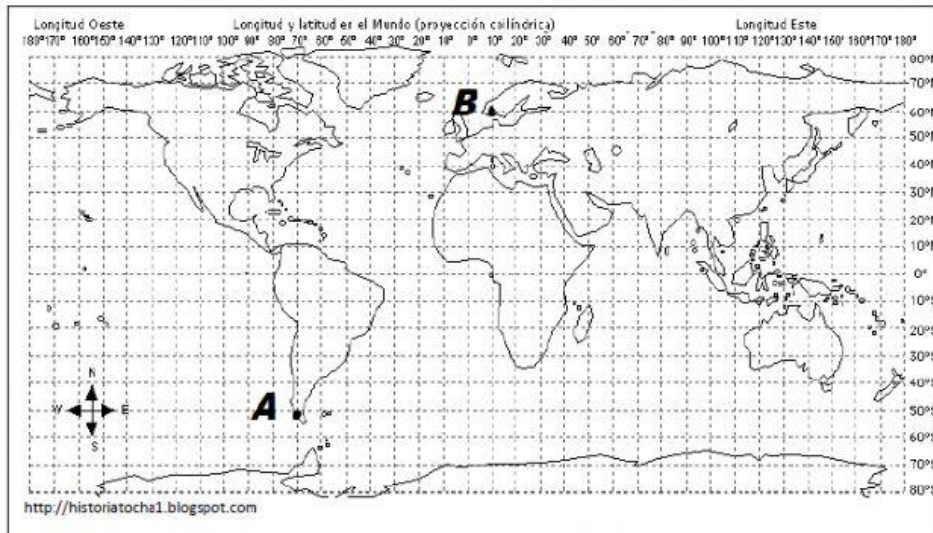
- ☐ A Asia.
- ☐ B Europa.
- ☐ C Oceanía.
- ☐ D América.

9

Los paralelos indican la latitud, ¿qué quiere decir este concepto?

(2 pts.)

- ☐ A La distancia entre un punto de la tierra con el ecuador.
- ☐ B La distancia entre un punto de la tierra y el trópico de Cáncer.
- ☐ C La distancia entre un punto de la tierra y el trópico de capricornio.
- ☐ D La distancia entre un punto de la tierra y el meridiano de Greenwich.

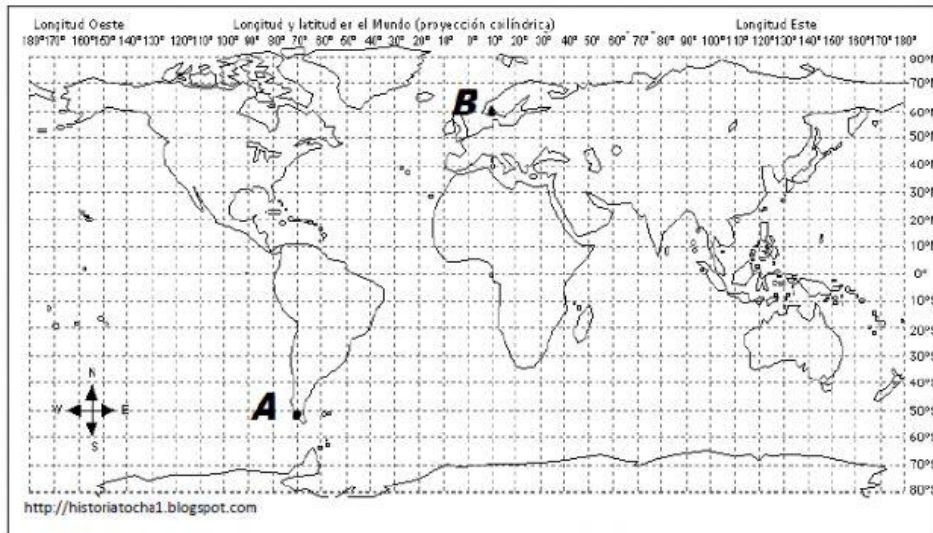


La letra A se ubica en las siguientes coordenadas:

- (A) Latitud 50 Sur, Longitud 70 Este.
- (B) Latitud 50 norte, Longitud 70 Este.
- (C) Latitud 50 Sur, Longitud 70 Oeste.
- (D) Latitud 50 Norte, Longitud 70 Oeste.

11

(2 pts.)



La letra B se ubica en las siguientes coordenadas:

- (A) Latitud 60 Sur, Longitud 10 Este.
- (B) Latitud 60 Norte, Longitud 10 Este.
- (C) Latitud 60 Sur, Longitud 10 Oeste.
- (D) Latitud 60 Norte, Longitud 10 Oeste.

12

(2 pts.)

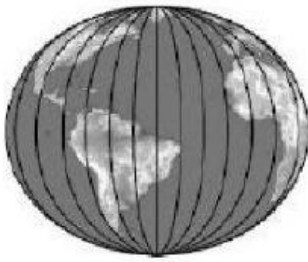
Las formas de representar al planeta como el globo terráqueo y el planisferio tienen muchas líneas verticales y horizontales que parecen formar una red. Estas reciben el nombre de:

- (A) Paralelos.
- (B) Meridianos.
- (C) A y B son correctas.
- (D) Ninguna de las anteriores.

13

La red de la imagen representa:

(2 pts.)



- (A) Latitud.
- (B) Paralelos.
- (C) Meridianos.
- (D) Longitud.

14

Los paralelos son líneas imaginarias horizontales que tienen orientación Este-Oeste. Son perpendiculares al eje terrestre y disminuyen de tamaño al acercarse a los polos, el paralelo de referencia recibe el nombre de:

(2 pts.)

- (A) Línea del ecuador.
- (B) Trópico de cáncer.
- (C) Línea de Greenwich.
- (D) Trópico de capricornio.