

PEMERINTAH KABUPATEN SINJAI
DINAS PENDIDIKAN
SD NEGERI 68 MANIPI KEC. SINJAI BARAT

Alamat : Jln. Lembah Harapan Manipi Kel. Tassililu, Kec. Sinjai Barat Kab. Sinjai ☎ 92653

SOAL PENILAIAN AKHIR TAHUN (PAT)

Tema : 9. Benda-Benda Di Sekitar Kita
Kelas/ Smt : V (Lima)/ Genap
Tahun Pelajaran: 2022/2023
Nama Siswa :

Mapel	K.D	No. Soal	Nilai	Ketuntasan	TTD Guru	TTD Orang Tua
PPKn	3.4	1,6,11,16,21				
Indonesia	3.4	2,7,12,17,22				
IPA	3.9	3,8,13,18,23				
IPS	3.1,3.3	4,9,14,19,24				
SBdP	3.2,3.3 & 3.4	5,10,15,20,25				

A. PILIHAN GANDA

Jawablah pertanyaan di bawah ini dengan memberi tanda silang (×) pada pilihan jawaban yang paling benar!

1. Perhatikan gambar berikut!



Berdasarkan gambar di atas, yang bukan merupakan sikap untuk menjaga persatuan dan kesatuan dalam keberagaman masyarakat adalah

- A. gambar A
B. gambar B
C. gambar C
D. gambar D

2. Perhatikan gambar iklan berikut!



Gambar di atas merupakan jenis iklan

- A. layanan masyarakat
B. pengumuman
C. penawaran
D. komersil

3. Perhatikan tabel berikut!

No	Benda
1	Sirup
2	Garam
3	Kecap
4	Gula

Dari daftar benda di atas, yang termasuk zat campuran adalah

- A. 1 dan 4
B. 2 dan 3
C. 1 dan 3
D. 2 dan 4

4. Perhatikan gambar berikut!



Kegiatan ekonomi yang tampak pada gambar di atas adalah

- A. produksi
- B. distribusi
- C. konsumsi
- D. produsen

5. Perhatikan gambar berikut!



Berdasarkan gambar di atas, pola lantai pada gerak tari tersebut adalah

- A. vertikal
- B. diagonal
- C. melengkung
- D. horizontal

B. PILIHAN GANDA KOMPLEKS

6. Perhatikan pernyataan berikut!

- (i) Membersihkan lingkungan bersama-sama.
- (ii) Tidak pernah ikut serta dalam membersihkan lingkungan.
- (iii) Menghormati perbedaan (agama, suku, daerah, adat dan kebudayaan) dalam masyarakat.
- (iv) Bermain dengan teman yang memiliki persamaan suku, agama, ras ataupun daerah.

Berdasarkan pernyataan di atas manakah yang termasuk contoh perilaku yang mencerminkan persatuan dan kesatuan? Beri tanda centang (✓) pada kolom benar atau salah!

Pernyataan	Benar	Salah
(i)		
(ii)		
(iii)		
(iv)		

7. Perhatikan pernyataan di bawah ini!

- (i) Mempengaruhi khalayak ramai tentang suatu produk barang atau jasa.
- (ii) Menyarankan masyarakat untuk membeli sebanyak-banyaknya.
- (iii) Mengajak masyarakat untuk tidak menggunakan produk orang lain.
- (iv) Menyarankan seseorang untuk membeli dan menggunakan suatu produk jasa.

Berdasarkan pernyataan di atas, manakah yang merupakan tujuan iklan? Berilah tanda Centang (✓) Benar atau Salah pada pernyataan di bawah ini!

Pernyataan	Benar	Salah
(i)		
(ii)		
(iii)		
(iv)		

8. Perhatikan beberapa pernyataan berikut!
- (i) Air dicampur dengan minyak adalah contoh campuran homogen
 - (ii) Air dicampur dengan kopi adalah contoh campuran homogen
 - (iii) Air dicampur pewarna makanan adalah contoh campuran homogen
 - (iv) Air dicampur gula adalah contoh campuran homogen

Dari pernyataan di atas, manakah pernyataan yang benar terkait contoh campuran homogen, Berilah tanda centang (✓) pada kolom Benar atau Salah!

Pernyataan	Benar	Salah
(i)		
(ii)		
(iii)		
(iv)		

9. Bacalah teks berikut!

Kegiatan utama yang dilakukan dalam bidang ekonomi terdiri atas:

1. Produksi

Produksi yaitu kegiatan menambah faedah (kegunaan) suatu benda. Produksi juga berarti menciptakan benda baru sehingga lebih bermanfaat dalam memenuhi kebutuhan.

2. Distribusi

Distribusi adalah penyaluran atau penyampaian barang-barang dan jasa dari produsen ke konsumen.

Tujuan dari distribusi adalah menyampaikan barang atau jasa dari tempat produsen ke tempat pengguna atau pemakai. Pelaku distribusi dapat memperoleh upah ataupun keuntungan dari kegiatan distribusi barang yang dilakukannya.

3. Konsumsi

Konsumsi adalah tindakan menghabiskan atau mengurangi secara berangsur-angsur manfaat suatu barang dalam memenuhi kebutuhan untuk memelihara kelangsungan hidupnya.

Tujuan kegiatan konsumsi yaitu untuk memenuhi kebutuhan hidup.

Berilah tanda centang (✓) pada kolom Benar atau Salah berdasarkan bacaan di atas!

Pernyataan	Benar	Salah
Kegiatan dalam bidang ekonomi dikelompokkan dalam 3 jenis.		
Kegiatan untuk memenuhi kebutuhan manusia dalam rangka mencapai kemakmuran adalah tujuan dari distribusi.		
Kegiatan ekonomi yang ketiga bertujuan untuk memenuhi kebutuhan hidup.		
Kegiatan penyaluran atau penyampaian barang dan jasa dari produsen ke konsumen adalah kegiatan produksi.		

10. Perhatikan teks lagu berikut!

[illegible]

Berdasarkan teks lagu di atas, berilah tanda centang (✓) pada kolom benar atau salah yang sesuai dengan pernyataan!

Pernyataan	Benar	Salah
Lagu bersifat sedih dan kurang bersemangat		
Diciptakan oleh Ibu Sud		
Melodi lagu biasanya diawali atau diakhiri dengan nada La		
Riang gembira		

C. MENJODOHKAN

11. Perhatikan pernyataan berikut!

- (i) Terjadi pertengkaran di dalam keluarga
- (ii) Sombong dan tidak peduli terhadap teman
- (iii) Tidak adanya kerjasama yang terjalin antarwarga masyarakat
- (iv) Melemahnya pertahanan dan keamanan bangsa

Berilah garis penghubung antara pertanyaan dan tempat/lingkungan terjadinya akibat tidak adanya persatuan dan kesatuan dengan tepat!

Pernyataan		Lingkungan	
(i)	●	●	Lingkup negara
(ii)	●	●	Masyarakat
(iii)	●	●	Keluarga
(iv)	●	●	Sekolah

12. Perhatikan gambar berikut!



Gambar A



Gambar B



Gambar C



Gambar D

Berdasarkan gambar di atas, pasanglah antara gambar dengan informasi iklan yang sesuai dengan menarik garis penghubung yang tepat!

Gambar		informasi Iklan	
A	●	●	Iklan tentang depot air minum isi ulang
B	●	●	Iklan tentang alat untuk mensterilkan air minum
C	●	●	Iklan tentang penawaran mobil
D	●	●	Iklan layanan masyarakat tentang asap rokok

13. Perhatikan beberapa jenis materi berikut!

- (i) Unsur
- (ii) Senyawa
- (iii) Campuran homogen
- (iv) Campuran heterogen

Pasangkan antara jenis materi dengan pengertiannya berikut ini dengan menggunakan garis!

Jenis Materi		Pengertian	
(i)	●	●	Campuran yang terdiri atas dua materi atau zat yang dapat menyatu secara merata.
(ii)	●	●	Zat kimia yang tidak dapat dibagi lagi menjadi zat yang lebih sederhana.
(iii)	●	●	Campuran yang terdiri atas dua zat atau materi berbeda yang tidak dapat menyatu secara sempurna.
(iv)	●	●	Zat tunggal yang terbentuk dari beberapa unsur.

14. Perhatikan gambar berikut!



Gambar A



Gambar B



Gambar C



Gambar D

Berdasarkan gambar di atas, pasangkan antara gambar dengan jenis usaha ekonomi yang sesuai dengan menggunakan garis!

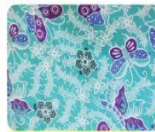
Gambar	
A	•
B	•
C	•
D	•

Usaha Kegiatan Ekonomi	
•	Pertanian
•	Perkebunan
•	Peternakan
•	Jasa

15. Perhatikan gambar berikut!




Gambar A



Gambar B



Gambar C



Gambar D

Berdasarkan gambar di atas, pasangkan antara gambar dengan asal daerah yang sesuai dengan menggunakan garis!

Gambar	
A	•
B	•
C	•
D	•

Asal Daerah	
•	Cirebon Mega Mendung
•	Solo Parang Kusuno
•	Yogyakarta Ceplok
•	Motif Batik Pekalongan

D. ISIAN SINGKAT

Isilah titik-titik berikut ini dengan jawaban yang tepat!

16. Perhatikan gambar berikut!



Pada gambar di atas menunjukkan adanya persatuan di lingkungan

17. Perhatikan pernyataan berikut!

Ada beberapa jenis iklan, salah satunya adalah jenis iklan yang bisa dilihat dan didengar secara bersamaan. Jenis iklan ini banyak ditemui di televisi dan bioskop.

Berdasarkan pernyataan di atas, jenis iklan yang dimaksud adalah iklan

18. Perhatikan paragraf berikut!

Segelas kopi yang dibuat Siti merupakan perpaduan tiga materi yaitu air, gula putih, dan bubuk kopi. Dalam dasar gelas tampak adanya endapan kopi yang tidak larut sempurna dengan air dan gula.

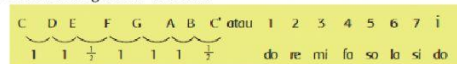
Berdasarkan paragraf di atas, campuran tersebut termasuk zat campuran.....

19. Perhatikan pernyataan berikut!

Negara Indonesia memiliki wilayah perairan yang lebih luas dibanding wilayah daratannya.

Berdasarkan pernyataan di atas, negara Indonesia disebut sebagai negara.....

20. Perhatikan gambar berikut!



Nama tangga nada berdasarkan gambar di atas adalah tangga nada diatonis

E. URAIAN

Jawablah pertanyaan berikut dengan tepat!

21. Perhatikan gambar berikut!



Tuliskan 3 contoh perilaku yang mencerminkan persatuan dan kesatuan pada lingkungan yang tampak pada gambar di atas !

Jawaban :

.....

.....

.....

.....

.....

22. Perhatikan ilustrasi berikut!

Iklan elektronik adalah iklan yang menggunakan alat atau perangkat elektronik.

Berdasarkan ilustrasi di atas, tuliskan 3 alat atau perangkat pada iklan tersebut!

Jawaban :

.....

.....

.....

.....

.....

23. Perhatikan ilustrasi berikut!

Zat campuran adalah zat yang komponen penyusunnya terdiri atas dua atau lebih zat atau materi. Pada zat campuran terbagi atas 2 jenis.

Berdasarkan ilustrasi di atas, tulis dan jelaskan kedua jenis zat tersebut!

Jawaban :

.....

.....

.....

.....

.....

24. Perhatikan ilustrasi berikut!

Usaha ekonomi yang dikelola secara berkelompok adalah usaha yang dijalankan secara bersama-sama, baik dalam hal modal, pengelolaan, maupun dalam hal bagi hasil.

Tuliskan 3 contoh usaha ekonomi berdasarkan ilustrasi di atas!

Jawaban :

.....

.....

.....

.....

.....

25. Perhatikan gambar berikut!



Gambar A



Gambar B



Gambar C

Tuliskan langkah-langkah pembuatan batik berdasarkan gambar di atas !

Jawaban :

Gambar A:

Gambar B:

Gambar C:

"Selamat Bekerja"