



PEMERINTAH KABUPATEN PURWAKARTA
DINAS PENDIDIKAN
UPTD SDN WANAKERTA KECAMATAN BUNGURSARI

Kp. Cikiara Rt.03 Rw.02 Desa Wanakerta
Email sdnwanakertapurwakarta@yahoo.co.id



Muatan Pelajaran : Seni Tari
Hari/Tanggal :

Nama :
Kelas/Semester : IV (Empat)/Genap

Petunjuk Umum :

1. Berdo'alah sebelum mengerjakan soal sesuai dengan keyakinan masing-masing !
2. Tuliskan namamu dengan jelas dan rapi !
3. Kerjakan soal yang paling mudah lebih dahulu !
4. Jika menemukan soal yang kurang jelas, tanyakan kepada guru !
5. Jika sudah selesai mengerjakan, kumpulkan lembar soal dan jawaban kepada guru !

I. Berilah tanda silang (X) pada huruf a, b, c atau d dengan jawaban yang paling tepat!

1. Karya seni yang diungkapkan melalui gerakan berirama disebut juga
a. Seni rupa b. seni tari c. seni kriya d. seni peran
2. Di bawah ini adalah unsur-unsur utama seni tari, kecuali....
a. wiraga b. wirama c. wirasa d. wirupa
3. Berikut adalah fungsi seni tari, kecuali
a. sarana upacara adat b. pertiakaian c. hiburan d. pergaulan
4. Tari yang dilakukan oleh satu orang disebut....
a. tari tunggal b. tari berpasangan c. tari rampak d. tari kelompok
5. Berikut ini contoh tari yang hanya bisa dilakukan secara berkelompok, kecuali....
a. tari kecak b. tari perang c. tari saman d. tari jaipong
6. Tari yang berasal dari Jawa Tengah adalah....
a. tari serimpi b. tari jaipong c. tari saman d. tari kecak
7. Di bawah ini adalah tari yang berasal dari Jawa Barat, kecuali....
a. tari kuncaran b. tari merak c. tari jaipong d. tari legong
8.  Nama tarian pada gambar di samping adalah....
a. tari seudati C. tari Reog
b. tari Legong d. tari topeng
9.  Tari pada gambar di samping berasal dari daerah....
a. Bali c. Jawa Barat
b. Aceh d. Banten
10. Tari yang berasal Sumatera Barat adalah....
a. tari pendet b. tari piring d. tari tanggai d. tari yamong

11. Garis yang dilalui oleh penari pada saat melakukan perpindahan disebut juga....
a. pola gerak b. pola barisan c. pola lantai d. pola garis

12. Tari kecak menggunakan pola lantai....
a. lurus b. lengkung c. diagonal d. vertikal

13. Tari saman menggunakan pola lantai....
a. melengkung b. melingkar c. setengah lingkaran d. lurus

14. Berikut adalah pola lantai berbentuk....



- a. lingkaran
- b. Diagonal
- c. Vertical
- d. horizontal

15. Berikut adalah contoh tarian yang menggunakan pola lantai lengkung, kecuali....

- a. tari kecak b. tari sekapur sirih c. tari randai d. tari saman

16. Benda-benda yang digunakan sebagai alat untuk mendukung ungkapan suatu gerakan tari disebut juga

- a. kostum tari b. peralatan tari c. pelengkapan tari d. properti tari

17. Di bawah ini adalah termasuk kedalam properti tari, kecuali....

- a. panggung b. kipas c. piring d. tombak

18. Properti yang digunakan dalam tari perang adalah....

- a. tombak b. kuda lumping c. pecut d. keris

19. Tari yang tidak perlu menggunakan properti adalah....

- a. topeng b. kuda lumping c. jaipong d. piring

20. Di bawah ini yang bukan merupakan properti tari adalah....

- a. 
- b. 
- c. 
- d. 


21. Keseluruhan dari semua busana yang dipakai penari saat melakukan pertunjukkan tari sesuai dengan yang ditampilkan disebut juga....

- a. properti tari b. kostum tari c. peralatan tari d. pelengkapan tari

22. Disamping adalah kostum yang dipakai pada tari....



- a. merak
- b. pendet
- c. bidadari menimang anak
- d. yamong

23.  Kostum yang dipakai pada kepala seperti gambar disamping disebut....
- sampur
 - apok
 - siger
 - sesuping

24. Dibawah ini adalah salah satu kostum tari yang bernama sampur....

- a.  b.  c.  d. 

25. Hal berikut yang seharusnya tidak dilakukan terhadap tari daerah adalah

- a. mempelajarinya b. menguasainya c. mengacuhkannya d. melestarikannya

II. Isilah titik-titik di bawah ini dengan jawaban yang benar!

26. Unsur tari yang merujuk pada gerak tubuh dinamakan....
27. Unsur tari yang merujuk pada penjiwaan, penghayatan dan pengekspresian gerak dalam tari dinamakan....
28. Tari payung berasal dari daerah....
29. Tari yang berasal dari Jawa Barat adalah....
30. Tari sembah berasal dari....
31. Tari saman menggunakan pola lantai....
32. Tarian yang menggunakan pola lantai melengkung adalah....
33. Properti tari yang digunakan pada tari pakarena adalah....
34. Properti tari yang digunakan pada tari Srikandi adalah....
35. Bagian kostum yang dipakai untuk gerakan terbang pada tari merak adalah....