

Lembar Kerja Peserta Didik (LKPD)

Nama :
Semester :
Tanggal :

Kelas :
Kelompok :

Kompetensi Inti

1. Menghayati dan mengamalkan ajaran agama yang dianutnya
2. Menghayati dan mengamalkan perilaku jujur, disiplin, santun, peduli (gotong royong, kerjasama, toleran, damai), bertanggung jawab, responsif, dan pro-aktif dalam berinteraksi secara efektif sesuai dengan perkembangan anak di lingkungan, keluarga, sekolah, masyarakat dan lingkungan alam sekitar, bangsa, negara, kawasan regional, dan kawasan internasional
3. Memahami, menerapkan, dan menganalisis pengetahuan faktual, konseptual, prosedural, dan metakognitif berdasarkan rasa ingin tahunya tentang ilmu pengetahuan, teknologi, seni, budaya, dan humaniora dengan wawasan kemanusiaan, kebangsaan, kenegaraan, dan peradaban terkait penyebab fenomena dan kejadian, serta menerapkan pengetahuan prosedural pada bidang kajian yang spesifik sesuai dengan bakat dan minatnya untuk memecahkan masalah
4. Mengolah, menalar, dan menyaji dalam ranah konkret dan ranah abstrak terkait dengan pengembangan dari yang dipelajarinya di sekolah secara mandiri, bertindak secara efektif dan kreatif, serta mampu menggunakan metode sesuai kaidah keilmuan

Kompetensi Dasar

- 3.5 Menganalisis dinamika litosfer dan dampaknya terhadap kehidupan
- 4.5 Menyajikan proses dinamika litosfer dengan menggunakan peta, bagan, gambar, tabel, grafik, foto, dan/atau video

Indikator Pencapaian Kompetensi

- 3.5.1 Mengklasifikasikan tenaga tektonisme
- 3.5.2 Menganalisis dampak pergerakan lempeng tektonik terhadap pembentukan fitur geologi
- 3.5.3 Menganalisis proses tektonisme dan pengaruhnya terhadap kehidupan
- 4.5.1 Membuat peta persebaran Fitur geologi yang terbentuk akibat pergerakan lempeng

PETUNJUK Pengerjaan LKPD



BUAT KELOMPOK

berkumpulah bersama kelompok mu sesuai dengan yang telah dibagikan sebelumnya



ISI IDENTITAS

tuliskan Nama dan identitas sesuai dengan kolom yang telah disediakan



AMATI VIDEO

silahkan amati video yang telah guru jelaskan

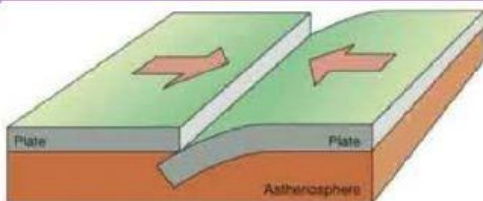
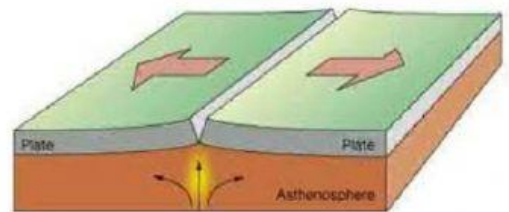
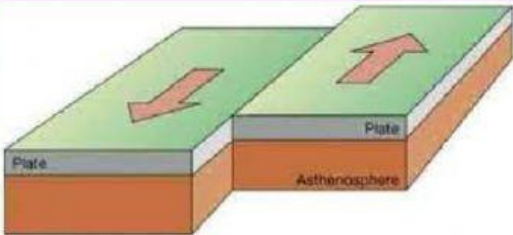


KERJAKAN SOAL

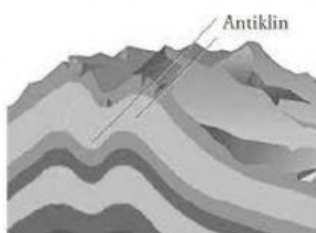
jawablah pertanyaan yang ada pada LKPD

Tugas

1. Analisis gambar pergerakan lempeng tektonik berikut, kemudian deskripsikan



2. Analisis gambar hasil bentukan akibat pergerakan lempeng tektonik berikut, kemudian sebutkan dan jelaskan proses pergerakan lempeng tektonik apa yang mengakibatkan terbentuknya bentuk muka bumi tersebut!



3. Analisis apa saja pengaruh tektonisme terhadap kehidupan

4. Buatlah peta persebaran hasil bentukan muka bumi/fitur geologi akibat pergerakan lempeng tektonik

Kelompok 4 & 2 : pegunungan

Kelompok 3 & 1 : patahan

Kelompok 5 & 6 : palung