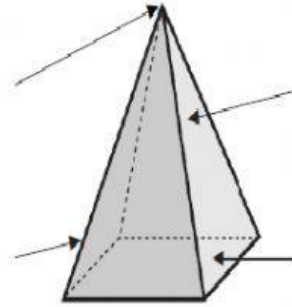
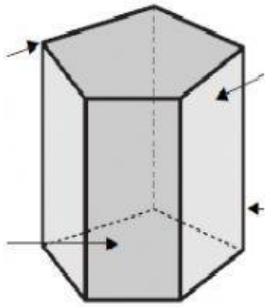
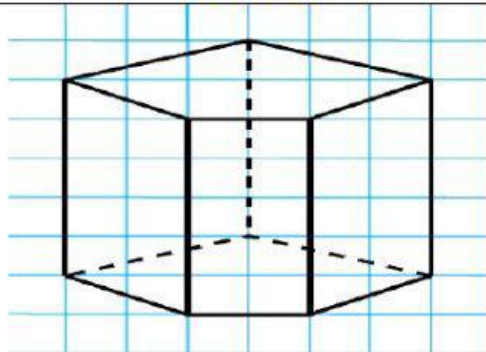


PRISMAS Y PIRÁMIDES

Completa con: vértice, arista, cara lateral , base



PRISMA



¿Cuántas bases tiene?

¿Son iguales?

SÍ

NO

¿Cuántas caras laterales tiene el prisma?

¿Qué forma tienen las caras laterales del prisma? señala

triángulos

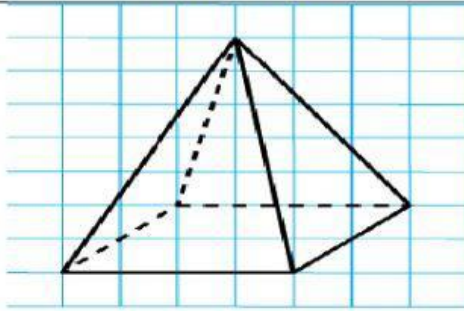
pentágonos

hexágonos

rectángulos

¿Cuántas caras tiene el prisma en total?

PIRÁMIDE



¿Cuántas bases tiene la pirámide?

¿Qué forma tienen las caras laterales de la pirámide?

triángulos pentágonos hexágonos cuadrados

¿Cuántas caras tiene la pirámide en total?



¿Es un prisma o una pirámide?

¿Cómo se llama?

¿Cuántas caras tiene?

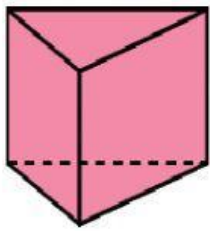
¿Son todas iguales?

¿Qué forma tienen las caras ? : señala

triángulos pentágonos hexágonos cuadrados

¿Cuántos vértices tiene?

¿Cuántas aristas tiene?



Nombre del cuerpo:

Polígonos de las bases:

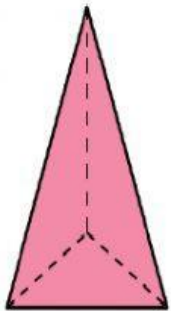
triángulos pentágonos hexágonos cuadrados

Número de bases:

Número de caras laterales:

Número de vértices:

Número de aristas:



Nombre del cuerpo:

Polígono de la base:

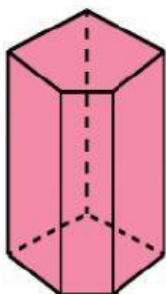
triángulo pentágono hexágono cuadrado

Número de bases :

Número de caras laterales:

Número de vértices:

Número de aristas:



Nombre del cuerpo:

Polígonos de las bases:

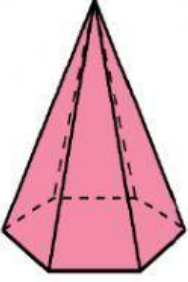
triángulos pentágonos hexágonos cuadrados

Número de bases:

Número de caras laterales:

Número de vértices :

Número de aristas :

	<p>Nombre del cuerpo:</p> <p>Polígono de la base:</p> <p>triángulo pentágono hexágono cuadrado</p> <p>Número de bases:</p> <p>Número de caras laterales:</p> <p>Número de vértices:</p> <p>Número de aristas:</p>
---	--

Observa las fichas de la actividad anterior y completa las frases con una de las expresiones.

uno más

igual

el triple

el doble

El número de caras laterales es siempre que el número de lados de una base.

El número de vértices de un prisma es que el número de lados de una base.

El número de vértices de una pirámide es que el número de lados de una base.

El número de aristas de un prisma es que el número de lados de una base.

El número de aristas de una pirámide es que el número de lados de una base.