


Name _____ Date _____

MEMBUAT GRAFIK


Hitung jumlah gambar dan buat grafik dengan cara menarik garis!



10				
9				
8				
7				
6				
5				
4				
3				
2				
1				

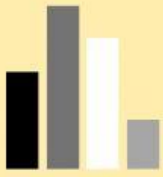


Berapa jumlahnya?



benda yang paling banyak adalah

Benda yang paling sedikit adalah



PENYUSUNAN DATA DATA GRAPHING

Data mobil yang parkir di Pusat Perbelanjaan ITC Cempaka Mas pada tanggal 2 Mei 2021 pukul 09.00 – 10.30.



- 1 Apa warna mobil yang paling banyak? _____
- 2 Apa warna mobil yang paling sedikit? _____
- 3 Mobil warna apakah yang jumlahnya 6 mobil? _____
- 4 Apa saja warna mobil yang jumlahnya sama? _____
- 5 Berapakah total mobil merah dan putih yang terparkir? _____
- 6 Berapakah jumlah mobil warna hitam yang terparkir? _____
- 7 Berapa jumlah seluruh mobil yang terparkir? _____