

# Soal Penilaian Akhir Tahun

## Tema 8 Kelas III K13

Tahun Ajaran 2022/2023

Nama :

Kelas :

**I. Berilah tanda silang (x) pada huruf a, b, c atau d di depan jawaban yang paling benar !**

**Muatan Pelajaran : PPKn**

1. Kemajemukan bangsa Indonesia disatukan dengan semboyan ....
  - a. bersatu kita kuat
  - b. bersama kita satu
  - c. bersatu kita runtuh
  - d. Bhinneka Tunggal Ika
2. Tercapainya masyarakat Indonesia yang adil dan makmur merupakan tujuan dari sila ....
  - a. pertama
  - b. kedua
  - c. ketiga
  - d. kelima
3. Sila persatuan Indonesia dilambangkan ....
  - a. rantai
  - b. bintang
  - c. pohon beringin
  - d. kepala banteng
4. Bangsa Indonesia dikenal dengan keragaman sukunya. Diperkirakan suku di Indonesia lebih dari 1.300 suku. Keragaman suku bangsa dan budaya Indonesia harus dipandang sebagai ....
  - a. kekayaan bangsa
  - b. perbedaan bangsa
  - c. keanehan bangsa
  - d. perpecahan bangsa
5. Wilayah Indonesia membentang dari ....
  - a. Sabang sampai Makassar
  - b. Sabang sampai Madura
  - c. Sabang sampai Merauke
  - d. Sabang sampai Manggarai


**Muatan Pelajaran : Bahasa Indonesia**

6. Rambu yang memiliki warna dasar putih dengan garis tepi berwarna merah termasuk dalam rambu ....
  - a. peringatan
  - b. perintah
  - c. larangan
  - d. petunjuk
7. Gambar tunas kelapa merupakan lambang organisasi ....
  - a. Pramuka
  - b. Karang Taruna
  - c. PMI
  - d. OSIS
8. Gambar yang menunjukkan letak sebuah desa disebut ....
  - a. denah
  - b. denah sekolah
  - c. denah rumah
  - d. denah desa
9. Seseorang membuat sebuah denah dengan tujuan ....
  - a. memudahkan pencarian tempat
  - b. mengetahui arah pulang
  - c. mempersulit perjalanan
  - d. mengetahui penjelasan

10. Hal pertama yang perlu dipahami dalam sebuah denah adalah ....
- jumlah bangunan yang ada
  - panjang jalan yang dilalui
  - arah mata angin
  - warna lokasi

**Muatan Pelajaran : Matematika**

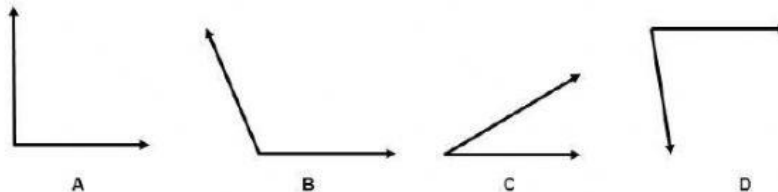
11. Perhatikan gambar berikut !



Titik yang menunjukkan titik sudut adalah ....

- P
- Q
- O
- R

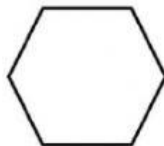
- 12.12.



Gambar yang menunjukkan sudut tumpul adalah gambar yang ditunjukkan oleh huruf ....

- A
- B
- C
- D

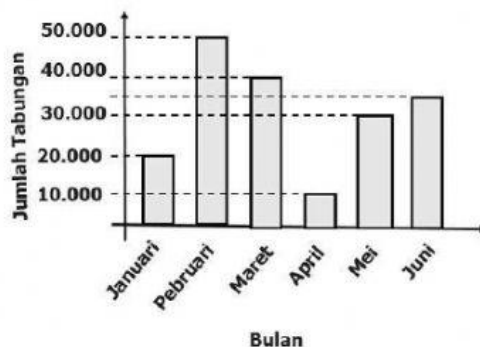
- 13.



Nama bangun datar di samping adalah ....

- segi empat
- segitiga
- segi lima
- segi enam

Perhatikan data berikut untuk mengerjakan soal nomor 14 dan 15 !  
Data tabungan Alvin



14. Jumlah tabungan di bulan Maret adalah ....

- Rp 40.000,00
- Rp 30.000,00
- Rp 20.000,00
- Rp 10.000,00

15. Alvin menabung paling sedikit pada bulan ....

- Januari
- Februari
- Maret
- April

**Muatan Pelajaran : PJOK**

16. Latihan kekuatan otot harus dilakukan secara ....

- sesuka hati
- teratur dan disiplin
- keras tanpa henti
- bersama-sama

17. Berikut ini yang termasuk latihan keseimbangan adalah ....
  - a. duduk sambil menekuk lutut
  - b. jongkok bertumpu pada telapak tangan
  - c. berjalan di atas balok titian
  - d. berbaring mencium lutut
18. Gerakan pull up bertujuan untuk melatih kekuatan otot ....
  - a. kaki
  - b. tangan
  - c. punggung
  - d. kepala
19. Saat berdiri dengan satu kaki kedua tangan direntangkan dengan tujuan untuk menjaga ....
  - a. kekuatan
  - b. keseimbangan
  - c. kelenturan
  - d. kelincahan
20. Perhatikan gambar berikut !  
Gerakan pada gambar di samp
 
  - a. pull up
  - b. sit up
  - c. push up
  - d. squat jump

**Muatan Pelajaran : SBdP**

21. Tujuan menggambar garis dan bidang pada karya dekoratif agar terlihat ....
  - a. menarik
  - b. jelas
  - c. penuh
  - d. berbeda
22. Birama 3/4 memiliki jumlah ketukan sebanyak ....
  - a. 1
  - b. 2
  - c. 3
  - d. 4
23. Panjang dan pendeknya bunyi dihitung berdasarkan ....
  - a. not balok
  - b. ketukan
  - c. irama
  - d. melodi
24. Unsur utama dalam sebuah tari adalah ....
  - a. kostum
  - b. panggung
  - c. tata rias
  - d. gerak
25. Alat yang digunakan untuk memotong kardus agar sesuai pola yang telah digambar adalah ....
  - a. gergaji
  - b. pisau
  - c. gunting
  - d. Jarum