









# Naming fractions



1. Name the fractions. Write.

<p><b>a</b></p>  <p>_____</p>	<p><b>b</b></p>  <p>_____</p>
<p><b>c</b></p>  <p>_____</p>	<p><b>d</b></p>  <p>_____</p>
<p><b>e</b></p>  <p>_____</p>	<p><b>f</b></p>  <p>_____</p>
<p><b>g</b></p>  <p>_____</p>	<p><b>h</b></p>  <p>_____</p>