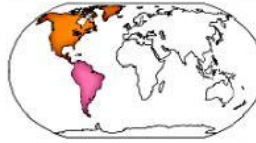


TRANSFERENCIA Y PRÁCTICA SEMANA 15 – CIENCIAS SOCIALES

Nombre: _____ 3° _____

1. Une de acuerdo al continente coloreado, la imagen y su nombre.



ÁFRICA

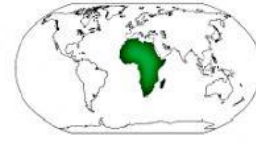
➤ Lee las preguntas y selecciona la respuesta correcta.



ÁSIA

2. Un continente es:

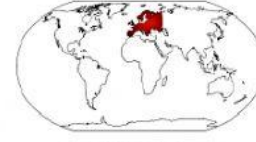
- a. Una masa de agua.
- b. Extensión de tierra firme.
- c. Un grupo de montañas.



AMÉRICA

3. Un océano es:

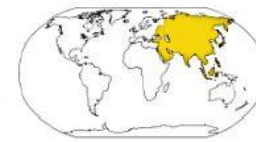
- a. Una masa de agua.
- b. Extensión de tierra firme.
- c. Un grupo de montañas.



EUROPA

4. El continente más grande del mundo es:

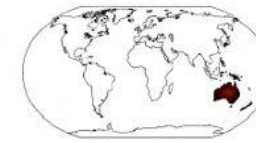
- a. América.
- b. Asia.
- c. África.



ANTÁRTIDA

5. El océano más extenso del mundo es:

- a. Océano Atlántico.
- b. Océano pacífico.
- c. Océano Índico.



OCEANÍA

6. El continente más pequeño es:

- a. América.
- b. Asia.
- c. Oceanía.

7. Tu vives en el continente:

- a. Americano.
- b. Asiático.
- c. Europeo.

2. De acuerdo con los recuadros escribe o arrastra, el nombre de los océanos del mundo.

