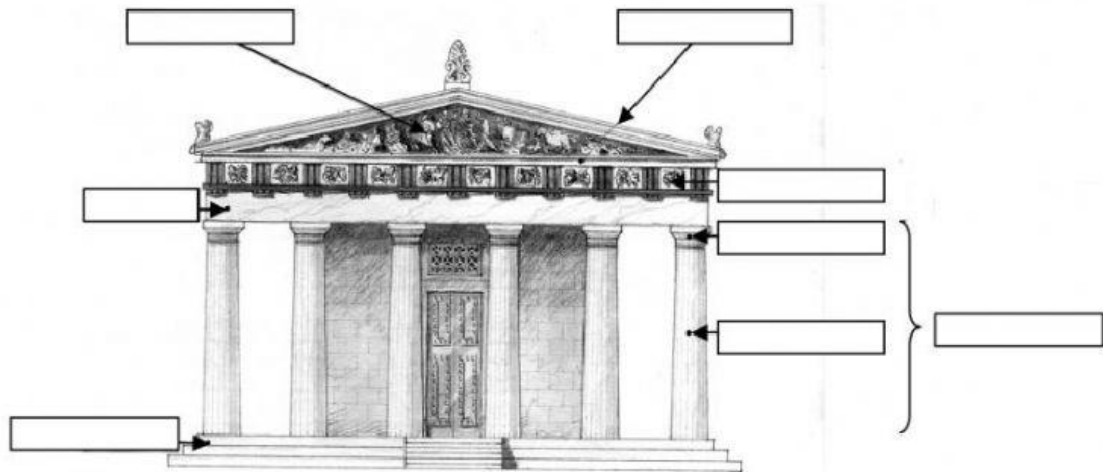


FACULTAD DE ARQUITECTURA Y DISEÑO
LICENCIATURA EN ARQUITECTURA
ARQUITECTURA Y URBANISMO ANTIGÜEDAD

NOMBRE: _____ CÉDULA: _____
GRUPO: _____ FECHA: _____ PROFESORA: ANA ARMUELLES CHONG

Parte I. Partes de un templo griego

Indica en la imagen las partes del templo griego según su fachada.



Frontón

Tejado a dos aguas

Plataforma

Arquitrabe

Friso

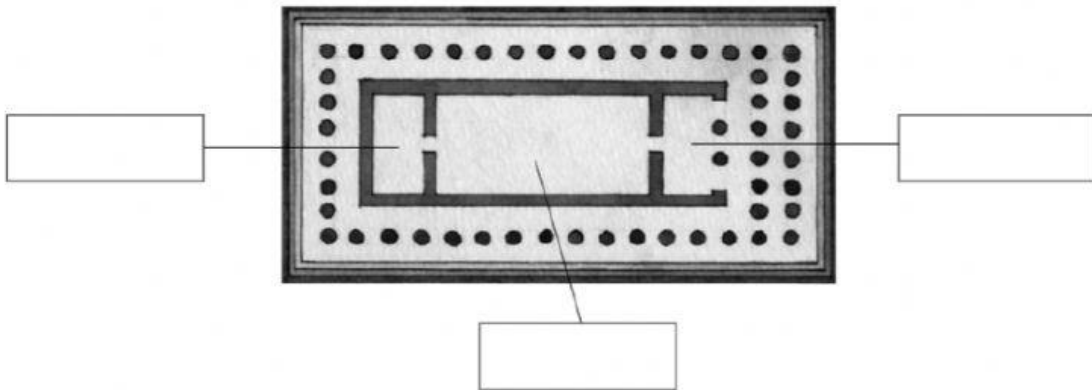
Columna

Capitel

Fuste

Parte II. El plano del templo griego

Arrastra el nombre que corresponde a las partes del templo griego en la planta arquitectónica




Pronaos

Naos

Opistódomo

Parte III. Los órdenes griegos

Ubica el nombre de cada orden según la columna correspondiente



Corintio

Dórico

Jónico

Parte IV. Edificaciones arquitectónicas de Grecia

Observa las imágenes y luego arrastra el nombre que corresponde a cada edificación.



Templo de Atenea

El Partenón

El ágora

La Acrópolis

Templo de Zeus

Templo Poseidón